

Adı :
Soyadı:

4. Sınıf
Matematik

Toplama İşlemi
Yaprak Test-3









2585

2565

2535

2575

1) Yukarıda verilen sayılardan hangilerinin toplamı 5150 sayısına eşittir?

- A)  
- B)  
- C)  
- D)  

$$2500 + 3600 + C = 8900$$

2) Yukarıda verilen toplama işleminde C sayısı kaç olmalıdır?

- A) 2900 B) 2800
C) 3000 D) 2700

$$1359 - 1365 - 1371 - 1377 - \dots\dots\dots$$

3) Yukarıda örüntünün ilk 4 terimi verilmiştir. Bu örüntünün 6.ve 7. terimlerinin toplamı hangisidir?

- A) 2784 B) 2786
C) 2785 D) 2787

$$\begin{array}{r} 2354 \\ + 975 \\ \hline \end{array}$$

.....

4) Yukarıda verilen toplama işleminde toplananlar en yakın onluğa yuvarlanarak sonuç tahmin ediliyor. Gerçek sonuçla tahmin edilen sonuç arasındaki fark kaçtır?

- A) 10 B) 12 C) 11 D) 13

Harcamalar	Tutar (TL)
Kira	2350
Yiyecek	2840
Ulaşım	1650
Eğitim	2510
Fatura	1670

5) Yukarıdaki tabloda Öztürk ailesinin aylık aile bütçesi gösterilmiştir. Öztürk ailesi toplam 7000 lira hangi harcamaları karşılayabilirler?

- A) Kira - Yiyecek - Ulaşım
B) Yiyecek - Eğitim - Fatura
C) Kira - Ulaşım - Fatura
D) Kira - Ulaşım - Eğitim

$$2500 + 2900 + \dots\dots\dots = 9000$$

6) Yukarıdaki toplama işleminde 3 toplanan aşağıdakilerden hangisidir?

- A) 3600 B) 3800
C) 3400 D) 3500

Adı :
Soyadı:

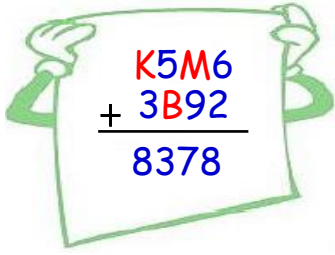
4. Sınıf
Matematik

Toplama İşlemi
Yaprak Test-3

$$\begin{array}{r} \text{AAAA} \\ + \text{BBBA} \\ \hline 5554 \end{array} \quad \begin{array}{r} \text{.....} \\ + \text{BABA} \\ \hline 5554 \end{array}$$

7) Yukarıdaki toplama işleminde birinci toplanan için hangisi yazılmalıdır?

- A) AABA B) ABBA
C) ABAA D) ABAB



$$\begin{array}{r} \text{K5M6} \\ + \text{3B92} \\ \hline 8378 \end{array}$$

8) Yukarıda verilen toplama işlemine göre $K+M+B$ işleminin sonucu kaçtır?

- A) 18 B) 17 C) 16 D) 19

$$\begin{array}{l} 2400 + A + 2400 = 8800 \\ A + 4000 = B \end{array}$$

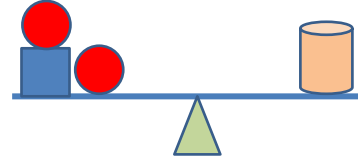
9) Yukarıda verilen toplama işlemine göre B sayısı aşağıdakilerden hangisidir?

- A) 8200 B) 8500
C) 8000 D) 7900

Basamaklar	1.Sayı	2.Sayı	3.Sayı
Onlar B.	0	40	70
Yüzler B.	200	0	800
Birler B.	6	0	8
Binler B.	2000	3000	0

10) Yukarıdaki tabloda 3 sayının basamak değerleri verilmiştir. Verilen sayıların toplamı kaçtır?

- A) 6124 B) 6234
C) 6104 D) 6134



11) Yukarıdaki terazinin iki tarafı birbirine eşit durumdadır. Kare 2385 sayısına, silindir de 5385 sayısına eşittir. Bir tane daire hangi sayıya eşittir?

- A) 1400 B) 1500 C) 1600 D) 1700

$$3000 < A < 5000$$

12) Yukarıda verilen sıralamada A yerine yazılabilecek en büyük ve en küçük sayının toplamı kaçtır?

- A) 8002 B) 8003
C) 8000 D) 7999

Adı :
Soyadı:

4. Sınıf
Matematik

Toplama İşlemi
Yaprak Test-3

Doğru :.....

Yanlış:.....

- 1 A B C D
2 A B C D
3 A B C D
4 A B C D
5 A B C D

- 6 A B C D
7 A B C D
8 A B C D
9 A B C D
10 A B C D

- 11 A B C D
12 A B C D
13 A B C D
14 A B C D
15 A B C D

- 16 A B C D
17 A B C D
18 A B C D
19 A B C D
20 A B C D