




Adı Soyadı : .....


Numarası : .....

Konu: Tek ve Çift Doğal Sayılar


Aşağıdaki tek sayıları maviye, çift sayıları yeşile boyayınız.



Aşağıdaki armutlar üzerinde yazılı olan sayıları uygun sepetlerle eşleştirelim.



Tek Sayılar



Çift Sayılar



Aşağıdaki noktalı yerleri üç basamaklı tek sayı olacak şekilde tamamlayınız.

36 .....	47 ....	98 ....	10 ....	33 ....	52 ....
44 .....	61 ....	23 ....	68 ....	90 ....	41 ....
72 .....	77 ....	13 ....	43 ....	55 ....	49 ....

Aşağıdaki sayıları tablodaki uygun bölümlere yazınız.

Tek Sayılar				Çift Sayılar			
348	404	603	14	478	503	807	300
245	308	906	161	787	900	520	717

Aşağıdaki soruları yanıtlayınız.

Üç basamaklı en büyük çift sayı:

Üç basamaklı en küçük çift sayı:

Üç basamaklı en büyük tek sayı:

Üç basamaklı en küçük tek sayı:

Rakamları birbirinden farklı üç basamaklı en büyük çift sayı:

Rakamları birbirinden farklı üç basamaklı en büyük tek sayı:

Rakamları birbirinden farklı üç basamaklı en küçük çift sayı:

Rakamları birbirinden farklı üç basamaklı en küçük tek sayı:

Aşağıdaki toplama işlemlerinin sonuçlarını tek sayı ise "T", çift sayı ise "Ç" yazınız.

$217 + 13$  Ç

$321 + 300$

$159 + 49$

$341 + 221$

$224 + 213$

$245 + 0$