


- 1) Sonu ünlü harf ile biten hecelere **açık hece**, sonu ünsüz harf ile biten hecelere **kapalı hece** denir

**Açıklamaya** göre aşağıdaki kelimelerden hangisinde **açık hece** yoktur?

- A) menekşe                      B) sebzeler  
C) kaybolmak                  D) lavabo


- 2)  atatürk 19 mayıs 1919'da Bandırma vapuru ile samsun'a çıktı.

Üstte büyük harf kullanımıyla ilgili kaç tane **hata** yapılmıştır?

- A) 4                                  B) 3  
C) 2                                  D) 1

- 3) Aşağıdaki **kelimelerden** hangisi **sözlükte** diğerlerinden sonra gelir?

- A) bilgisayar                      B) bilim  
C) bilet                                D) bilgi

- 4)  Onu oyuna çağırmadığım için bana çok kırılmış.

Verilen cümlede hangi kelime **mecaz** anlamda kullanılmıştır?

- A) oyuna                              B) onu  
C) çağırmadığım                  D) kırılmış

- 5) eş anlamlı kelimeler      eş anlamlı kelimeler      zıt anlamlı kelimeler



Her biri **meyve** ile eşleşen alanlara hangi örnekleri yapıştırırsak tamamı **doğru** olur?



- |    |              |              |             |
|----|--------------|--------------|-------------|
| A) | yanıt cevap  | cimri cömert | esir tutsak |
| B) | görev vazife | küçük ufak   | neşe sevinç |
| C) | fayda yarar  | temiz pak    | uzak yakın  |
| D) | tümsek çukur | usta acemi   | kuvvet güç  |

- 6) – Onun durumuna çok üzüldüm(1)  
– Of, yine baştan başlayacağım(2)  
– Yaşasın, Ayşe teyzem geliyor(3)  
– Düğüne sen de gidecek misin(4)

**Cümlelerin** sonundaki **yay ayraçlardan** hangilerine ünlem işareti gelmelidir?

- A) 1 ve 4                              B) 2 ve 3  
C) 3 ve 4                              D) 1 ve 2

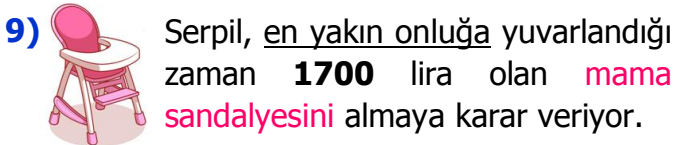
- 7) "**Ocak**" kelimesi hangi cümlede farklı bir anlamda kullanılmıştır?

- A) Ocakta pişen yemeğin mi var?  
B) Ocak ayında kar yağmadı.  
C) Komşumuzun mutfağında ocak yok.  
D) Eyvah, ocakta yemek unuttum!



Yukarıdaki rakamları **birer kez** kullanarak oluşacak dört basamaklı en küçük tek sayı kaçtır?

- A) 1043                      B) 1081  
C) 3041                      D) 4310



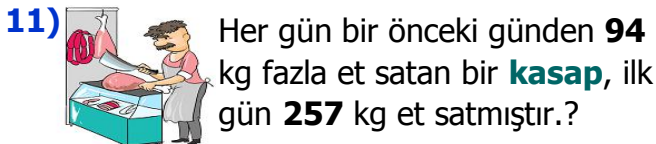
Buna göre **mama sandalyesi** en çok kaç lira olabilir.

- A) 1714                      B) 1709  
C) 1705                      D) 1704



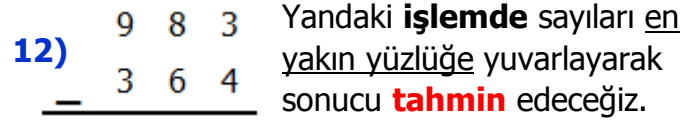
Yukarıdaki sayı örüntüsüne göre **A + B** kaçtır?

- A) 354                      B) 356  
C) 358                      D) 360



Buna göre **kasap**, **4.** gün kaç kg et satar?

- A) 351 kg                      B) 445 kg  
C) 539 kg                      D) 633 kg



Buna göre **gerçek** sonuç ile **tahmini** sonuç arasındaki fark kaçtır?

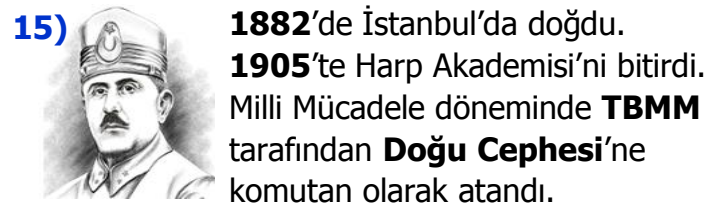
- A) 49                      B) 39  
C) 29                      D) 19

13) **Dengeli** beslenen biri, besin piramidine göre hangi besin içeriğini **daha az** tüketir?

- A) Yağlar ve tatlılar      B) Vitamin ve Mineral  
C) Karbonhidratlar      D) Proteinler

14) Aşağıdaki yeme ve içme alışkanlıklarından hangisi daha **sağlıklıdır**?

- A) Et ürünlerinden başka bir şey yemem.  
B) Mevsimine göre meyve-sebze yerim.  
C) Hamburger ve pizzayı yemeden duramam.  
D) Her kahvaltıda patates kızartması yerim.



Yukarıda bahsedilen **kişi** kimdir?

- A) İsmet İnönü              B) Ali Saip Bey  
C) Kazım Karabekir      D) Yörük Ali Efe

16) Top mermileri ıslanmasın ve kızı donmasın diye **şehit** olan, kahraman **Türk** kadını kimdir?

- A) Nene Hatun              B) Rahmiye Hanım  
C) Fatma Bacı              D) Şerife Bacı

# CEVAP ANAHTARI

- |       |       |
|-------|-------|
| 1) C  | 11) C |
| 2) A  | 12) D |
| 3) B  | 13) A |
| 4) D  | 14) B |
| 5) A  | 15) C |
| 6) B  | 16) D |
| 7) B  |       |
| 8) A  |       |
| 9) D  |       |
| 10) C |       |