



SONBAHAR GELDİ

Ağaçlar çıplak kaldı,
Döküldü yapraklar.
Günlerde pek kısaldı,
Gidiyor göçmen kuşlar.

Havalarda soğudu,
Başladı yağmur, rüzgar,
Uçurtma uçuruyor,
Hep okullu çocuklar.

Tarik ORHAN

Not: İlk 3 soruyu metne göre cevaplayınız.

1) Şiire göre aşağıdakilerden hangisi sonbahar mevsiminde oluşan değişikliklerden birisi **değildir**?

- A) Ağaçların çıplak kalması
- B) Havaların soğuması
- C) Günlerin uzaması

2) Şiiri göre sonbahar mevsiminde hangi hava olayı **görülmez**?

- A) Yağmur
- B) Rüzgar
- C) Kar

3) Şiirin 6.mısrasındaki dize kaç hecelidir?

- A) 7
- B) 6
- C) 5

4) Aşağıdaki altı çizili sözcüklerden hangisi "Ne zaman?" sorusuna cevap verir?

- A) Ormanda piknik yaptık.
- B) Sabah pazara gideceğiz.
- C) Gülerek bana bakıyordu.

5)

Müjdat



Dedemi ziyarete gideceğim.

Efe



Ne zaman?


Müjdat, Efe'nin sorusuna hangi cevabı verirse **doğru** olur?

- A) Dedemi bağ evinde ziyaret edeceğim.
- B) Dedemi özlediğim için ziyaret edeceğim.
- C) Dedemi hafta sonu ziyaret edeceğim.

6) Aşağıdaki cümlelerin hangisinde "Niçin?" sorusunun **yanıtı vardır**?

- A) Hastalandığı için ödevlerini yapamadı.
- B) Ali terli terli su içiyor.
- C) Ormanda salıncak kurup sallandık.


7) Aşağıdaki sözcüklerin hangisi "Nerede?" sorusuna yanıt **olamaz**?



8) Kalem masadan yere düştü.
1 2 3

Yukarıdaki cümlede kaç numaralı sözcük "Ne?" sorusunun cevabıdır?

A) 1 B) 2 C) 3

9)  İki doğal sayının toplamı 85'tir. Bu sayılardan biri 45'tir.

Verilen bilgilere göre Seda'nın sözünü ettiği **diğer sayı** kaçtır?

A) 45
B) 40
C) 35

10)

$$24 + \text{★} = 58$$

Yukarıda verilen toplama işleminde verilmeyen toplanan "★" kaçtır?

A) 82 B) 34 C) 46

11)

$$\text{■} + 25 = 50$$
$$35 + \text{▲} = 60$$

Yukarıda verilenlere göre $\text{■} + \text{▲}$ işleminin sonucu kaçtır?

A) 50 B) 55 C) 60

12)



35 TL



23 TL



Jale yukarıdaki fiyatları verilen elbise ile şemsiyeyi satın almak istiyor. Tahmini olarak kaç para ödeyecektir?

A) 50
B) 60
C) 70

13) Selim'in dedesinin çiftliğinde 36 keçi ve 23 koyun vardır. Selim hayvan sayılarını önce tahmini daha sonra gerçek sonucu topluyor. Tahmini sonuç ile gerçek sonuç arasındaki **farkı** kaç bulmuştur?

- A) 1 B) 2 C) 3

14)

İşlem	Tahmin	İşlemin sonucu
$\begin{array}{r} 57 \\ + 31 \\ \hline \end{array}$	$+ \underline{\quad}$	$+ \underline{\quad}$

Yukarıda verilen toplama işleminde gerçek sonuç ile tahmini sonucun arasındaki **fark** kaçtır?

- A) 3 B) 2 C) 1

15) $24 + 49$ işleminin tahmini sonucu ile gerçek sonucu arasındaki **fark** kaçtır?

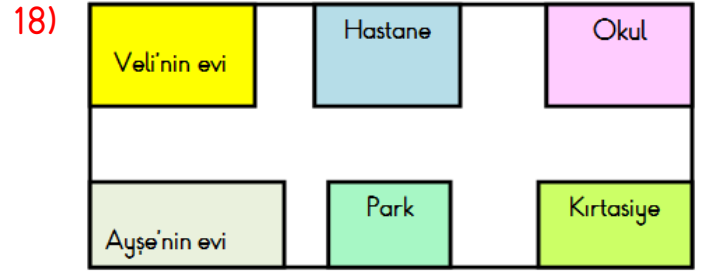
- A) 1 B) 2 C) 3

16) Sinan eve giderken kaybolmuştur. Aşağıdakilerden hangisini bilmesi Sinan'a yardımcı olur?

- A) Babasının adı
B) Ev adresi
C) Apartman rengi

17) Hangisi adres ve aile telefonlarını ezbere bilmenin faydalarından **değildir**?

- A) Kaybolduğumuzda bu bilgilerle evimize ulaşırız.
B) Acil durumlarda yardım çağırabiliriz.
C) Yabancılara adres ve telefon bilgilerimizi verebiliriz.



Yukarıdaki şekle göre hangisini **söyleyemeyiz**?

- A) Park'ın sol tarafında Ayşe'nin evi vardır.
B) Okulun karşısında kırtasiye vardır.
C) Veli'nin evi, hastanenin sağındadır.

19) Adres bilgilerimizde aşağıdakilerden hangisi **yer almaz**?

- A) Daire numarası B) Sokak adı
C) Telefon numarası

- 20)
- | | |
|----------------|----------------|
| Binanın şekli | Cadde adı |
| Daire numarası | İl ve ilçe adı |

Yukarıda verilen bilgilerden kaç tanesi **adres bilgilerinde** yer almaktadır?

- A) 4 B) 3 C) 2

Cevap Anahtarı

1)C 2)C 3)A 4)B 5)C
6)A 7)C 8)A 9)B 10)B
11)A 12)B 13)A 14)B 15)C
16)B 17)C 18)C 19)C 20)B