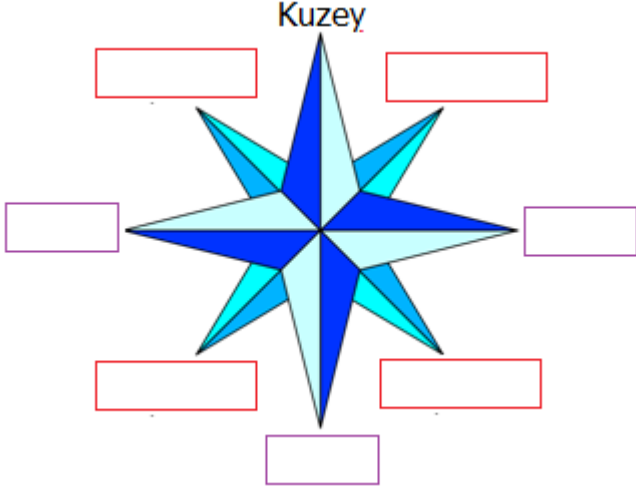




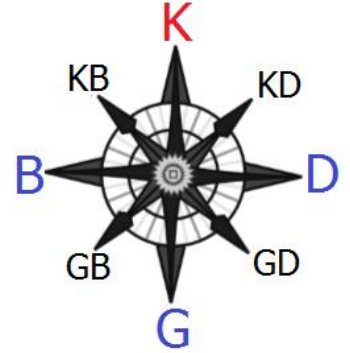
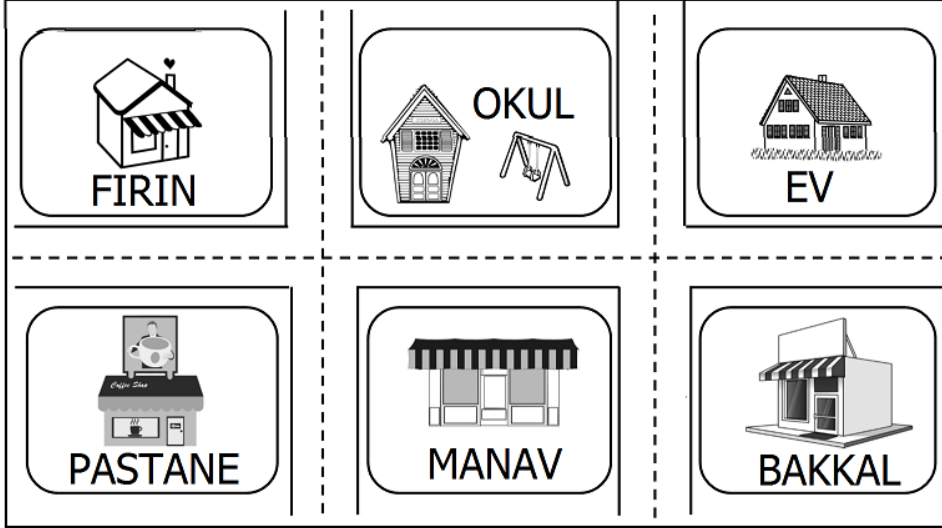
Pusulaya yönleri yazıp **boşlukları** doldurunuz.



1. Güneş doğar.
2. Güneş batar.
3. Güneşin doğduğu noktayı sağımıza alınca önümüz arkamız olur.
4. Pusula yatay olarak tutulduğunda renkli uç daima gösterir.
5. Kuzey ile doğu arasında bulunur.
6. Kuzey ile batı arasında bulunur.
7. Güney ile doğu arasında bulunur.
8. Güney ile batı arasında bulunur.



Görsele göre **cümlelerden** doğru olanlara **D**, yanlış olanlara **Y** yazınız.



- | | |
|--|--|
| <input type="checkbox"/> Pastane, manavın batısındadır. | <input type="checkbox"/> Ev, fırının doğusundadır. |
| <input type="checkbox"/> Bakkal, okulun güneybatısındadır. | <input type="checkbox"/> Bakkal, evin güneyindedir. |
| <input type="checkbox"/> Fırın, pastanenin kuzeyindedir. | <input type="checkbox"/> Fırın, manavın kuzeybatısındadır. |
| <input type="checkbox"/> Okul, manavın kuzeybatısındadır. | <input type="checkbox"/> Pastane, evin kuzeydoğusundadır. |