

Adı :
Soyadı:

4. Sınıf
Matematik

Çıkarma İşlemi
Yaprak Test-1

6200

.....

2513

1) Yukarıda verilen toplama işleminde toplanan sayılardan biri verilmemiştir. Verilmeyen sayı kaçtır?

- A) 3587 B) 3687 C) 3677 D) 3657

$$\begin{array}{r} 5 \square 4 \triangle \\ + 2 \star 5 \\ \hline 6196 \end{array}$$

2) Yukarıda verilen eşitlikte verilmeyen şekillerin yerine yazılabilecek rakamların toplamı kaçtır?

- A) 15 B) 16 C) 17 D) 18

$$\begin{array}{r} 8AC0 \\ - D47B \\ \hline 5324 \end{array}$$

$$\begin{array}{r} ABCD \\ - DCBA \\ \hline ? \end{array}$$

3) Yukarıda verilen çıkarma işlemine göre ? yerine hangisi yazılmalıdır?

- A) 6445 B) 6345 C) 5355 D) 5445

4) Ali'nin cebinde 750 lirası daha olsaydı 8000 lira parası olacaktı. Ali parasından 3100 TL harcadığına göre, Ali'nin geriye kaç lira parası kalmıştır?

- A) 4250 B) 4200 C) 4150 D) 4350

5) Bir toplama işleminde birinci toplanan 3642, ikinci toplanan 2918 ve toplam 8714 olduğuna göre üçüncü toplanan kaçtır?

- A) 2154 B) 5072 C) 5274 D) 2356

$$A + 1786 = 3912$$

$$A + B = 5891$$

$$C + A = B$$

6) Yukarıda verilen toplama işlemlerine göre "C + B - A" işleminin sonucu kaçtır?

- A) 2126 B) 3765 C) 5891 D) 7530

7) 8 binlik 4 yüzlük 5 birlikten oluşan sayıdan 3 binlik 6onluk 2 birlik çıkarılırsa sonuç kaç olur?

- A) 5443 B) 5333
C) 5343 D) 5323

8) 4062 fazlası 8794 olan sayının 1596 eksiği kaçtır?

- A) 12856 B) 3136 C) 4732 D) 11260

9) 6371 sayısı dört basamaklı en büyük çift sayıdan kaç eksiktir?

- A) 3628 B) 3629 C) 3627 D) 3626

Adı :
Soyadı:

4. Sınıf
Matematik

Çıkarma İşlemi
Yaprak Test-1

10) Ablam, abimden 3 yaş küçüktür. Ben ablamdan 21 yaş küçüğüm. Abim 43 yaşında ise ben kaç yaşındayım?

- A) 19 B) 22 C) 20 D) 21

11) Bir çıkarma işleminde çıkan 255, fark 1311 ise eksilen kaçtır?

- A) 1566 B) 1056 C) 1567 D) 1666

12) Ahmet Bey kış gelmeden önce 25 kg'lık 85 torba kömür almıştır. Kışın kömürlerin 1800 kilosunu kullanmıştır. Geriye ne kadar kömür kalmıştır?

- A) 340 B) 325 C) 315 D) 320

13) Fikret bir günde 1816 adet, Hasan ise 2346 adet fındık toplamıştır. İki toplanan tüm fındıkların 2518 tanesini satmıştır. Geriye kaç fındık kalmıştır?

- A) 1564 B) 1740 C) 1844 D) 1644

14) 6485 TL'ye aldığımız buzdolabının 360 TL'lik iki taksitini ödedik. Geriye kaç TL borcumuz kalmıştır?

- A) 6120 B) 6125 C) 5765 D) 5785





6006-2002

5005-1001

7007-4003

8008 - 4004

15) Yukarıda verilen işlemlerden hangisinin sonucu farklıdır?

- A)  B)  C)  D) 

16) 6915 - 2408 işleminin sonucu için aşağıdaki ifadelerden hangisi doğrudur?

- A) Çift sayıdır.
B) Sayı değerleri toplamı 15'tir.
C) Onlar basamağında 0 (sıfır) vardır.
D) Binler basamağının basamak değeri 4'tür.

Birler bölümü	Binler bölümü
005	006

17) Yukarıda bölükleri verilmiş sayıdan 1328 sayısı çıkarsa sonuç kaç olur?

- A) 4677 B) 4577 C) 3678 D) 3668

8175-2413

17) Yukarıdaki çıkarma işleminin sonucu hangi onluklar arasındadır?

- A) 5270-5280 B) 5250-5260
C) 5200-5300 D) 5260-5270

Adı :
Soyadı:

4. Sınıf
Matematik

Çıkarma İşlemi
Yaprak Test-1

Doğru :

Yanlış:.....

- 1 A B C D
2 A B C D
3 A B C D
4 A B C D
5 A B C D

- 6 A B C D
7 A B C D
8 A B C D
9 A B C D
10 A B C D

- 11 A B C D
12 A B C D
13 A B C D
14 A B C D
15 A B C D

- 16 A B C D
17 A B C D
18 A B C D
19 A B C D
2 A B C D