

Adı :
Soyadı:

4. Sınıf
Matematik

Çıkarma İşlemi
Yaprak Test-3

1) Meyve yüklü bir kamyonet 9 700 kg gelmektedir. Kamyonette 1458 kg elma, 1065 kg armut, 1386 kg portakal vardır. Kamyonetteki meyveler boşaltılınca kamyonetin ağırlığı kaç kg olur?

- A) 5781 B) 5802 C) 5791 D) 5709

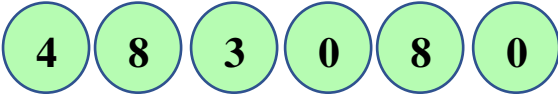


2) Yukarıda verilen sayı örüntüsünde B-A işleminin sonucu kaçtır?

- A) 800 B) 9000 C) 1000 D) 6000

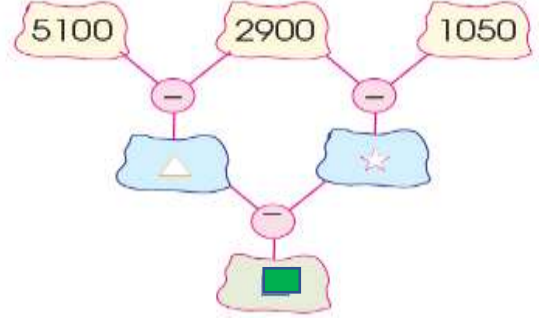
3) Bir mağazada televizyonun fiyatı 8650 TL'dir. Çamaşır makinesinin fiyatı ise televizyondan 2340 TL ucuzdur. İki ürünü de alan biri kaç lira ödeyecektir?

- A) 15860 B) 14960 C) 14890 D) 14860



4) Yukarıda verilen rakamlardan sadece 4 tanesini kullanarak yazılabilecek en büyük sayı ile en küçük sayının farkı kaç eder?

- A) 5639 B) 5849 C) 5749 D) 5839



5) Yukarıda verilen şemaya göre ■ yerine hangi sayı gelmelidir?

- A) 350 B) 550 C) 780 D) 250

Harcamalar	Tutar
Kira	2500 TL
Eğitim	950 TL
Ulaşım	580 TL
Gıda	3850 TL
Fatura

6) Her ay 9100 TL maaş alan Hakan Bey tabloya göre harcamalar yapıyor. Faturaları da ödeyince cebinde 400 TL para kalıyor. Hakan Bey faturalar için ne kadar ödemiştir?

- A) 950 B) 880 C) 1220 D) 820

7) Antalya Müzesi'ni geçen hafta 4235 kişi ziyaret etmişti. Bu hafta ise geçen haftadan 1209 kişi az ziyaret etmiştir. İki haftada müzeyi kaç kişi ziyaret etmiştir?

- A) 7351 B) 7361 C) 7261 D) 7251

Adı :
Soyadı:

4. Sınıf
Matematik

Çıkarma İşlemi
Yaprak Test-3

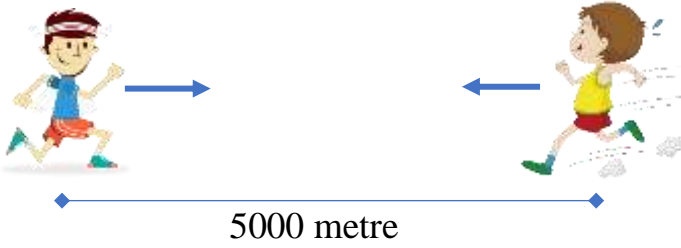
8) Ayten Hanım; mağazadan aldığı televizyon, ütü ve mikser için toplam 7650 TL ödemiştir. Televizyon 5750 TL, ütü 1540 TL olduğuna göre mikser kaç TL'dir?

- A) 640 B) 540 C) 530 D) 630

Evlül	Ekim	Kasım	Aralık
2450	2340	2085

9) Aslı Hanım çalıştığı yerden 4 ayda toplam 10.000 TL para kazanmıştır. Tabloya göre kasım ayında kaç TL para kazanmıştır?

- A) 3125 B) 2905 C) 3025 D) 3005



10) Aykut ile Erhan arasında 5000 metre mesafe var. Aykut 1420 metre, Erhan da 1210 metre koşunca mola veriyorlar. Mola verince iki çocuk arasında kaç metre mesafe kalmıştır?

- A) 2480 B) 2470 C) 2370 D) 2380

11) Okulumuzun 1869 öğrenci vardır. Kızların sayısı 896 olduğuna göre erkeklerle kızların arasındaki fark kaçtır?

- A) 86 B) 77 C) 74 D) 87



12) İstanbul'dan Van'a giden bir kişi 443 km gidince Ankara'da mola veriyor. Daha sonra 434 km gidince Sivas'ta mola veriyor. İstanbul-Van arası 1687 km olduğuna göre Sivas'tan Van'a kadar kaç km gitmiştir?

- A) 820 B) 830 C) 800 D) 810

+	1450	1840
1750		B
1680	A	

Ayşe'nin okuduğu sayfa: A-750

Esmâ'nın okuduğu sayfa: B-840

13) Ayşe ve Esmâ'nın tatilde okuduğu kitapların toplam sayfa sayıları yukarıda verilmiştir.

- A) 380 B) 270 C) 370 D) 280

14) Bir çıkarma işleminde fark 2000'dir. Çıkan sayı farkın 3 katından 1700 eksiktir. Eksilen sayı kaçtır?

- A) 6300 B) 6400 C) 6200 D) 6500

Adı :
Soyadı:

4. Sınıf
Matematik

Çıkarma İşlemi
Yaprak Test-3

Doğru :

Yanlış:.....

- 1 A B C D
2 A B C D
3 A B C D
4 A B C D
5 A B C D

- 6 A B C D
7 A B C D
8 A B C D
9 A B C D
10 A B C D

- 11 A B C D
12 A B C D
13 A B C D
14 A B C D
15 A B C D

- 16 A B C D
17 A B C D
18 A B C D
19 A B C D
2 A B C D