





1)

Ay, Dünya'nın uydusudur.	Kardeşim İngilizce konuşabilir.
Ayşe Teyze hasta olmuş.	Ben Sürprizleri severim.

Tablolardaki cümlelerden, **özel isimlerde** hata yapılanları boyarsak nasıl bir görüntü oluşur?

- A)  B) 
- C)  D) 

2) "Cimri olanlar, cömert olmayı bilmezler." cümlesinde altı çizili sözcükler arasındaki **anlam** ilişkisi aşağıdakilerden hangisinde yoktur?

- A) evli – bekâr B) basit – kolay
C) usta – acemi D) pahalı – ucuz

3) Aşağıdaki cümlelerden hangisinde **kısa çizgi (-)** yanlış kullanılmıştır?

- A) Kardeşim - 13.30 - 16.00 - arasında sınavda olacak.
B) Yarın arkadaşlarımla birlikte sinemaya gideceğiz.
C) Bir ay süreyle Ankara-İstanbul uçak seferleri durduruldu.
D) Bütün bebekler -Zeynep hariç- çoktan uykuya dalmışlardı.

4)

Babam şöyle cevap verdi ()
() Evet () sana bu ay bisiklet alabiliriz ()

Yukarıdaki cümlelerde **yay ayraçların** yerine, sırasıyla hangi noktalama işaretleri gelmelidir?

- A) (:) (-) (,) (.)
B) (.) (`) (.) (.)
C) (.) (-) (,) (!)
D) (:) (-) (.) (?)

5) Aşağıdaki **cümlelerden** hangisi **hayali** unsurlar içermez?

- A) Bahar gelince doğa neşeye şarkılar söyler.
B) Öfkeli rüzgâr, bulutları kovalıyor.
C) Bugün kümeste yumurta yoktu.
D) Yalnız kaldığımda kitaplarla sohbet ederim.


6) Seni boydan boya sevmişim,
Ta Kars'a kadar Edirne'den.
Toprağını, taşını, dağlarını,
Fırsat buldukça övmüşüm.
dörtlüğünün **ana duygusu** nedir?

- A) Geçmişe özlem B) Vatan sevgisi
C) Aile sevgisi D) Ayrılık korkusu

7) Aşağıdaki sayılardan hangisi diğerlerinden daha **küçüktür**?

- A) Yüz bin kırk B) Seksen bin
C) Kırk bin kırk D) Yetmiş bin bir

8)



Yukarıdaki **rakamlarla** oluşturulabilecek; **rakamları farklı dört basamaklı en küçük** ve **rakamları farklı üç basamaklı en büyük** sayıların **toplamı** kaçtır?

- A) 9 yüzlük + 8 onluk + 5 birlik
 B) 2 binlik + 5 yüzlük + 1 onluk
 C) 3 binlik + 4 onluk + 7 birlik
 D) 4 binlik + 4 onluk + 3 birlik

9) Her yıl bir önceki yıldan **285** tane daha az ağaç diken **Veysel**, ilk yıl **1564** tane ağaç dikmiştir. Buna göre **Veysel** 3 yıl sonunda toplam kaç ağaç dikmiş olacak?

- A) 3837 B) 3787
 C) 3617 D) 3547

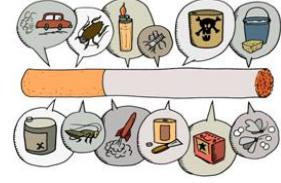
10) **426** **433** **440** **A** **454** **461**
 Yukarıdaki sayı örüntüsüne göre **A** yerine gelecek sayının **en yakın** onluğu kaçtır?

- A) 400 B) 420
 C) 450 D) 500

11) Aklımdan tuttuğum sayının **457** fazlası **2000**'dir. Buna göre aklımdan tuttuğum sayının **845** eksiği kaçtır?

- A) 578 B) 698
 C) 923 D) 1543

12)



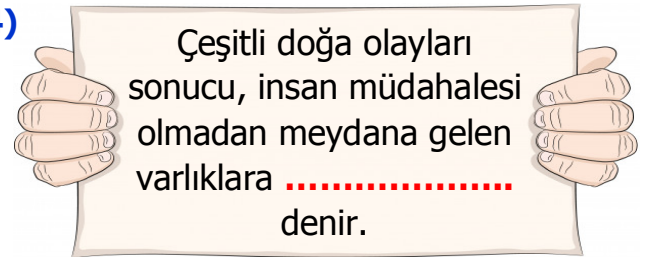
Sigara ile ilgili aşağıdaki bilgilerden hangisi **yanlıştır**?

- A) Sigarada birçok zehirli madde bulunur.
 B) Sigara dumanı akciğerlere zarar verir.
 C) Sigara beyne giden oksijeni azaltır.
 D) Sigara sadece içen kişiye zarar verir.

13) Aşağıdakilerden hangisi **bilinçli** tüketici davranışıdır?

- A) Ürünlerin son kullanma tarihine bakmaz.
 B) Paketi açılmış gıdaları satın alır.
 C) Gıdaların içeriklerine dikkat eder.
 D) Ürünlerin TSE damgasına dikkat etmez.

14)



Yukarıdaki tanımda **noktalı alana** aşağıdakilerden hangisi yazılmalıdır?

- A) doğal unsurlar B) canlı unsurlar
 C) yapay unsurlar D) beşeri unsurlar

15) Aşağıdaki **örneklerden** hangisi beşeri unsurlara örnek **değildir**?

- A) binalar B) dağlar
 C) köprüler D) parklar

CEVAP ANAHTARI

- | | |
|------|-------|
| 1) D | 10) C |
| 2) B | 11) B |
| 3) A | 12) D |
| 4) A | 13) C |
| 5) C | 14) A |
| 6) B | 15) B |
| 7) C | |
| 8) D | |
| 9) A | |