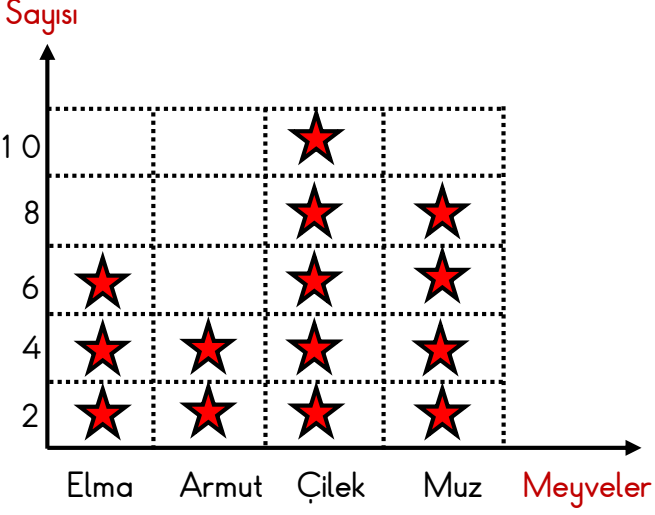



VERİ TOPLAMA VE DEĞERLENDİRME

1. Etkinlik: Aşağıdaki grafikteki bilgilere bakarak çetele ve sıklık tablosu oluşturalım.

GRAFİK

Grafik: Sınıfta Sevilen Meyveler



Grafikte her  2 kişiyi göstermektedir.

ÇETELE TABLOSU

Tablo:

| | |
|--|--|
| | |
| | |
| | |
| | |
| | |

SIKLIK TABLOSU

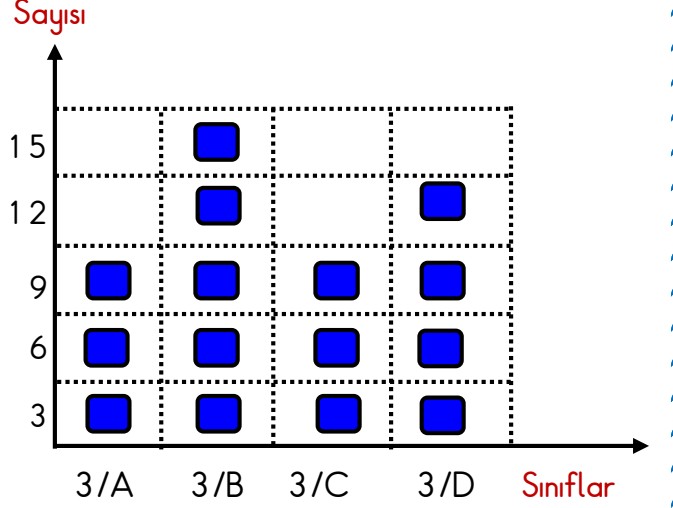
Tablo:

| | |
|--|--|
| | |
| | |
| | |
| | |
| | |

2. Aşağıdaki grafikteki bilgilere bakarak çetele ve sıklık tablosu oluşturalım.

GRAFİK

Grafik: 3. Sınıflardaki Erkek Öğrenci Sayıları



Grafikte her  3 öğrenciyi göstermektedir.

ÇETELE TABLOSU

Tablo:

| | |
|--|--|
| | |
| | |
| | |
| | |
| | |

SIKLIK TABLOSU

Tablo:

| | |
|--|--|
| | |
| | |
| | |
| | |
| | |