

2. Sınıflar Kazanım Deęerlendirme Testi-1



TÜRKÇE
HAYAT BİLGİSİ
MATEMATİK
TOPLAM

13 SORU
12 SORU
15 SORU
40 SORU



omeruslu06etkinlikleri

Yirmi Dokuz Ekim'de,
Cumhuriyet kuruldu
Ulus özgür sesini,
Tüm dünyaya duyurdu.

Cumhuriyet bizlere
Armağandır Ata'dan
Egemenlik sesleri
Yükseldi Ankara'dan.

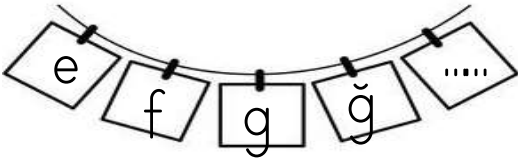
1 ve 2. soruyu şiire göre cevaplayalım.

1) Şiirin konusu ne olabilir?

- A) Cumhuriyet B) Oyun
C) Okul

2) Egemenlik sesleri nereden yükselmiş?

- A) Samsun'dan B) Ankara'dan
C) İstanbul'dan



3)

Yukarıdaki alfabetik sıralamada noktalı yere hangi harf gelmelidir?

- A) ı B) i C) h

4) Aşağıdaki sözcüklerden hangisinin hece sayısı "kırtasiye" sözcüğü ile aynıdır?

- A) kitaplık B) gazeteci
C) arkadaş

5) Aşağıdaki görsellerden hangisi sözlük sıralamasında en sonda yer alır?

- A) patlıcan
B) havuç
C) mısır

6) Alfabemizin ilk ve son harfleri aşağıdakilerden hangisidir?

- A) a-y B) b-z C) a-z

“Ayşe dişlerini fırçaladı.”

7)

Cümlesinde toplam kaç hece vardır?

- A) 11 B) 10 C) 9



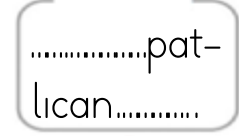
8) Aşağıdaki cümlelerin hangisinde zıt anlamlı sözcükler bir arada kullanılmıştır?

- A) Melike bugün çok üzgündü.
B) Siyah kalemimi kaybettim.
C) Çay sıcak mı , soğuk mu?

9) Hangi kelimenin eş anlamlısı “güz”dür?



10) Satır sonuna sığmayan hangi kelime doğru olarak bölünmüştür?

- A)  B) 
- C) 

11) Aşağıdaki cümlelerin hangisinin yazımında yanlılık yapılmıştır?

- A) 29 ekim 2020
B) Cumhuriyet Bayramı yaklaştı.
C) Dolunay Mahallesi

12) Aşağıdaki cümlelerin hangisinin sonuna noktalama işareti yanlış konmuştur?

- A) Ağaçları suladın mı?
B) Eyvah, geç kaldım.
C) Okul servisini kaçırdım.

13) Aşağıdaki cümlelerin hangisinde özel isim sayısı diğerlerinden daha fazladır?

- A) Ahmet, Ali ve Ece parka gitti.
B) İstanbul ve Ankara çok kalabalık.
C) Annem Samsun'a gitti.

1) Aşağıdakilerden hangisi fiziksel özelliktir?

- A) Basketbol oynamak
- B) Mavi gözlü olmak
- C) güzel resim yapmak

2) Aşağıdaki bilgilerden hangisi yanlıştır?

- A) Hoşlandığımız işleri yapmak bizi mutlu eder.
- B) Herkesin yeteneği farklıdır.
- C) Her şeyi tek başımıza yapabiliriz.

	Pazartesi
1. Ders	Hayat Bilgisi
2. Ders	Türkçe
3. Ders	Türkçe
4. Ders	Matematik
5. Ders	Görsel Sanatlar
6. Ders	Beden Eğitimi ve Oyun

3. Yukarıdaki bir günlük ders programına göre aşağıdaki bilgilerden hangisi doğrudur?

- A) İkinci ve üçüncü ders Türkçe'dir.
- B) İlk dersimiz matematiktir.
- C) Son ders müziktir.

4. Aşağıdakilerden hangisi yanlıştır?

- A) Okuldaki lambaları gereksiz yere yakmamalıyız.
- B) Tuvaletlerdeki muslukları açık bırakmalıyız.
- C) Sıralarımızı temiz tutmalıyız.

5. Aşağıdakilerden hangisi iletişim kurarken uymamız gerek kurallar içinde yer almaz?

- A) Konuşan kişinin sözünü kesmeliyiz.
- B) Konuşana ve anlattıklarına önem vermeliyiz.
- C) Konuşanın dikkatini dağıtmamalıyız.



Sınıfta kararları beraber alınız.



Farklı görüşlere, önerilere saygılı olmalıyız.



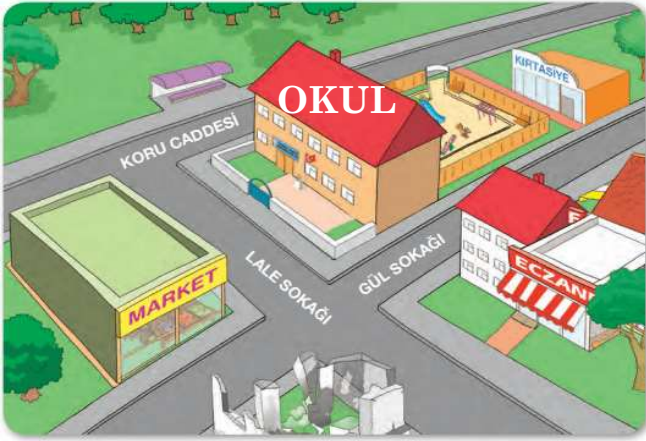
Düşüncelerimizi nezaket kuralları içinde söylemeliyiz.

6) Yukarıdaki bilgilerden kaç tanesi doğrudur?

- A) 3
- B) 2
- C) 1

7. İkinci sınıfa giden Yusuf aşağıdakilerden hangisini yapamaz?

- A) Yemek masasının hazırlanmasına yardım edebilir.
- B) Çantasını ders programına göre düzenleyebilir.
- C) Yemek pişirebilir.



8. Yukarıdaki görsele göre okulun etrafında aşağıdakilerden hangisi yoktur?

- A) Hastane
- B) Eczane
- C) Market

9. Hatice, yere düşen arkadaşı Zeynep'i yerden kaldırdı.

Bu durumda Zeynep ne yapmalıdır?

- A) "İyi günler" demelidir.
- B) Teşekkür etmelidir.
- C) Özür dilemelidir.

10. Arkadaşlarımızla hazırlayacağımız bir grup çalışması etkinliğinin başarıya ulaşması için hangisine gerek yoktur?

- A) İş birliği yapmak
- B) Sorumlulukları yerine getirmek
- C) Sabırsız davranmak.

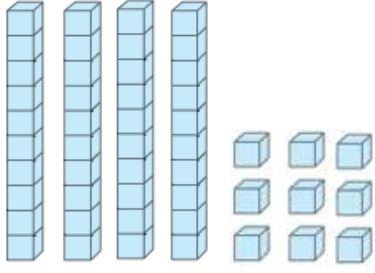
11. Orhan, güzel resim yapar.
Selma güzel şarkı söyler.

Yukarıdaki bilgilere göre çocukların hangi özellikleri anlatılmaktadır?

- A) fiziksel
- B) yetenek
- C) komik olduklarını

12. Aşağıdakilerden hangisi okulumuzun yakın çevresini tanımamızın yararlarından biri değildir?

- A) Okulumuzun yerini kolaylıkla tarif ederiz.
- B) Fiziksel özelliklerimizi tanımış oluruz.
- C) İhtiyaçlarımızı karşılayabilecek yerleri öğrenmiş oluruz.



1.

Taban bloklarıyla gösterilen sayı kaçtır?

- A) 94 B) 49 C) 48

2. 6 birlik 7 onluktan oluşan sayı aşağıdakilerden hangisidir?

- A) 67 B) 76
C) 61

3. Aşağıdaki varlıklardan hangisi bir destedir?

- A) B) C)

4. Aşağıdaki sayılardan hangisinin onlar basamağındaki rakamın basamak değeri seksendir?

- A) 85 B) 58 C) 78

5.

Yukarıdaki sayılardan en büyük ve en küçük sayı hangisi olur?

A)

En büyük	En küçük
68	56

B)

En büyük	En küçük
49	68

C)

En büyük	En küçük
68	49

6. Yukarıdaki sayılardan kaç tanesi 52 ve 56 arasındadır?

- A) 3 B) 4 C) 5

7. Aşağıdaki sayılardan hangisinin okunuşu yanlış verilmiştir?

- A) 79 Yetmiş dokuz
B) 67 Altmış yedi
C) 84 Seksen beş

8. 1 düzine silgi + 5 silgi = ?

Yukarıdaki silgilerin toplamı kaçtır?

A) 17 B) 15 C) 8



9. Yukarıdaki sayıdan başlayıp geriye doğru 3'er saydığımızda "?" olan kutuya hangi sayı gelmelidir?

A) 18
B) 21
C) 15

10. Aşağıdaki örüntülerden hangisinin kuralı diğerlerinden farklıdır?

A) 10 - 12 - 14 - 16 - 18
B) 3 - 5 - 7 - 9 - 11
C) 20 - 25 - 30 - 35 - 40

87

11.

Yukarıda belirtilen sayı hangi onluklar arasındadır?

A) 70 → 80
B) 80 → 90
C) 60 → 70

12. Birler basamağı 3, onlar basamağı 5 olan sayı en yakın hangi onluğa yuvarlanır?

A) 40 B) 50 C) 30

13. 16 'dan başlayarak ileriye doğru 4' er saydığımızda 4. saymada hangi sayı söyleriz?

A) 28 B) 32 C) 36

14.

38 35 44 34 43

Yukarıdaki sayılardan kaç tanesi 40 'a yuvarlanır?

A) 4 B) 3 C) 2

15.

75 57 69 64 81

Yukarıdaki sayıları büyükten küçüğe doğru sıraladığımızda sıralama nasıl olur?

A) 81 75 64 57 67
B) 57 64 69 75 81
C) 81 75 69 64 57

CEVAPLAR

Soru	Türkçe	Hayat Bil.	Matematik
1.	A	B	B
2.	B	C	B
3.	C	A	C
4.	B	B	A
5.	A	A	C
6.	C	A	A
7.	B	C	C
8.	C	A	A
9.	C	B	A
10.	C	C	C
11.	A	B	B
12.	B	B	B
13.	A		A
14.			A
15.			C