

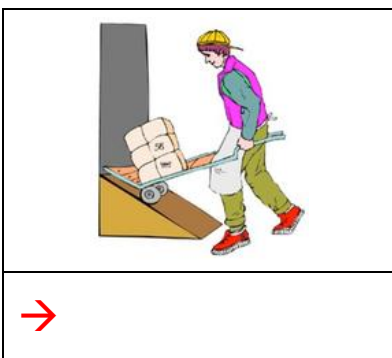



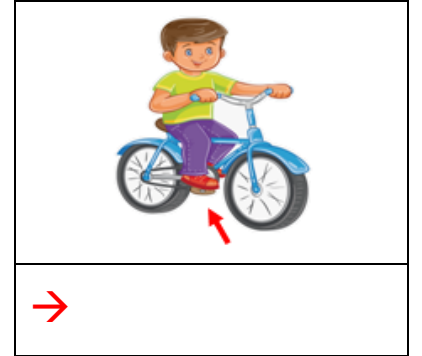








Aşağıdaki **görsellerin** altına uygulanan kuvvete göre **itme** veya **çekme** yazınız.





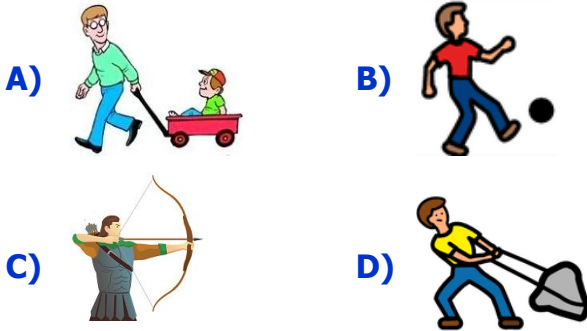
Aşağıdaki **cümlelerden** doğru olanlara **D**, yanlış olanlara **Y** yazınız.

1	Canlıların hareketi için dışarıdan bir kuvvete ihtiyaç yoktur.	→	<input type="checkbox"/>
2	Cansız varlıklar, canlılar gibi kendiliğinden hareket edebilirler.	→	<input type="checkbox"/>
3	Salıncağın hızlanması için itme kuvveti uygulamamız gerekir.	→	<input type="checkbox"/>
4	Hareketli cisim, hareketine zıt yönde kuvvet uygulanırsa durabilir.	→	<input type="checkbox"/>
5	Kuvvet uygulayarak hareketli cisimlerin yönlerini değiştiremeyiz.	→	<input type="checkbox"/>
6	Esnek cisimlere kuvvet uygulandığında şekilleri değişebilir.	→	<input type="checkbox"/>
7	Oyun hamuru, pet şişe ve bakır tel esnek olmayan cisimlerdir.	→	<input type="checkbox"/>



Aşağıdaki **soruları** cevaplayınız.

1) Aşağıdaki şıklardan hangisinde farklı bir **kuvvet** çeşidi içeren görsel vardır?



2) Cisimleri hareket ettirebilmek için onları ya çekeriz ya da iteriz. Aşağıdakilerden hangisi **itme** kuvvetine örnek verilebilir?

- A) Dalından elmayı koparmak  
 B) Buzdolabının kapağını açmak  
 C) Duvardaki çiviği çıkarmak  
 D) Kumandanın tuşlarına basmak

3) Matkapla delik delmek	Salıncakta birini sallamak
Uçurtmanın ipini tutmak	Prizden fişi çıkarmak

Yukarıdaki cümlelerden kaç tanesi **çekme** kuvvetine örnek olarak verilebilir?

- A) 3 B) 4  
 C) 1 D) 2

4) Aşağıdaki cümlelerden hangisi kuvvetin kalıcı şekil değiştirici etkisine örnek verilemez?

- A) Cam şişeye taşla vurmak  
 B) Topa ayağımızla vurmak  
 C) Balta ile odun kesmek  
 D) Kâğıdı makasla kesmek