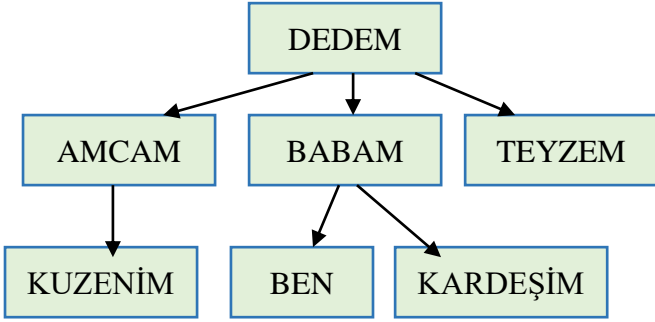


Adı :
Soyadı:

4. Sınıf
Sosyal Bilgiler

Geçmişimi Öğreniyorum
Yaprak Test-5







1- Yukarıdaki soyağacında yapılan hata nasıl düzeltilmelidir?

- A) "Kuzenim" yerine "yeğenim" yazılmalıdır.
- B) "Babam" yerine "annem" yazılmalıdır.
- C) "Teyzem" yerine "halam" yazılmalıdır.
- D) "Teyzem" yerine "annem" yazılmalıdır.

2- Kültürel değerlerimiz için aşağıdaki ifadelerden hangisi yanlıştır?

- A) Kültürel öğeler, gelecek nesillere aktarılırken hiç değişmez.
- B) Atatürk, kültürümüzün korunması için bazı kurumlar açmıştır.
- C) Kültürel özelliklerimiz ülkemizin her yerinde farklı olabilir.
- D) Kültürel öğeler toplumda birlik ve beraberliği güçlendirir.

3- Aşağıdaki spor dallarından hangisi kültürümüze ait bir spor dalıdır?

- A) 
- B) 
- C) 
- D) 

- 1-En az beş kişiyle oynanır.
- 2- Gönüllü varsa, o ebe olur; yoksa, kura ile belirlenir.
- 3-Bir daire oluşturan oyuncular el çırparak mâni okurlar.
- 4-Ebe, dairenin etrafında tempoya ayak uydurarak dolaşır.
- 5-.....

4- Yukarıda yönergesi verilen geleneksel çocuk oyunun 5. aşaması hangisi olabilir?

- A) Mani bitince oturanlar ayağa kalkarlar.
- B) Ebe mendili oturanlardan birinin arkasına bırakır ve koşmaya başlar.
- C) Ebe, elindeki topu dairenin ortasına bırakır.
- D) Mani biter bitmez oturanlar ebeyi yakalamaya çalışır.

5- Ailemizin tarihîni bilmek bize aşağıdaki katkılardan hangisini sağlar?

- A) Aile bağlarımız güçlenir.
- B) Ülke tarihîmizi iyi öğreniriz.
- C) Ailemizle iyi vakit geçiririz.
- D) Aile ekonomisine katkı sağlar.

En önemli geleneklerimizden biri de kına gecesidir. Konya'da düğün gecesi hem geline hem de damada kına yakarlar. Ancak Erzurum'da sadece türküler eşliğinde geline kına yakarlar.

6- Yukarıdaki paragraf için hangi ifade doğrudur?

- A) Erzurum'da damatlara kına yakmak ayıptır.
- B) Konya'da kına daha çok üretilmektedir.
- C) Erzurum'da geleneklere fazla önem verilmemektedir.
- D) Gelenekler şehirden şehre değişebilir.

Adı :
Soyadı:

4. Sınıf Sosyal Bilgiler

Kültür ve Miras
Yaprak Test-5

Kurtuluş Savaşı'nda askerlerimize cephane taşıırken henüz yeni doğmuş bebeğini de yanına alarak donarak şehit olmuş kadın kahramanımızdır.

7- Yukarıdaki bilgiler hangi kadın kahramanımıza aittir?

- A) Gördesli Makbule B) Kara Fatma
C) Şerife Bacı D) Nezahat Onbaşı

Kurtuluş Savaşı'nda halk kahramanca mücadele ederek yaşadıkları şehirleri düşmanlardan kurtarmışlardır. Bu nedenle TBMM bu şehirlere unvan vermiştir.

8- Paragrafta verilen bilgilere göre unvan alan şehirler hangisinde doğru verilmiştir?

- A) Maraş -Samsun -Ankara
B) Urfa-Maraş-Antep
C) Konya - İzmir - Antalya
D) İzmir - Antep - Erzurum

9- Milli mücadelede düşmanlarla yaptığımız savaşlar hangisinde doğru eşleştirilmiştir?

- A) 2. İnönü Savaşı - Fransızlarla
B) Başkomutanlık Meydan Savaşı - İngilizlerle
C) 1. İnönü Savaşı - İtalyanlarla
D) Sakarya Savaşı - Yunanlarla

10- Yunan güçlerinin İzmir ve çevresini işgal etmesi üzerine Türk milletinin ilk tepkisi, aşağıdakilerden hangisi olmuştur?

- A) Düzenli ordu birliklerini oluşturmak
B) Erzurum'da kongre yapmak
C) Kuvayı Milliye birliklerini kurmak
D) Ankara'da TBMM'yi açmak

11- Mustafa Kemal Samsun'dan sonra kongreler yapmış daha sonra Ankara'ya giderek 23 Nisan 1920'de TBMM'yi açmıştır. Mustafa Kemal'in TBMM'yi açma nedeni hangisi olamaz?

- A) 23 Nisan Ulusal Egemenlik ve Çocuk Bayramı'nı ilan etmek
B) Kurtuluş Savaşı'nı tek bir yerden yönetmek
C) Ülkemizin kurtuluşu için ortak karar almak
D) Kurtuluş Savaşı hakkında halkı bilgilendirmek

Ali Saip Bey: Mustafa Kemal tarafından şehrine görevlendirildi. Buraya gelerek bölge halkıyla birlikte Kuvayı Milliye birliği kurdu. Şehir halkıyla birlikte Fransızları şehirden çıkardı. Bu kahramanca mücadele sonunda şehre "şanlı" unvanı verildi.

12- Yukarıdaki paragrafa göre Ali Saip Bey hangi şehirde mücadele etmiştir?

- A) Erzurum B) Sivas
C) Urfa D) Konya

- I- Cumhuriyet ilan edildi.
II- Yunanlar İzmir'i işgal ettiler.
III- Lozan Barış Antlaşması imzalandı.
IV- Atatürk, Erzurum Kongresi'ne katıldı.
V- Sakarya Savaşı yapıldı.

13- Yukarıdaki milli mücadele olaylarının kronolojik sıralaması hangisidir?

- A) I - III - V - IV - II
B) II - IV - V - III - I
C) IV - II - III - I - V
D) IV - II - I - V - III

Adı :

Soyadı:

4. Sınıf
Sosyal Bilgiler

Kültür ve Miras
Yaprak Test-5

Doğru :

Yanlış:

- 1 A B C D
2 A B C D
3 A B C D
4 A B C D
5 A B C D

- 6 A B C D
7 A B C D
8 A B C D
9 A B C D
10 A B C D

- 11 A B C D
12 A B C D
13 A B C D
14 A B C D
15 A B C D

- 16 A B C D
17 A B C D
18 A B C D
19 A B C D
20 A B C D