


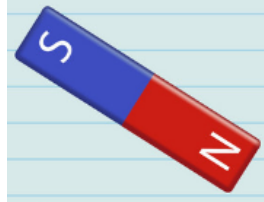



Aşağıdaki **cümlelerden** doğru olanlara **D**, yanlış olanlara **Y** yazınız.

- | | | | |
|---|--|---|--------------------------|
| 1 | Mıknatıslar demir, nikel ve kobalt içeren cisimleri çeker. | → | <input type="checkbox"/> |
| 2 | Mıknatıslar doğal maddelerdir, yapay olarak üretilemezler. | → | <input type="checkbox"/> |
| 3 | Mıknatıs taşı(manyetit) demir içerir ve metalleri kendine çeker. | → | <input type="checkbox"/> |
| 4 | Mıknatısın kuzey kutbu "S", güney kutbu "N" sembolüyle yazılır. | → | <input type="checkbox"/> |
| 5 | Mıknatısın kutup bölgelerinde çekim gücü düşüktür. | → | <input type="checkbox"/> |
| 6 | Çubuk, at nalı, yuvarlak ve U mıknatıs en yaygın kullanılanlardır. | → | <input type="checkbox"/> |
| 7 | Bir mıknatıs parçalara ayrılırsa özelliğini tamamen kaybeder. | → | <input type="checkbox"/> |



Görselleri verilen **mıknatıs** çeşitlerinin **isimlerini** yazınız.



--	--	--	--



Mıknatısların **konumlarına** göre boşluklara "**iterler**" veya "**çekerler**" yazınız.

