



GÖKKUŞAĞI

Bir bahar günü Gökkuşağı, Güneş'e seslendi:

- Bak Güneş kardeş, ben senden daha güzelim, dedi. Güneş ona:

- O renkleri sana ben verdim, dedi.

Gökkuşağı:

- Hayır, o renkler benimdir, dedi.

Güneş, ona yanıt vermedi. Hemen bulutların arasına saklanıverdi. Gökkuşağı artık görünmez oldu. Güneş, kendini beğenen Gökkuşağı'nı böyle cezalandırdı.

Not: İlk 3 soruyu metne göre cevaplayınız.

1) Gökkuşağı'na renkleri kim vermiştir?

- A) Yağmur
- B) Bulut
- C) Güneş

2) Güneş bulutların neresine saklandı?

- A) Arkasına
- B) Arasına
- C) Yanına

3) Metnin ana düşüncesi nedir?

- A) Başkalarını küçümsememeliyiz.
- B) Güneş' Gökkuşağı'ndan daha değerlidir.
- C) Gökkuşağı'nın Güneş'i cezalandırması

4)



Onu eş görevli kelimeleri ayırmada kullanırsınız.

Öğretmen, yukarıdaki sözleri aşağıdaki noktalama işaretlerinden hangisi için söylemiştir?

- A) ' (kesme işareti)
- B) , (virgül)
- C) ? (soru işareti)

5)

Eyvah () Cüzdanım düşmüş ()
Gördünüz mü ()

Yukarıdaki cümlede parantezle bırakılan yerlere sırasıyla hangi noktalama işareti gelmelidir?

- A) (!) (?) (.)
- B) (!) (.) (?)
- C) (!) (.) (,)

6) Bir yazıda hangi noktalama işaretinden sonra gelen sözcük büyük harfle başlamaz?

- A) (Virgül)
- B) (Nokta)
- C) (Soru İşareti)

7) Aşağıdaki tarihlerden hangisinin yazımı doğrudur?

- A) 19 - 05 - 2022
B) 19 : Mayıs : 2022
C) 19. 05. 2022







8) Aşağıdaki noktalama işaretlerinden hangisi yanlış kullanılmıştır?

- A) Babam mı geldi.
B) Ödevlerini hemen bitir.
C) Manavdan elma, armut, portakal al.

9)

$25 + 5$ 	$45 - 10$ 
$55 - 35$ 	$18 + 12$ 

Yukarıdaki işlemlerden hangilerinin sonucu 30 sayısına eşittir?

- A)   B)  
C)  


10)



Yukarıdaki işlemde " ● " yerine hangi sayı gelmelidir?

- A) 12 B) 11 C) 10

11)



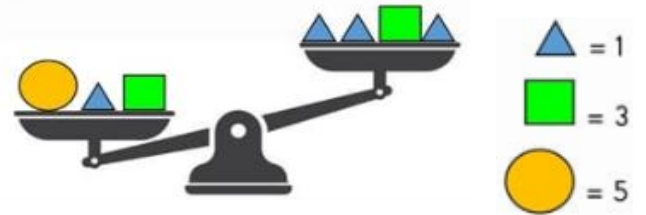
Yukarıdaki terazinin kefelerini eşitleyebilmek için " ☺ " ifadesinin yerine hangi sayı gelmelidir?

- A) 46 B) 40 C) 38




12) Aşağıdaki işlemlerden hangisinde " □ " yerine "=" sembolü yazılamaz?

- A) $9 + 7$ □ $20 - 4$
B) $17 - 11$ □ $24 - 18$
C) $6 + 8$ □ $28 - 12$

13)



Yukarıda verilen bilgilere göre teraziye eşit tutabilmek için terazinin sağ tarafında hangi şekiller eklenmelidir?

- A)  B) 
C) 

14)

$$14 + 8 = 28 - \text{★}$$

Yukarıdaki eşitliğe göre "★" yerine aşağıdaki sayılardan hangisi yazılmalıdır?

- A) 4 B) 5 C) 6

15) 38 ile 16 sayılarını en yakın onluğa yuvarlayarak toplayıp, sonuçtan 24 sayısını çıkardığımızda hangi sayıyı buluruz?

- A) 60 B) 36 C) 26

16) Gün içerisinde zamanımızı planlarken aşağıdakilerden hangisine diğerlerinden daha çok zaman ayırmalıyız?

- A) Uyku
B) Oyun oynama
C) Ders çalışma

17) Günlük plan yapmakla ilgili aşağıdaki ifadelerden hangisi yanlıştır?

- A) Planlı olmak bizi yorar.
B) Önemli işlere gereken zamanı ayırabiliriz.
C) Kararsızlığımızı ve karışıklığımızı engellemiş oluruz.

18) Aşağıdakilerden hangisini harçlıklarımızı biriktirerek alabiliriz?



19)



Alışverişe çıkmadan önce mutlaka alışveriş listemi yaparım.

Yukarıda verilenlere göre İlayda için hangisi söylenebilir?

- A) Para harcarken bütçesine dikkat etmez.
B) İhtiyaçlarını öncelik sırasına koyar.
C) Her beğendiğini alır.

20) I. İhtiyaçlarımız, isteklerimizden önce karşılanmalıdır.
II. İsteklerimizden vazgeçemeyiz.
III. İhtiyaçlarımızın karşılanmaması sağlığımızı tehlikeye sokabilir.

Yukarıdaki ifadelerden hangi yanlıştır?

- A) I ve III
B) Yalnız II
C) I ve II

Cevap Anahtarı

1)C 2)B 3)A 4)B 5)B
6)A 7)C 8)A 9)B 10)C
11)B 12)C 13)A 14)C 15)B
16)A 17)A 18)C 19)B 20)B