



HAYAT BİLGİSİ ÖĞÜN LİSTEM



Aşağıda verilen besinleri kullanarak örnek öğün listeleri oluşturunuz.



zeytin



ekmek



Portakal suyu



çorba



makarna



salata



bal



yumurta



Kırmızı et



süt



peynir



kola



pasta



hamburger



meyve



tavuk



şeker



ayran



pilav



balık

SABAH KAHVALTISI

ÖĞLE YEMEĞİ

AKŞAM YEMEĞİ

ÇÖL ADAMI İLE BİLGİN

Bir çöl adamı, devesine iki adet dolu çuval yüklemiş gidiyordu. Yolda üstü başı perişan, bakımsız birine rastladı. Adama selam verdi, acıyıp bir miktar yardımda bulundu. Bakımsız adam, kendisine sordu:

- Devene yüklediğin çuvallarda ne var?
- Birinde buğday, diğerinde kum vardır.
- Neden çuvallardan birine kum doldurdun?
- Buğday dolu çuvalı devenin bir tarafına yüklediğim zaman düşüyordu. Ben de düşmemesi için devenin öbür tarafına kum yükledim.

- Bunun yerine buğdayın yarısını bir çuvala, diğer yarısını öteki çuvala koy. Böylece devenin yükü yarı yarıya azalmış olur.

Çöl adamı, işler acısı hâldeki bu adamın zekâsına hayran kaldı. Ona ne iş yaptığını sordu.
Adam:

- Ben bir bilgimim, düşünürüm, diye cevapladı. Günlerimi düşünerek geçiririm. Ne üzerime giyeceğim bir elbisem ne de karnımı doyurabileceğim bir lokma ekmeğim vardır. Eğer akıl almak, bir şeyler öğrenmek istersen istediğini sorabilirsin, diye konuşmasını sürdürdü.

Bu söz üzerine çöl adamı kızdı:

- Bilgin misin, düşünür müsün benden uzak dur. Benim çuvallara kum doldurmam senin akıllılığından daha iyidir. En azından başımı sokabileceğim bir çadırım, karnımı doyurabileceğim bir parça ekmeğim vardır, dedi.



A-) Aşağıda verilen soruları metne göre cevaplayınız.

1-) Çöl adamı devesine ne yüklemiştir?

2-) Çöl adamı yolda kime rastladı?

3-) Çöl adamı neden çuvalların birine kum yüklemiştir?

4-) Çöl adamı, bilgine niçin kızmıştır?

www.mebders.com

1) Çöl adamının devesine yüklemiş olduğu çuvallarda neler vardır?

- A) buğday ve arpa
B) un ve yulaf
C) buğday ve kum

B-) Doğru olanı işaretleyelim.

2) Bilgin, günlerini nasıl geçirirmiş?

- A) Düşünerek
B) Çalışarak
C) Dinlenerek

3) Aşağıdaki ifadelerden hangisi yanlıştır?


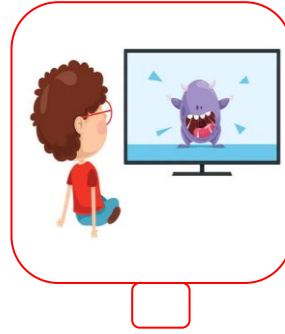

- A) Çöl adamı bilginin zekasına hayran kaldı.
B) Bilgin zengin bir insandır.
C) Bilginin akıl satması, çöl adamını kızdırmıştır.

HAYAT BİLGİSİ SAĞLIKLI BÜYÜYELİM

Aşağıdaki cümlelerden doğru olanların başına "D", yanlış olanların başına "Y" yazınız.

D	Y	İFADELER
		Düzenli banyo yapmak vücut sağlığımız için önemlidir.
		Dengeli beslenmek için sadece sebze ve meyve ile beslenmeliyiz.
		Yeterince uyumazsak kendimizi yorgun hissederiz.
		Spor yapmak ders başarımızın artmasını sağlar.
		Dengeli ve düzenli beslenmek sağlığımız için çok önemlidir.
		Günde 1 defa dişlerimizi fırçalamalıyız.
		Sağlıklı olmak için kişisel temizliğimize özen göstermeliyiz.
		Sağlıklı büyümek için düzenli olarak spor yapmalıyız.

Aşağıdaki görsellerden sağlıklı büyüme ve gelişme ile ilgili olanları işaretleyiniz.



Aşağıdaki cümlelerde boş bırakılan yerleri verilen kelimelerle uygun olacak şekilde tamamlayınız.

banyo

uyku



Abur cubur

spor

- Sağlıklı büyümek için sabahları yapmalıyız.
- Sağlıklı büyümek ve mikroplardan korunmak için yapmak önemlidir.
- Yaşımıza uygun yapmak vücudumuzu güçlendirir.
- Düzenli ve yeteri kadar sağlığımız için önemlidir.

OLAYLARIN OLUŞ SIRASI

Aşağıda karışık sırayla verilen görselleri oluş sırasına göre numaralandırınız.



Aşağıda karışık olarak verilen cümleleri olayların oluş sırasına göre numaralandırınız.

Doktora gittim

İlaçları eczaneden aldım.

Doktor, rahatsızlığımı sordu.

Biraz üşütmüştüm.

Muayene etti ve reçete yazdı.

Akşam yemeğini afiyetle yedik.

Annem pazara gitmek için evden çıktı.

Çok güzel bir sofrayı hazırladı.

Pazardan sebze ile meyve aldı.

OLAYLARIN OLUŞ SIRASI

Aşağıda karışık sırayla verilen görselleri oluş sırasına göre numaralandırınız.



Aşağıda karışık olarak verilen cümleleri olayların oluş sırasına göre numaralandırınız.

İtfaiyeciler yangını söndürmeye çalıştılar.

Hemen itfaiyeye haber verdim.

Evde kalan insanları kurtardılar.

Karşı evde yangın çıkmıştı.

Elif ona aldığım hediyeyi çok beğendi.

Doğum gününe gitmeden önce arkadaşşıma hediye aldım.

Elif'e hediyesini verdim.

Elif, beni doğum gününe davet etti.

OLAYLARIN OLUŞ SIRASI

Numaralanmış cümleleri olayların oluş sırasına göre sıralanışını aşağıda verilen alana yazınız.

1-) Ne alacağına karar verdi.

2-) Elini cebine soktu.

3-) Emin bakkalın önüne gelince durdu.

4-) Parasıyla dondurma mı gofret mi alsaydı ?

5-) Babasının verdiği harçlık halen oradaydı ?



Olayların sıralanışı

1-) Cevizi pat diye yere attı.

2-) Mine ile dedesi parka gittiler.

3-) Karga havuzun üzerine gelince durdu.

4-) Kabuğu kırılan cevizin içini yedi.

5-) Gagasında ceviz olan bir karga dikkatlerini çekti.



Olayların sıralanışı

1-) Mutfağa koşup bayat ekmekleri ufaladım.

2-) Masum masum bana bakıyordu.

3-) Ekmek kırıntılarını sessizce camın önüne bıraktım.

4-) Bir kış günü penceremin önüne bir martı kondu.


5-) Aç olduğunu anladım.

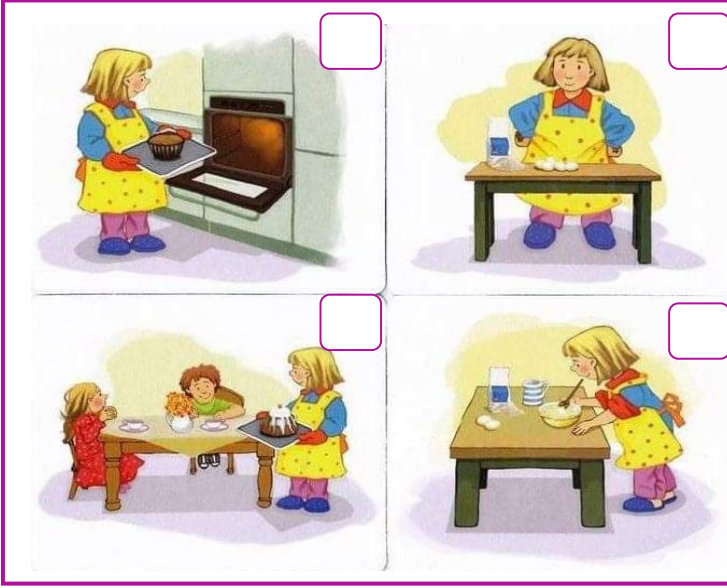


Olayların sıralanışı

OLAYLARIN OLUŞ SIRASI

Aşağıda karışık sırayla verilen görselleri olayların oluş sırasına göre kutulara numaralandırınız. Görsellerdeki olayları oluş sırasına göre yazınız.







TOPLAMA VE ÇIKARMA İŞLEMİ PROBLEMLERİ

1-) Maşa 7 ve 2 rakamlarını kullanarak iki basamaklı en büyük ve en küçük doğal sayının farkını bulmak istiyor. Cevabı kaç bulmuştur?



Cevap:

2-) Pamuk Prenses hikaye kitabından 1.gün 34 sayfa, 2. gün ise 29 sayfa okuyor. Hikaye kitabının tamamı 85 sayfa olduğuna okuması gereken kaç sayfa vardır?



Cevap:

3-) Harika kanatlar 59 sayısının onlar basamağını 2 artırıyor, birler basamağını ise 3 azaltıyor. Oluşan yeni sayıdan 59'u çıkarıyor. Sonucu kaç bulmuştur?



Cevap:

4-) Şila 8 yaşındadır. Annesi ve Şila'nın yaşları toplamı 32 olduğuna göre Şila'nın annesi kaç yaşındadır?



Cevap:

5-) Keloğlan aklından bir sayı tutuyor. Bu sayıdan 19 çıkarıyor. Kalanı 25 buluyor. Keloğlan'ın aklından tuttuğu sayı kaçtır?



Cevap:

6-) Rapunzel'in 23 tane tokası vardır. Rapunzel kaç toka daha alırsa 5 deste tokası olur?



Cevap:

7-) Rafadan Tayfa (4 - 3 - 0-7) rakamlarını birer kez kullanarak iki basamaklı en büyük çift sayıdan iki basamaklı en küçük tek sayıyı çıkarıyor. Sonucu kaç buluyorlar?



Cevap:

8-) Çilek kız 8 birlik, 5 onluktan oluşan sayıyı en yakın onluğa yuvarlıyor. Daha sonra bu sayıdan 2 düzine kadar sayı çıkarıyor. Sonucu kaç bulmuştur?



Cevap:

9-) Pepe annesinin yaptığı 64 kurabiyenin birazını arkadaşlarına dağıtıyor. Geriye 36 kurabiye kalıyor. Kaç kurabiye dağıtmıştır?



Cevap:

10-) Erdem 9 birlik 7 onluktan oluşan sayıdan 3 onluk 5 birlikten oluşan sayıyı çıkarıyor. Sonucu kaç bulmuştur?



Cevap:

TOPLAMA VE ÇIKARMA İŞLEMİ PROBLEMLERİ

1-) Pepe 4 birlik, 8 onluktan oluşan sayının 36 eksigini bulmak istiyor. Sonucu kaç bulmuştur?



Cevap:

2-) Sünger Bob, onlar basamağı 7 olan iki basamaklı olan en büyük sayıdan 2 düzine çıkarıyor. Sonucu kaç bulmuştur?



Cevap:

3-) Batman 52 sayısı ile 43 sayısını tahmini olarak topluyor. Gerçek sonuç ile tahmini sonucun farkını kaç bulmuştur?



Cevap:

4-) Şila'nın 34 tane şekeri var. Annesi kaç şeker verirse Şila'nın 72 şekeri olur?



Cevap:

5-) Niloya 7 birlik, 6 onluktan oluşan sayıyı en yakın onluğa yuvarlıyor. Daha sonra bu sayıdan 2 düzine kadar sayı ekliyor. Sonucu kaç bulmuştur?



Cevap:

6-) Maşa 10, annesi 36 yaşındadır. Babasının yaşı ise annesinin yaşından 4 fazladır. Maşa anne ve babasının yaşları toplamı kaçtır?



Cevap:

7-) Koca Ayı ormanda 24 tane gül toplamıştır. Kaç gül daha toplarsa 75 gülü olur?



Cevap:

8-) Keloğlan (5,8,1.0) rakamlarını kullanarak iki basamaklı en büyük tek sayıdan, en küçük çift sayıyı çıkarıyor. Sonucu kaç bulmuştur?



Cevap:

9-) Elif onlar basamağının basamak değeri 50, birler basamağının basamak değeri 2 olan sayıyı en yakın onluğa yuvarlıyor. Daha sonra bu sayıya 2 DESTE ekliyor. Sonucu kaç bulmuştur?



Cevap:

10-) Pembe Panter'in okuduğu kitap sayısı 5 desteden 7 eksiktir. Pembe Panter kaç kitap okumuştur?



Cevap:

TOPLAMA VE ÇIKARMA İŞLEMİ PROBLEMLERİ

1-) Karagöz ile Hacivat 30 ceviz, ceviz sayısının 20 fazlası kadar da fındık yemiştir. Toplam kaç tane fındık ve ceviz yemiştirler?



Cevap:

2-) Hapşu 75 sayısının onlar basamağındaki rakamın basamak değerinden 3 DESTE çıkarıyor. Sonucu kaç bulmuştur?



Cevap:

3-) İstanbul Muhafızları'nın bindiği otobüste 52 kişi vardır. Otobüstekilerin 19'u erkek, 24'ü kadın ve geri kalanı çocuktur. Kaç çocuk vardır?



Cevap:

4-) Bente'nin 45 TL'si vardır. 38 TL'ye pantolon 24 TL'ye gömlek almak istiyor. Bente'nin kaç TL'ye daha ihtiyacı vardır?



Cevap:

5-) Elif'in dedesinin bahçesinde 34 tane kiraz ağacı, kirazlardan 9 fazlada elma ağacı vardır. Elif'in dedesinin bahçesinde toplam kaç ağaç vardır?



Cevap:

6-) Heidi 40'dan başlayarak 5'er 5'er saydığı 4.sayı ile 20'den başlayarak 10'ar 10'ar saydığı 3. sayıyı çıkarıyor. Sonucu kaç bulmuştur?



Cevap:

7-) Hayri (7,2,4,1) rakamlarını birer kez kullanarak yazılabilecek iki basamaklı en büyük çift sayı ile en küçük tek sayının farkı kaçtır?



Cevap:

8-) Maşa 4 birlik 3 onluktan oluşan sayıyı, Koca Ayı ise 4 onluk 8 birlikten oluşan sayıyı en yakın onluğa yuvarlıyor. Sonra bu sayıları topluyorlar. Sonucu kaç bulmuşlardır?



Cevap:

9-) Winx grubu 93 sayısının onlar basamağındaki rakamı 4 azaltıp, birler basamağındaki rakamı 5 artırıyor. Yeni oluşan sayıdan 2 DÜZİNE çıkarıyor. Sonuç kaçtır?



Cevap:

10-) Efe 8 yaşındadır. Babası 34 yaşındadır. 4 yıl sonra Efe ve babasının yaşları toplamı kaçtır?



Cevap:

TOPLAMA VE ÇIKARMA İŞLEMİ PROBLEMLERİ

1-) Kuzucuk'un çiftliğinde 27 koyun, 32 keçi ve 23 inek vardır. 8 koyun, 11 keçi ve 9 inek satıldı. Çiftlikte kaç hayvan kaldı?



Cevap:

2-) Keloğlan'ın annesi 42 yaşındadır. Babası annesinden 3 yaş daha büyüktür. Keloğlan'ın anne ve babasının yaşları toplamı kaçtır?



Cevap:

3-) Arı Maya'nın kovanında 64 arı vardır. Bu arılardan 38 tanesi bal yapmaktadır. Kovanda bal yapmayan kaç arı vardır?



Cevap:

4-) Şila (3,9,4) rakamlarını kullanarak iki basamaklı en büyük tek sayı ile en küçük çift sayı çıkarıyor. Sonucu kaç bulmuştur?



Cevap:

5-) Ege 10 yaşındadır. Annesi 36 yaşındadır. 4 yıl önce Ege ve annesinin yaşları toplamı kaçtır?



Cevap:

6-) Niloya 48 sayısının 23 fazlasından , 36 çıkarıyor sonucu kaç bulmuştur?



Cevap:

7-) Örümcek Adam birler basamağının basamak değeri 4, onlar basamağının basamak değeri 80 olan sayıdan 5 DESTE çıkarıyor. Sonucu kaç bulmuştur?



Cevap:

8-) Rapunzel masal kitabından 1.gün 34 sayfa masal, 2.gün 1.günden 9 sayfa fazla masal okuyor. Rapunzel iki günde toplam kaç sayfa masal okuyor?



Cevap:

9-) Garfield pazardan 53 tane balık aldı. Kaç tanesini arkadaşına verirse Garfield'ın 28 balığı kalır?



Cevap:

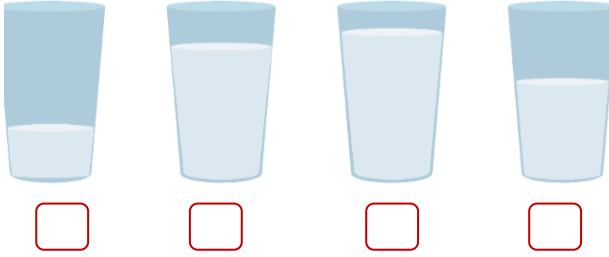
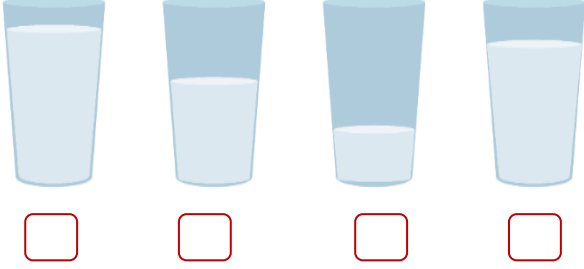
10-) Jerry hangi sayıdan 27 çıkarırsa kalanı 36 bulur?



Cevap:

2.SINIF SIVILARI ÖLÇME ETKİNLİK ÇALIŞMASI

Aşağıdaki su bardaklarında verilen su miktarlarını az olan çok olana doğru numaralandırarak sıralayınız.



Aşağıdaki kaplardan en az sıvı alanı işaretleyiniz.




Aşağıdaki kaplardan en çok sıvı alanı işaretleyiniz.



Aşağıda verilen boşluklara "az veya fazla" kelimelerinden uygun olanlarını yazınız.



Damacana varilden daha su alır.



Su bardağı tencereden daha su alır.



Termos çay bardağından daha su alır.

Aşağıda verilen nesnelere aldıkları sıvı miktarlarına göre küçükten büyüğe doğru numaralandırınız.



2.SINIF SIVILARI ÖLÇME ETKİNLİK ÇALIŞMASI

Aşağıda verilenlerden sıvı olanları işaretleyiniz.



Aşağıdaki kaplardan en az sıvı alanı işaretleyiniz.



Aşağıdaki kaplardan en çok sıvı alanı işaretleyiniz.



Aşağıda verilen boşluklara "az veya fazla" kelimelerinden uygun olanlarını yazınız.



Kova sürahiden daha su alır.



Kepçe damacandan daha su alır.



Fincan bidondan daha su alır.

Aşağıda verilen nesnelere aldıkları sıvı miktarlarına göre küçükten büyüğe doğru numaralandırınız.





ATLAR

Atlar evcil hayvanlardır. İnsanların en yakın hayvan dostlarından biridir. Atlar, cesur ve atılgan bir hayvandır. Sahibine bağlıdır. Sahibi ne isterse yapar. İyi koşucudurlar. Bazen de yük taşırlar.

Ot ile beslenirler. Atın yavrusuna "tay" denir. Taylar ilk aylarda annesinin sütünü emerek beslenir. İnce ve güçlü bacakları vardır. Bu sayede doğar doğmaz ayağa kalkarlar.

Not: İlk 3 soruyu metne göre cevaplayınız.

1) Atlar **nasıl** bir hayvandır?

- A) Yavaş ve korkak
- B) Vahşi ve hırçın
- C) Cesur ve atılgan

2) Atlar ile ilgili hangisi **söylenemez**?

- A) İyi koşucudurlar.
- B) Sahibine bağlı değildir.
- C) Yük taşıyabilirler.

3) Taylar ilk aylarda **ne** ile beslenir?

- A) Annesinin sütü ile
- B) Saman ile
- C) Ot ile

4)



Yukarıdaki **olayın oluş sırası** hangisidir?

- A) 1-2-3-4
- B) 2-4-1-3
- C) 2-1-4-3

5) ▲ Babam ile pazara gittik.
■ Annem, domates almayı unutmuşsunuz dedi.
● Alışveriş yaptık.

Yukarıdaki cümleleri oluş sırasına göre sıralarsak **sıralama nasıl** olur?


- A) ▲ ■ ●
- B) ▲ ● ■
- C) ● ■ ▲

6) Ablam kapıyı açmak için önce çantasından anahtarı çıkardı. anahtar ile kilitli kapıyı açtı.

Yukarıdaki cümlede noktalı yere hangisi **gelmelidir**?

- A) Sonunda
- B) Şimdi
- C) Sonra

7)



Görsellerdeki **olayın oluş sırası** hangisinde doğru olarak verilmiştir?

- A) ▲ ● ■ □ B) ▲ ● ■ □
C) ● ▲ ■ □

8)

1. Doktora gittim.
2. Hasta oldum.
3. Doktor ilaç yazdı.
4. Terli terli su içtim.

Yukarıda verilen **olayların oluş sırasına** göre sıralanışı nasıldır?

- A) 2-4-1-3 B) 4-3-2-1
C) 4-2-1-3

9)

Kuzucuk'un çiftliğinde 27 koyun, 32 keçi ve 23 inek vardır. 8 koyun, 11 keçi ve 9 inek satıldı. Çiftlikte kaç hayvan kaldı?



- A) 54 B) 48 C) 44

10)

Maşa 8, annesi 30 yaşındadır. Babasının yaşı ise annesinin yaşından 3 fazladır. Maşa, anne ve babasının **yaşları toplamı** kaçtır?



- A) 41 B) 63 C) 71

11)

Sünger Bob, onlar basamağında **7 rakamı** olan iki basamaklı olan en büyük sayıdan **2 düzine** çıkarıyor. Sonucu kaç bulmuştur?



- A) 79 B) 59 C) 55

12)

Koca Ayı ormanda **24 tane** gül toplamıştır. Kaç gül daha toplarsa **75 gülü** olur?



- A) 51 B) 48 C) 41

13)

Elifin 55 TL'si vardır. 42 TL'ye elbise, 24 TL'ye ayakkabı almak istiyor. Elifin **kaç TL'ye daha ihtiyacı** vardır?



- A) 12 B) 11 C) 10

- 14) Keloğlan'ın bahçesinde 32 tane kiraz ağacı, kirazlardan 9 fazlada elma ağacı vardır. Keloğlan'ın bahçesinde **toplam kaç ağaç** vardır?



- A) 73 B) 63 C) 41

- 15) Ela 30'dan başlayarak 5'er 5'er saydığı 4.sayı ile 20'den başlayarak 10'ar 10'ar saydığı 3. sayıyı **topluyor**. Sonucu kaç bulmuştur?



- A) 95 B) 85 C) 75



Spor yapmak



Dengeli beslenmek



Uyumak

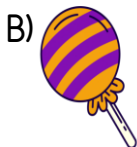



Sağlıklı büyümek ve gelişmek için yukarıdakilerden hangilerini **yapmalıyız?**

- A) B)

- C)

- 17) Aşağıdakilerden hangisini sık tüketmek sağlığımızı **olumsuz etkiler?**



- 18) I. Dengeli ve düzenli beslenmek
II. Geç saatlere kadar ders çalışmak
III. Kişisel bakıma ve temizliğe özen göstermek

Yukarıda verilen ifadelerden hangileri sağlıklı bir yaşam için **yapmamız** gerekenlerdendir?

- A) Yalnız I B) I ve II
C) I ve III

19)



Merhaba ben Ozan, dengeli besleniyorum. Spor yapıyorum ve temizlik kurallarına uyuyorum.

Ozan'ın söylediklerini yapmasının **sebebi** hangisidir?

- A) Sınıfı geçmek
B) Sağlığını korumak
C) Ailesini sevindirmek

- 20) Dengeli beslenen bir kişi **öğle yemeğinde** aşağıdakilerden hangisini tüketir?

- A) Çorba, taze fasulye, sütlaç
B) Pizza, kola, baklava
C) Hamburger, ayran, cips

Cevap Anahtarı

1)C 2)B 3)A 4)C 5)B
6)C 7)B 8)C 9)A 10)C
11)C 12)A 13)B 14)A 15)B
16)C 17)B 18)C 19)B 20)A