



Anneme, **arıların** dört çiçekten hangisini daha çok sevdiğini sordum. "Sözlük sırasına göre **üçüncü** olan çiçeği severler." dedi. Buna göre arılar hangi **çiçeği** daha çok severler?

- A)** karanfil **B)** menekşe
C) kasımpatı **D)** gül

2) Aşağıdaki cümlelerden hangisinde "**boş**" kelimesi **gerçek** anlamda kullanılmıştır?

- A)** Ne kadar boş bir insan!
B) Boş bakışlarla dışarı bakıyordu.
C) Buzdolabının boş olduğunu gördüm.
D) Kardeşim boş konuşmayı sever.

3) **Babam manavdan domates aldı.**

Yukarıdaki cümleden hangi kelime **çıkarsa**, kalan kelimeler cümle oluşturamaz?

- A)** domates **B)** aldı
C) Babam **D)** manavdan

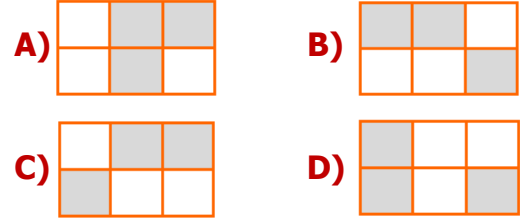
4) Aşağıdaki cümlelerin hangisinde hem **tekil** hem de **çoğul** ad vardır?

- A)** Kargocu bugün teslimat yapmadı.
B) Televizyonda güzel bir film başladı.
C) Bayramda amcam bana harçlık verdi.
D) Kümesteki tavuklara yem verdim.

5)

keci	ağız	pazar
gözlük	atlet	bıçak

Tablodaki kelimelerden eş sesli(sesteş) olan kelimeleri boyarsak nasıl bir görüntü oluşur?



6) Eyvah() ütünün fişini çekmedim()
Ne yapacağımı bilmiyorum()


Cümlelerde **parantez** içlerine sırasıyla hangi **noktalama** işaretleri gelmelidir?

- A)** (,) (!) (.) **B)** (!) (.) (?)
C) (!) (!) (?) **D)** (,) (,) (.)

7) **5294 → ASIL**
8176 → ETİK

Verilen sayılar üstteki gibi şifrelenmiştir. Buna göre, **TAKI** + **SİTE** işleminin sonucu kaçtır?

- A)** 3277 **B)** 4287
C) 5397 **D)** 6467

8)  Yandaki köprüden cumartesi günü **2436**, pazar günü ise cumartesi gününden **897** daha az araç geçmiştir. **İki** günde köprüden kaç araç geçmiştir?

- A)** 3695 **B)** 3865
C) 3975 **D)** 4065

9)



Satıcıya yukarıdaki ürünlerin fiyatlarını soran **Okan**, şu yanıtları almıştır:

- ❖ **Montun** fiyatı, en yakın **yüzlüğü** **1200** olan en büyük sayıdır.
- ❖ **Ayakkabının** fiyatı, en yakın **onluğu** **650** olan en küçük sayıdır.

Buna göre, iki ürünün fiyatlarının **farkı** kaç liradır?

- A) 904 lira
- B) 804 lira
- C) 704 lira
- D) 604 lira

10)



8 kg karpuz **96** liradır. **Elmanın** kg fiyatı ise karpuzdan **4 lira** daha ucuzdur. Buna göre **24** kg elma alan birisi kaç lira öder?

- A) 120 lira
- B) 144 lira
- C) 168 lira
- D) 192 lira

11)



Veli, **362** sayfalık kitabın **101** sayfasını okudu. Kalanını günde **9** sayfa okuyarak bitirmek istiyor.

Veli, **kalan** sayfaları kaç günde bitirir?

- A) 28 gün
- B) 29 gün
- C) 30 gün
- D) 31 gün


12)

$$\begin{array}{r} 4393 \\ - \quad \quad \quad 8 \\ \hline \end{array}$$

Yandaki bölme işleminde **bölüm** ile **kalanın toplamı** kaçtır?

- A) 550
- B) 549
- C) 548
- D) 547

13)



Yukarıdaki üç durumda, **çiçeklerin** bulunduğu aralarda **hangi kuvvetler** oluşur?



- A) Çekme – İtme – Çekme
- B) İtme – Çekme – Çekme
- C) Çekme – İtme – İtme
- D) İtme – Çekme – İtme

14) Aşağıdaki şıklardan hangisinde, mıknatıs ile **çekilebilen maddeler** doğru olarak sıralanmıştır?

- A) demir – bakır – nikel – ahşap
- B) çelik – kağıt – gümüş – taş
- C) kobalt – çelik – nikel – demir
- D) çinko – demir – porselen – nikel

15) Aşağıdaki olaylardan hangisi **doğal afet** değildir?

- A) Sel
- B) Rüzgâr
- C) Deprem
- D) Heyelan

16)



Farklı sıcaklıktaki **hava** kütlelerinin çarpışmasıyla oluşan ve saatteki hızı **100 - 110** km'yi bulan rüzgârlardır.

Yukarıda tanımı verilen **doğal afet** aşağıdakilerden hangisidir?

- A) Fırtına
- B) Şimşek
- C) Yıldırım
- D) Çığ

CEVAP ANAHTARI

- | | |
|------|-------|
| 1) C | 10) D |
| 2) C | 11) B |
| 3) B | 12) A |
| 4) D | 13) D |
| 5) A | 14) C |
| 6) A | 15) B |
| 7) B | 16) A |
| 8) C | |
| 9) D | |