



SATIR SONUNA SIĞMAYAN KELİMELELER

* Aşağıda verilen kelimeleri satır sonuna sığmadığını düşünelim. Kelimeleri uygun yerlerinden bölerek yazalım.

patlıcan

patlı -

can

yüzüyorum

adalet

erkenden

odunluk

iletişim

çalışkan

karanlık

gerçekten

saygısız

uyudum

kaybetmiş

değirmen

yağmurluk

prenses

oynuyorum

tramvay

portakal



TÜRKÇE

1. Etkinlik: Verilen cümlelere uygun soru cümlelerin eşleştiriniz.

A	Babam yeni yerler görmeyi sever.	Şahin Türkçe ödevini bitirmiş mi?
B	Hale akşam yatmadan önce kitap okur.	Teyzenler Ankara'da mı yaşıyor?
C	Şahin Türkçe ödevini bitirdi.	Kiminle ders çalıştınız ?
Ç	Koşu yarışında Melih birinci oldu.	Sinem ne zaman okula başladı ?
D	Yarın müzeye gideceğiz.	Kim yeni yerler görmeyi sever ?
E	Sinem bu yıl okula başladı.	Ercan ile havuzda yüzdünüz mü?
F	Umut ile ders çalıştık.	Yarın nereye gideceksiniz ?
G	Ercan ile havuzda yüzdük.	Hale ne zaman kitap okur?
Ğ	Teyzemler Ankara'da yaşıyor.	Koşu yarışında kim birinci oldu?

2. Etkinlik: Aşağıdaki cümlelerde altı çizili kelimelerin cevap olacağı soru cümleleri yazınız.

Murat kalemini bahçede kaybetmiş
Murat kalemini nerede kaybetmiş ?

Tekin her sabah parkta koşar.

Fırından dört tane ekmek aldım.

Çatıda leylek gördüm.

Ablamla elma topladık.

Salih'in topunu Gökhan almış.

Babam ile kutuları taşıdık.

Soner hasta olduğu için okula gitmedi.



SAĞLIK İÇİN TEMİZLİK

1. Etkinlik: Aşağıdakilerden hangileri yakın çevremizi oluşturur tabloya yazalım.

cadde	sınıf	oda	orman
ev	okul	dağ	park
deniz	göl	apartman	dere

YAKIN ÇEVREMİZ

- 1.).....
- 2.).....
- 3.).....
- 4.).....
- 5.).....
- 6.).....



2. Etkinlik: Aşağıdaki cümleler doğru ise çiçeğini maviye , yanlış ise çiçeğini kırmızıya boyayalım.



Sağlıklı olmak için vücut temizliğimize dikkat etmemiz yeterlidir.



Çöplerimizi yere değil çöp kutusuna atmalıyız.



Evde yaşayan tüm bireylerin evin temizliğinden sorumludur.



Parkları temiz tutmak belediye çalışanlarının görevidir.



Yere atılan çöpler çevreyi kirlletmez.



Sağlıklı olmak için kullandığımız eşyaların ve çevremizin de temiz olması gerekir.



Evin temizliğinden sadece anneler sorumludur.



Parkları temiz tutmak hepimizin görevidir.




Gün içerisinde elimizle bir çok yere dokunuruz , bu nedenle ellerimizi sık sık yıkamalıyız.



SAĞLIKLI BÜYÜYELİM VE GELİŞELİM

1. Etkinlik: Aşağıdaki cümleler doğru ise "D" , yanlış ise "Y" yazalım.

- ☀️ Sağlığımız için düzenli ve dengeli beslenmeliyiz.
- ☀️ Sağlığımız için geç yatmalı ve geç kalkmalıyız.
- ☀️ Sağlığımız için düzenli spor yapmak gerekir .
- ☀️ Günde 5 öğün yemek yersek düzenli beslenmiş oluruz.
- ☀️ Dengeli ve düzenli beslenmek sağlıklı olmak için yeterlidir.
- ☀️ Her besinden fazla fazla yersek dengeli beslenmiş oluruz.
- ☀️ Sağlığımız için kişisel temizliğimize ve bakımımıza dikkat etmeliyiz.
- ☀️ Günde en az 2 kez dişlerimizi fırçalamalıyız.
- ☀️ Vücudumuzun dinlenmeye ihtiyacı yoktur.
- ☀️ Her besinden yeteri kadar yersek dengeli beslenmiş oluruz.



2. Etkinlik: Aşağıda besinleri sağlıklı besinler, sağlıksız besinler şeklinde ayıralım.

et	cips	bisküvi
şekerleme	süt	yumurta
sebze	kola	meyve
hamburger	çorba	çikolata

SAĞLIKLI BESİNLER

SAĞLIKSIZ BESİNLER

3. Etkinlik: Aşağıda yanlış olarak verilmiş olan cümlelerin doğrusunu yazalım.

Yanlış Doğrusu Kahvaltı önemli bir öğün değildir , yapmasak da olur.

Yanlış Doğrusu Akşam yemeğine tatlı yiyerek başlamalıyız.

Yanlış Doğrusu Sebze ve meyve yemeyen insanlar sağlıklı olur.

Yanlış Doğrusu İçerisinde katkı maddeleri olan yiyecekler sağlıklıdır.



TOPLAMA VE ÇIKARMA İŞLEMİ PROBLEMLER

1. Bakkal dolaptaki 85 ekmeğin 67 tanesini satmış. Sonra dolaba 45 tane daha ekmek konmuş. Dolapta kaç tane ekmek vardır ?

Çözüm:



2. Kantinci 56 tane kalemin 3 destesini satmış. Geriye kaç tane kalem kalmıştır ?

Çözüm:



3. Fatih, ablası ve babasının yaşları toplamı 61'dir. Babası 37 , ablası 15 yaşında olduğuna göre, Fatih kaç yaşındadır?

Çözüm:



4. İçinde boncuklar olan üç kutu var. Aralarında 13'er boncuk fark olan kutuların en fazla boncuk olanında 70 boncuk var. En az olan kutuda kaç tane boncuk vardır?

Çözüm:



5. Terzi 60 metre kumaşın önce 17 metresini , sonra 15 metresini kullandı. Geriye kaç metre kumaş kaldı ?

Çözüm:



6. Bir trendeki 93 yolcunun 36 tanesi bayan, 44 tanesi erkek diğerleri çocuktur. Trende kaç tane çocuk yolcu vardır ?

Çözüm:



7. Aralarında üçer yaş olan üç kardeşten en büyüğü 17 yaşındadır. En küçük kardeş kaç yaşındadır?

Çözüm:



8. Ali'nin 83 kitabının 48 tanesi öykü, 19 tanesi masal diğerleri şiir kitabıdır. Ali'nin kaç tane şiir kitabı vardır ?

Çözüm:





TOPLAMA VE ÇIKARMA İŞLEMİ PROBLEMLER

1. 3 düzine yumurtanın 18 tanesi kullanılmış.
Geriye kaç tane yumurta kalmıştır ?

Çözüm:



2. Koray'ın 62 lirası vardı. 27 lirasını
harcadı. Sonra babası 15 lira daha verdi.
Koray'ın kaç lirası olmuştur ?

Çözüm:



3. Gaye 61 tane boncuğun , 24 tanesini
arkadaşına vermiş. Boncukların 17 tanesini
ise kaybetmiş. Gayenin kaç tane boncuğu
kalmıştır ?

Çözüm:



4. Efe 13 , Oya ise 14 yaşındadır. 4 sene
sonra Efe ve Oya'nın yaşları toplamı
kaçtır ?

Çözüm:




5. Annemle babamın yaşları toplamı
63'tür. Annemle babamın 6 yıl önceki
yaşları toplamı kaçtır ?

Çözüm:



6. Kutuda 46 tane sarı boncuk var. Sarı
boncuklar kırmızı boncuklardan 19 tane faz-
la olduğuna göre, kutuda toplam kaç tane
boncuk vardır ?

Çözüm:




7. Salih 13, dedesi 71 yaşındadır. Salih
doğduğunda dedesi kaç yaşındaydı?

Çözüm:



8. Tabakta 50 tane fındık vardı. Fındıkların
34 tanesini yedik. Annem tabağa 17 tane
fındık koydu.Tabakta kaç tane fındık oldu ?

Çözüm:





TOPLAMA VE ÇIKARMA İŞLEMİ PROBLEMLER

Sınıflar	Kız	Erkek	Toplam
2-A	16		34
2-B		15	32
2-C	18		38
2-D	17	23	
2-E		14	33

Aşağıdaki problemleri tablodan yararlanarak çözelim.

1. 2-D sınıfında toplam kaç öğrenci vardır ?

Çözüm:



2. 2-B sınıfında kaç tane kız öğrenci vardır ?

Çözüm:



3. 2-E sınıfında kaç tane kız öğrenci vardır?

Çözüm:



4. Öğrenci sayısı en fazla olan sınıf , öğrenci sayısı en az olan sınıftan kaç tane fazladır ?

Çözüm:



5. 2-A sınıfında kaç tane erkek öğrenci vardır?

Çözüm:



6. 2-D sınıfındaki erkek öğrenciler kız öğrencilerden kaç tane fazladır?

Çözüm:



7. 2-C sınıfında kaç tane erkek öğrenci vardır ?

Çözüm:



8. 2-E sınıfındaki kız öğrenciler erkek öğrencilerden kaç tane fazladır?

Çözüm:





TOPLAMA VE ÇIKARMA İŞLEMİ PROBLEMLER



Abla 13
yaşında



Arda 9
yaşında



Baba 43
yaşında

Anne 38
yaşında



Dede 68
yaşında

Babaanne
65 yaşında

Aşağıdaki problemleri verilen bilgilerden yararlanarak çözelim.

1. Arda'nın babası , dedesinden kaç yaş küçüktür?

Çözüm:



2. Babaanne 18 yıl önce kaç yaşındaydı ?

Çözüm:



3. Dede 9 yıl sonra kaç yaşında olur ?

Çözüm:



4. Anne ile babanın yaşları toplamı kaçtır?

Çözüm:



5. Arda ve ablasının 6 yıl sonra yaşları toplamı kaçtır ?

Çözüm:



6. Arda doğduğunda babası kaç yaşındaydı ?

Çözüm:



7. Ardanın babaannesi , annesinden kaç yaş büyüktür ?

Çözüm:



8. Ablası doğduğunda anne kaç yaşındaydı?

Çözüm:





TOPLAMA VE ÇIKARMA İŞLEMİ PROBLEMLER

1. Simitçi 74 simidin önce 26 , sonra 32 tanesini satmış. Satılacak kaç tane simit kalmıştır?

Çözüm:



2. Şahin'in 70 lirası vardı. Tanesi 16 liradan 2 tane kitap aldı. Geriye kaç lirası kalmıştır?

Çözüm:



3. Annem 28 , babam 33 yaşındadır. 4 yıl önce annem ve babamın yaşları toplamı kaçtı ?

Çözüm:



4. Bahçede 42 erkek ve erkek öğrencilerden 14 eksik kız öğrenci oyun oynamaktadır. Bahçede toplam kaç öğrenci oyun oynamaktadır ?

Çözüm:



5. 37 sayısının 49 fazlasının , 28 eksiği kaçtır ?

Çözüm:



6. Kutuda 36 tane sarı , 48 tane mavi boncuk var. Sarı ve mavi boncukların toplamından 29 eksik kırmızı boncuk var. Kutuda kaç tane kırmızı boncuk vardır ?

Çözüm:



7. Gökhan bahçedeki 25 ağacı suladıktan sonra geriye sulanacak 37 ağaç kalmış. Bahçedeki ağaçların tamamı kaç tanedir ?

Çözüm:



8. Ağaçta 62 tane kuş vardı. Kuşların 28 tanesi uçtu. Sonra 17 tane daha kuş kondu. Ağaçta kaç tane kuş olmuştur?

Çözüm:





TOPLAMA VE ÇIKARMA İŞLEMİ PROBLEMLER

1. 91 sayısının 43 eksiğinin 26 fazlası kaçtır?

Çözüm:



2. Dayım 44 , yengem 39 yaşındadır. 6 yıl önce ikisinin yaşları toplamı kaçtı ?

Çözüm:



3. Annemin 60 lirası vardı. Tanesi 18 liradan 3 kutu lokum aldı. Annemin kaç lirası kaldı?

Çözüm:



4. Evimizle park arası 46 metredir. Evden çıkıp parka gidip gelirim kaç metre yürümüş olurum ?

Çözüm:



5. Gaye 32 tane fındık yemiş. Talat ise Gaye'den 8 fındık eksik yemiş. İki toplam kaç fındık yemiştir ?

Çözüm:



6. Mete'nin 42 mavi , 38 kırmızı boncuğu var. Boncuklarından 26 tanesini arkadaşına vermiş. Mete'nin kaç boncuğu kalmıştır ?

Çözüm:



7. Defne 76 sayfa olan hikaye kitabından her gün 16 sayfa okuyor. Üç gün kitap okuyor. Okunacak kaç sayfa kalmıştır ?

Çözüm:



8. Bir kümeste 85 hayvan var. Hayvanların 46'sı tavuk , 17'si horoz ve geri kalanı hindidir. Kümeste kaç tane hindi vardır ?

Çözüm:





SIVILARI ÖLÇME

1. Etkinlik: Aşağıdaki verilenlerden sıvı maddeleri bulup yazalım.

kömür – su – tuz – taş – limonata
silgi – süt – benzin – elma – kumaş
ayran – kolonya – un – hava – çiçek
mazot – odun – gazoz – çorba – nar
defter – kola – çay – pirinç – kahve

SIVILAR

.....



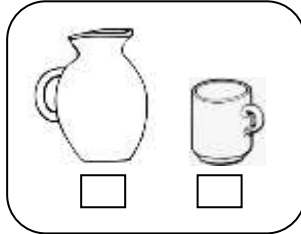

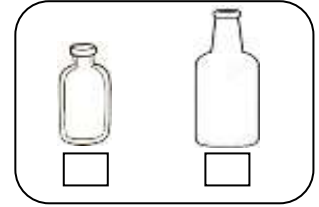
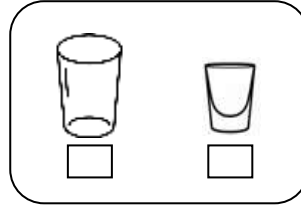
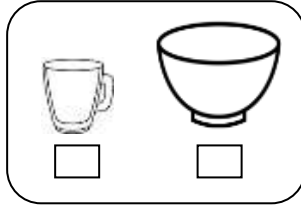
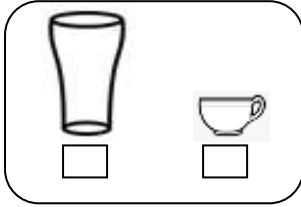
.....

.....

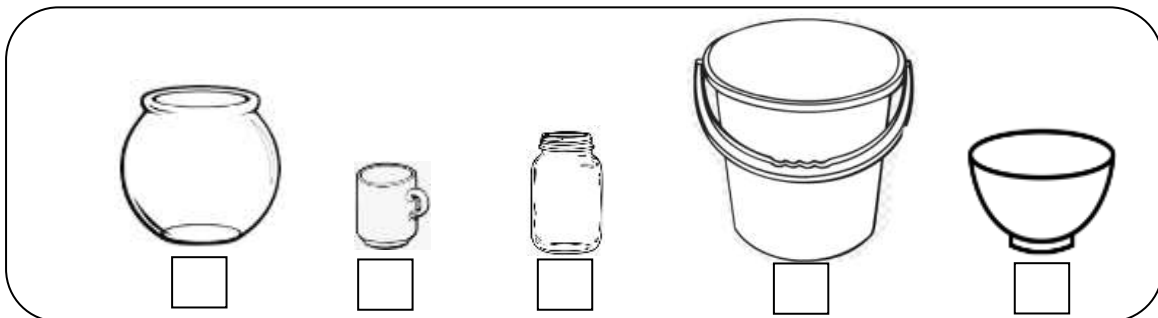
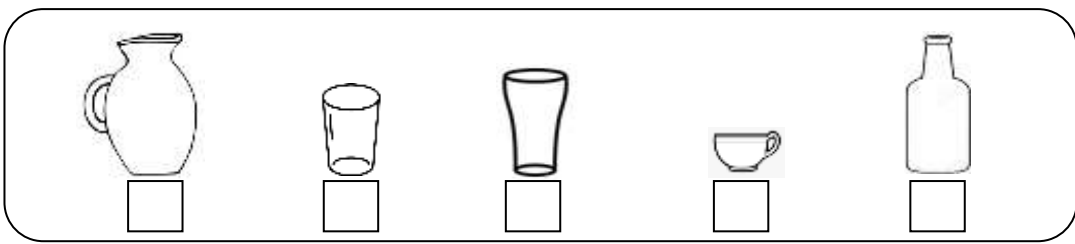
.....



2. Etkinlik: Aşağıda verilen eşyalardan daha çok sıvı alan eşyanın kutusunu boyayalım.




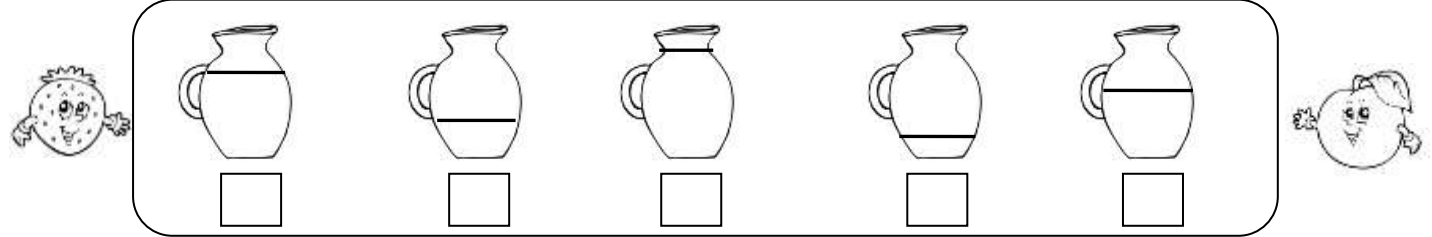
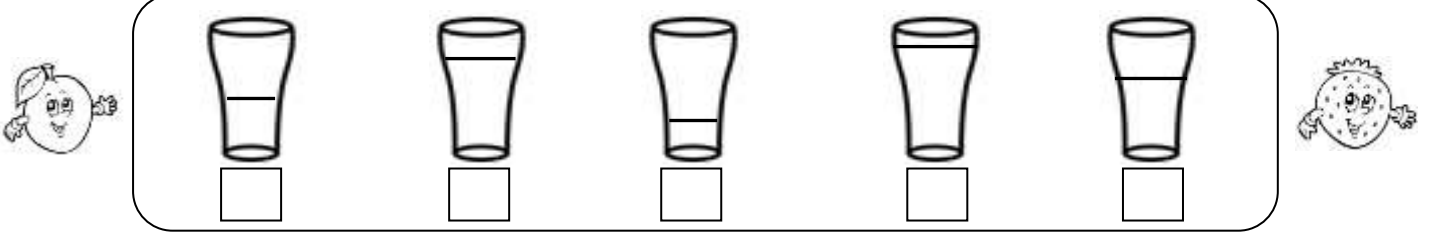
3. Etkinlik: Aşağıdaki kapları alacakları su miktarına göre azdan çoğa doğru numaralandıralım.





SIVILARI ÖLÇME

1. Etkinlik: Aşağıdaki kaplardaki sıvı miktarlarını çoktan aza doğru sıralayalım.



2. Etkinlik: Kutudaki birinci kabı hangisini kullanarak daha çabuk doldurabiliriz?

