


1)

❖	Köpeğimin adını karabaş koydum.
●	Fatma Hanım henüz aramadı.
■	Dayım Samsun'a yarın gidecek.
★	Bizim Fransız bir komşumuz var.

Her biri şekil ile eşleştirilen cümlelerden hangilerinde **büyük harf** kullanımında hata yapılmıştır?

- A) ● - ■ B) ★ - ❖
C) ❖ - ● D) ■ - ★

2)



Yukarıdaki arı, **doğru** yazılan kelimelerin olduğu çiçeklere konacaktır. Buna göre arı kaç çiçeğe konmaz?

- A) 1 B) 2
C) 3 D) 4

3) Aşağıdaki cümlelerin hangisinde **hayal** ürünü bir olay vardır?

- A) Komşumuzun bir köpeği vardı.
B) Köpek her gördüğü insana havlıyordu.
C) Köpek bana "Seni ısıracağım." dedi.
D) Ben köpeklerden korkmam.

4) Hangi kelime **sesteş**(eş sesli) değildir?

- A) çay B) köy
C) kazan D) yaş

5)



Aşağıdaki cümlelerden hangisine yukarıdaki **noktalama** işaretlerinden biri gelmez?

- A) Yaşasın() yarışı ben kazandım!
B) Sinemaya sen de geliyor musun()
C) Nasıl davranacağımı bilmiyorum()
D) Vah vah, komşumuz hasta olmuş()

6) Hangi cümlede **benzetme** yapılmıştır?

- A) Ali'nin altın gibi bir kalbi var.
B) Metin terlediği için hasta oldu.
C) Merve'nin canı dondurma çekmiş.
D) Serkan okulda parasını düşürmüştü.

7)

orman	elmalar	arılar
düzine	kumral	kiler

Yukarıdaki kelimelerden kaç tanesi **çoğul** isimdir?

- A) 4 B) 3
C) 2 D) 1

8)

2384	2452	2339
2442	2345	2351


Tabloda en yakın yüzlüğü 2400 olan sayıların kutularını boyarsak nasıl bir görüntü oluşur?

- A)

 B)

- C)

 D)

- 9)  Her ay bir önceki aydan **98** sayfa fazla kitap okuyan Ali, **ilk ay 124** sayfa kitap okumuştur. Buna göre Ali **5.** ay kaç sayfa kitap okur?

- A) 320 B) 418
C) 516 D) 614


- 10)
$$\begin{array}{r} 663 \\ - 558 \\ \hline \end{array}$$
 Yandaki **işlemd**e sayıları en yakın yüzlüğe yuvarlayarak sonucu **tahmin** edeceğiz.

Buna göre **gerçek** sonuç ile **tahmini** sonuç arasındaki fark kaçtır?

- A) 5 B) 15
C) 25 D) 35

- 11) Bir kasa armut **38** kg gelmektedir. **13** kasa armudun **245** kilogramını sattığıma göre geriye kaç kg armut kaldı?


- A) 239 kg B) 249 kg
C) 259 kg D) 269 kg

- 12)  Küçük bir yumurta kolisine **6** yumurta koyulmaktadır. **852** yumurta için kaç koliye ihtiyaç vardır?

- A) 124 B) 132
C) 142 D) 148





- 13)
$$\boxed{738 \div 9}$$
 Yandaki işlemin sonucu, alttaki işlemlerden hangisinin sonucuna **esittir**?


- A) 9×9 B) $38 + 45$
C) $159 - 75$ D) $574 \div 7$

- 14)  Yandaki **altın** yüzük ile ilgili aşağıdaki bilgilerden hangisi yanlıştır?


- A) Sert bir maddedir.
B) Suya atıldığında batar.
C) Suyu emmez.
D) Mıknatıs tarafından çekilir.

- 15) Aşağıdaki **maddelerden** hangisi suda batmayan bir maddedir.

- A)  Para B)  Vida
C)  Poşet D)  Taş

- 16)  Aşağıdaki esyalardan hangisi **mıknatıs** tarafından çekilmez?

- A) çelik bilye B) gümüş kolye
C) demir çubuk D) nikel kaşık

- 17)  Binaların yıkılması durumunda **sağlam ve hacimli** eşyalar enkazın içinde dediğimiz boşluklar oluşturur.

Yukarıdaki açıklamada **noktalı** yere hangisi gelmelidir?

- A) yaşam üçgeni B) deprem karesi
C) dikdörtgen hamle D) dairesel koruma

- 18) Hangi eşyayı **deprem** riskine karşı duvara sabitlemeye gerek yoktur?

- A) dolap B) halı
C) kitaplık D) televizyon

CEVAP ANAHTARI

- | | |
|------|-------|
| 1) B | 10) A |
| 2) D | 11) B |
| 3) C | 12) C |
| 4) B | 13) D |
| 5) A | 14) D |
| 6) A | 15) C |
| 7) C | 16) B |
| 8) D | 17) A |
| 9) C | 18) B |