



## GEOMETRİK ŞEKİLLER

1-)



Aşağıdaki geometrik şekillerin adlarını altlarına yazınız.



.....

.....



.....

.....

2-)



Aşağıda verilen geometrik şekillerin adlarını eşleştiriniz.



DİKDÖRTGEN

ÜÇGEN

ÇEMBER


KARE

3-)



Aşağıda verilen geometrik şekillerle özelliklerini eşleştiriniz.

Eşit uzunlukta dört kenarı ve dört köşesi vardır.



Köşesi ve kenarı yoktur.

3 kenarı ve 3 köşesi olan şekildir.




Birbirine eşit 2 uzun kenarı ve birbirine eşit 2 kısa kenarı vardır. 4 köşesi vardır.



4-)



Aşağıda verilen geometrik şekillerin kenar sayısı ve köşe sayısını yazınız.



Kenar sayısı: .....

Köşe sayısı: .....

Kenar sayısı: .....

Köşe sayısı: .....

Kenar sayısı: .....

Köşe sayısı: .....

Kenar sayısı: .....

Köşe sayısı: .....

# GEOMETRİK ŞEKİLLER



1-)

Aşağıdaki verilen geometrik şekillerin adlarını yanına yazınız.

Eşit uzunlukta dört kenarı ve dört köşesi vardır.



.....

3 kenarı ve 3 köşesi olan şekildir.



.....

Köşesi ve kenarı yoktur.



.....

Birbirine eşit 2 uzun kenarı ve birbirine eşit 2 kısa kenarı vardır. 4 köşesi vardır.



.....

2-)






Aşağıdaki noktaları birleştirerek oluşan şekillerin isimlerini yazınız.



3-)



Aşağıda verilen geometrik şekillerle isimlerini eşleştiriniz.



ÜÇGEN

KARE

ÇEMBER


DAİRE

DİKDÖRTGEN

4-)



Aşağıda verilen geometrik şekillerin hangisinin eşit 2 uzun kenarı ve 2 kısa kenarı vardır? Şeklin içini boyayarak gösteriniz.



İskender07 (İlkokul etkinlikleri)

www.mebders.com