

GÜZELLİĞİNE GÜVENEN MEYVE

Bir zamanlar, bir ağacın tepesinde güzel bir meyve yaşarmış. Al renkli, güzel kokulu, nefis tatlı bu meyveye herkes hayranmış. Ağaca bakan kimseler, ilk önce onu fark ederlermiş. Hele bir de bu meyvenin kalbinde bir çekirdek varmış ki sormayın gitsin. Toprağa atıldığı zaman kocaman bir ağaç olur, binlerce meyve veririlmiş. Bu çekirdeklerin her birisi adeta bir ağaç fabrikası imiş.

Günlerden bir gün, bir dostu bu meyveye nasihatlerde bulunmuş. "Bak dostum. Artık büyüdün, gösterişli bir meyve oldun. Sen sen ol. Sakın yüzüne gülen canlıların iltifatlarına aldanma! Yoksa sıradan bir meyve gibi çürüyüp gidersin. Onların iltifatları, seni midelerinde öğütüncüye kadardır. Bunun yerine dallarını dört bir yanı salmış kocaman bir ağaç olmaya çalış." demiş.

Güzel meyve, dostunun öğütlerini dinlemiş. Ancak onun kıskançlıktan dolayı böyle söylediğini zannetmiş. Ben güzel olduğum için canlılar bana iltifat ediyor, ağızlarının suları akıyor. Bu da dostumun beni kıskanması ne sebep oluyor, diye düşünmüş. Güzelliğine güvenip aşağıdan geçen canlıların gülümsemelerine kanmış. Bir anlık dalgınlıkla onların kucaklarına düşmüş, midelerinde parçalanıp gitmiş. Ağaç olma hayalleri de suya düşmüş. Çünkü o kıymetli çekirdekleri de kendisiyle birlikte öğütülmüş.



A-) Aşağıda verilen soruları metne göre cevaplayınız.

- 1-) Güzel meyve **nerede** yaşarmış?
- 2-) Güzel meyvenin özellikleri **nelermiş?**
- 3-) Dostu, güzel meyveye **nasıl** bir nasihatte bulunmuş?
- 4-) Güzelliğine güvenen meyvenin bir anlık dikkatsizliği sonucu başına **neler** gelmiş?

www.mebders.com

1) Güzelliğine güvenen meyvenin kalbindeki çekirdek toprağa atıldığında neler olmaktadır?

- A) Toprağı kurutmakta
- B) Kocaman bir ağaç olmakta
- C) Fidan olarak kalmakta

B-) Doğru olanı işaretleyelim.

2) Güzel meyve, dostunun kendisi hakkında ne düşündünü sanmaktadır?

- A) Kendisini sevdiğini
- B) Kendisini yiyeceğini
- C) Kendisini kıskandığını

3) Dostuna göre; meyvelerin yüzüne gülen canlıların iltifatları ne zamana kadar sürecektir?

- A) Midelerine alıp öğütüncüye kadar
- B) Bir dahaki görüşmelerine kadar
- C) Tam olgunlaşınca kadar

HAYAT BİLGİSİ KENDİMİZİ VE ÇEVREMİZİ TEMİZ TUTALIM

Aşağıdaki cümlelerden doğru olanların başına "D", yanlış olanların başına "Y" yazınız.

D	Y	İFADELER
		Sınıf ve evimizde çöpleri çöp kutusuna atmamızdır.
		Meyve ve sebzeleri yıkamadan yemeliyiz.
		Kişisel temizliğimize dikkat ederek sağlığımızı korumalıyız.
		Çevreyi korumak büyüklerin görevidir.
		Sık sık banyo yapmamıza gerek yoktur.
		Çevremizin kirli olması sağlığımızı etkiler.
		Okul bahçesi ve sokakların temizliği bizi ilgilendirmez.
		Her insan temiz bir çevre için çalışmalıdır.

Aşağıdaki görsellerden sağlıklı bir yaşam için temizlik kurallarına uygun olanları işaretleyiz.



Aşağıdaki cümlelerde boş bırakılan yerleri verilen kelimelerle uygun olacak şekilde tamamlayınız.

kişisel

sağlığımız

banyo

ortak

sonra

çevreninde

mikroplar

- Yemekten önce ve ellerimizi yıkamalıyız.
- Sağlıklı olmak için temizliğimize özen göstermeliyiz.
- Yaşadığımız sağlığımız üzerinde etkisi vardır.
- Ortak kullanım alanlarının temizliği için önemlidir.
- Okul, sınıf, park, okul bahçesi gibi alanlar kullanım alanlarıdır.
- Hastalanmamıza neden olan en çok kirli yerlerde dolaşır.

HAYAT BİLGİSİ YEMEKTE GÖRGÜ KURALLARI

Aşağıda verilen yemek yerken uyulması gereken görgü kurallarını işaretleyiniz.

Herkesle aynı anda sofraya oturmak ve kalkmak

Sofranın hazırlanmasını masada beklemek

Yemek yerken ağızımızı açık tutmalıyız.

Tabağımıza yiyebileceğimiz kadar yemek almalıyız.

Ağızımızda yemek varken konuşmamalıyız.

Yemek yerken çatal, kaşık kullanmalıyız.

Yemek yerken ağızımızı şapırdatmamalıyız.

Yemeğimizi büyük lokmalar olarak hemen bitirmeliyiz.

Tabaktaki yemeğin hepsini bitirmemek

Ağızımıza küçük lokmalar almalıyız.



Aşağıdaki görsellerde ifade edilen yanlış davranışları ve yapılması gereken doğru davranışları yazınız.



Empty box for writing the correct behavior for the first illustration.



Empty box for writing the correct behavior for the second illustration.



Empty box for writing the correct behavior for the third illustration.

BÜYÜK HARFLERİN KULLANILDIĞI YERLER

Aşağıdaki cümlelerde yanlış yazılan sözcüklerin altını örnekte gibi çizelim. Doğru şekilde kutucuklara yazalım.

- Arkadaşım nermin voleybol kursuna gitti. →
- derslerime planlı ve düzenli çalışırım. →
- Ülkemizin başkenti ankara'dır. →
- Ben, 12 mayıs Cuma günü doğmuşum. →
- Osman abim istanbul'da askerlik yaptı. →
- Okulum Vatan caddesi üzerindedir. →
- Efe, Cumhuriyet ilkokuluna gidiyor. →
- Kayseri'deki erciyes dağı kaç metre yüksekliktedir ? →
- Öğretmenim kül kedisi masalını sınıfta okudu. →
- Köpeğimin adını bingo koydum. →

Aşağıdaki sözcüklerden her zaman büyük harfle başlaması gerekenleri işaretleyiniz.

 Eskişehir Armut Akdeniz Hamza Portakal Tuz Gölü Türkiye Kızılırmak Okul Papatya Amerika İngilizce

BÜYÜK HARFLERİN KULLANILDIĞI YERLER

Aşağıdaki cümlelerde büyük harfle başlaması gereken sözcüklerin altını çiziniz. Neden büyük harfle başlaması gerektiğini örnekteki gibi yazınız.

CÜMLELER	NEDEN
İlçemizde bulunan <u>meşe ormanı</u> çok güzelmiş.	Yer adı
anne ve babamı çok seviyorum.	
Uçak ile almanya'ya gideceğiz.	
Kütüphanede kurşun asker adlı kitabı okudum.	
Bu yıl kurban bayramı ne zaman?	
Köpeğimiz karabaş çok akıllı bir hayvandır.	
Biz okulda ingilizce öğreniyoruz.	
İlkokuldaki sınıf öğretmenimin adı fikret bingöl'dür.	
Teyzem vatan caddesinde oturuyor.	
Ailemle beraber anıtkabir'i ziyaret ettik.	

Aşağıdaki cümleleri yazım kurallarına uygun olarak doğru halini yeniden yazınız.

babam yarın sabah İstanbul'a gidecek.

Teyzemler dün fransadan geldiler.

Bahçede pamuk mamasını yedi.

Her ay düzenli olarak bilim çocuk dergisi alırız.

Kasabanın meydanında cumhuriyet bayramını kutladık.

BÜYÜK HARFLERİN KULLANILDIĞI YERLER

Büyük harflerin kullanıldığı yerler aşağıda açıklanmıştır. Bu açıklamaların altına örnek olacak uygun cümleler yazınız.

1-) Cümlelerin ilk harfi büyük harfler başlar.

Örnek :

2-) Kişi adlarıyla soyadları büyük harfle başlayarak yazılır.

Örnek :

3-) Hayvanlara verilen özel adlar büyük harfle başlanarak yazılır.

Örnek :

4-) Millet(ulus) ve dil adları büyük harfle başlanarak yazılır.

Örnek :

5-) Ülke, şehir, ilçe, mahalle, cadde ve sokak adları büyük harfler başlanarak yazılır.

Örnek :

6-) Kitap, dergi, gazete adları büyük harfle başlanarak yazılır.

Örnek :

7-) Milli ve dini bayram adları büyük harfle başlanarak yazılır.

Örnek :

8-) Belirli bir tarih belirten ay ve gün adları büyük harfler başlanarak yazılır.

Örnek :

BÜYÜK HARFLERİN KULLANILDIĞI YERLER

Aşağıda büyük harflerin nerelerde kullanıldığı gösterilmiştir. İnceleyiniz. Birer örnek de siz yazınız.

1-) Cümlelerin ilk harfi büyük yazılır.

Akşam hikaye kitabımı bitireceğim.

2-) Özel adların ilk harfi büyük yazılır.

Bahçedeki öğrenci Osman değil mi?

Baharın gelişi Antalya'ya çok yakıştı.

Milli takımımız Fransa ile berabere kaldı.

Niğde'nin Çamardı ilçesinde bulunan Aladağlar Milli Parkı'nı gezdik.

3-) Hayvanlara verilen özel adlar büyük harfle başlar.

Bugün bahçede Karabaş'ın kulübesini yaptık.

4-) Kurum ve kuruluş adlarının her sözcüğü büyük harfle başlar.

Türk Dil Kurumu'na uygun sözlük aldım.

Nazmiye Pınar İlkokulu 2-A sınıfında okumaktayım.

5-) Bayram adları büyük harfle başlar.

23 Nisan Ulusal Egemenlik ve Çocuk Bayramı kutlanıyor.

Ramazan Bayramı üç gündür.

6-) Kitap adlarının her sözcüğü büyük harfle başlar.

"Kırmızı Başlıklı Kız " adlı kitabı okudum.

7-) Mektuplardaki hitap sözcükleri büyük harfle başlar.

Canım Öğretmenim, Sevgili Anneciğim,

8-) Adreslerdeki her sözcüğün ilk harfi büyük yazılır.

Eren BÜLBÜL

Mehmetçik Caddesi, Kahraman Sokak,

Vatan Apartmanı, Nu : 45, Daire : 8

Maçka/ Trabzon

Adresinizi yazın

9-) Şiirde her dizenin ilk harfi büyük yazılır.

2.SINIF SIVILARI ÖLÇME PROBLEM ÇALIŞMASI



5 Kova



Mehmet arabasını yıkamak için 5 kova su kullanıyor.1 kova suyu 3 sürahi su dolduruyor. Buna göre Mehmet arabayı yıkarken **kaç sürahi** su kullanmıştır?



1 damacanayı 3 kova su doldurmaktadır.




1 kovayı 4 sürahi su doldurmaktadır.

• 4 damacana suyu doldurmak için kaç kova su gerekir?

• 5 kova suyu doldurmak için kaç sürahi su gerekir?

• 3 damacana suyu doldurmak için kaç **sürahi** su gerekir?



Bir kutu süttten 4 su bardağı süt çıkmaktadır. 5 kutu süttten kaç su bardağı süt çıkar?



1 şişeden 6 çay bardağı su çıkmaktadır. 5 şişeden kaç çay bardağı su çıkar?



1 şişe şuruptan 8 çay kaşığı şurup çıkmaktadır. Hastalığı geçene kadar 3 şişe şurup içen bir çocuk kaç çay kaşığı şurup içmiştir?

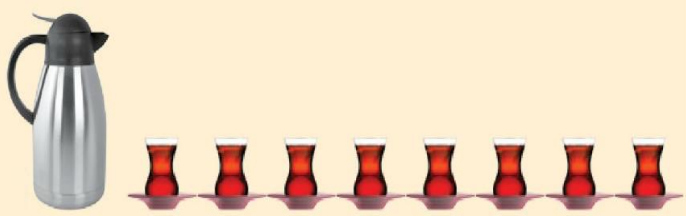
2.SINIF SIVILARI ÖLÇME PROBLEM ÇALIŞMASI



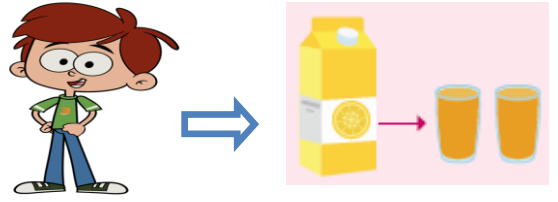
Bir sürahi 6 bardak ayranı doldurmaktadır. Buna göre 2 sürahi ayran kaç tane bardağı doldurabilir?



Bir varilde 24 kova su vardır. Bu varilden önce 8, sonra 5 kova su kullanılmıştır. Varilde kalan su ile kaç kova daha su doldurulabilir?

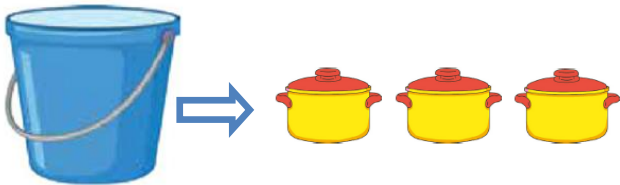


Bir termosun içindeki çayın tamamı yukarıda verilen sayı kadar çay bardağı doldurmaktadır. 3 termos kaç tane çay bardağını doldurabilir?



Erdem bir günde 2 su bardağı portakal suyu içmektedir. Erdem bir hafta boyunca toplam kaç su bardağı portakal suyu içmiştir?

(Ritmik sayarak cevaplayalım)



Bir kovayı, 3 tencere su doldurabildiğine göre 3 kovayı doldurabilmek için kaç tencere su gereklidir?



1 sürahi, 6 su bardağı ile dolmaktadır. 1 su bardağı 2 çay bardağı ile dolduğuna göre 1 sürahi kaç çay bardağı ile dolabilir?

2.SINIF SIVILARI ÖLÇME PROBLEM ÇALIŞMASI



Kova 2 sürahi su ile dolmaktadır. Sürahi 6 bardak su ile dolduğuna göre kovayı kaç su bardağı ile doldurabiliriz?



Bir damacanayı 3 kova su, bir kovayı 5 tencere su doldurmaktadır. Buna göre 1 damacana suyu kaç tencere ile doldurabiliriz?

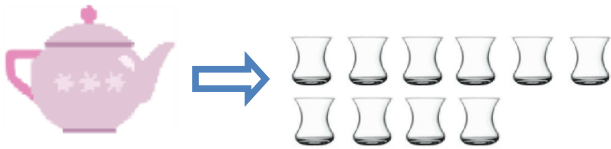


Bir şişede yukarıda verilen çay kaşığı sayısı kadar şurup vardır. Hastalanan Elif ilk gün 3 çay kaşığı şurup içtiğine göre geriye kaç çay kaşığı şurup içmesi gerekir?



4 fincan ile bir su bardağı dolmaktadır. 4 su bardağı ile bir sürahi dolmaktadır. Buna göre aşağıdaki soruları cevaplayınız.

- 3 su bardağı kaç fincan su ile dolar?
- 3 sürahi kaç su bardağı ile dolmaktadır?



Bir demlik yukarıda verilen çay bardaklarını doldurabilmektedir. 2 demlik çay içen bir aile kaç çay bardağı çay içmiştir?



Kova, 5 sürahi su ile doluyor. Sürahi 4 kupa su ile doluyor. Buna göre;

- 2 Kova kaç sürahi su ile dolar?
- 2 sürahi kaç kupa su ile dolar?

SIVI ÖLÇÜLERİ PROBLEMLERİ

1-) Erdem bir günde 8 bardak su içmektedir. Erdem 3 günde toplam kaç bardak su içmektedir?



Cevap:

2-) Elif bir kova suyu 4 sürahi ile dolduruyor. Sürahiyi ise 5 bardak su ile doldurmaktadır. Bu göre kova kaç bardak su almaktadır?



Cevap:

3-) Kadriye bir paket süttten 4 su bardağı süt almaktadır. Kadriye yaptığı sütlü tatlı için 2 paket süt kullandığına göre kaç su bardağı süt kullanabilir?



Cevap:

4-) Tanju bir demlikten 12 bardak çay çıkarmıştır. 2 demlik çaydan, 17 bardak çay içtiğine göre demlikte kaç bardak çay kalmıştır?

KITAP OKUYARAK
BENİM GİBİBOKAK HAYVANLARI
YARDIMCI OLABİLECEĞİNİZİ
BİLİYOR MUYDUNUZ?



Cevap:

5-) Hayri'nin ineği günde 3 kova süt vermektedir. Bir kova süt 8 şişeyi doldurmaktadır. Buna göre Hayri, bir günde ineklerden kaç şişe süt elde etmektedir?



Cevap:

6-) Arı Maya her gün 1 su bardağı bal yapmaktadır. 1 su bardağı balı 27 çay kaşığına doldurduğuna göre 2 su bardağı balı kaç çay kaşığına doldurabilir?



Cevap:

7-) Kaptan Pengu günde 18 bardak su içmektedir. 3 günde kaç bardak su içebilir?



Cevap:

8-) Aslan bir kovayı 45 su bardağı ile dolmuştur. Aslan kovadan 12 su bardağı, su alarak çiçekleri sulamıştır. Daha sonra kovaya 25 bardak su eklemiştir. Son durumda kovada kaç bardak su vardır?




Cevap:

GEOMETRİK ŞEKİLLER

1-)



Aşağıdaki geometrik şekillerin adlarını altlarına yazınız.



.....

.....



.....

.....

2-)



Aşağıda verilen geometrik şekillerin adlarını eşleştiriniz.



DİKDÖRTGEN

ÜÇGEN

ÇEMBER


KARE

3-)



Aşağıda verilen geometrik şekillerle özelliklerini eşleştiriniz.

Eşit uzunlukta dört kenarı ve dört köşesi vardır.



Köşesi ve kenarı yoktur.

3 kenarı ve 3 köşesi olan şekildir.




Birbirine eşit 2 uzun kenarı ve birbirine eşit 2 kısa kenarı vardır. 4 köşesi vardır.



4-)



Aşağıda verilen geometrik şekillerin kenar sayısı ve köşe sayısını yazınız.



Kenar sayısı:

Köşe sayısı:

Kenar sayısı:

Köşe sayısı:

Kenar sayısı:

Köşe sayısı:

Kenar sayısı:

Köşe sayısı:

GEOMETRİK ŞEKİLLER



1-)

Aşağıdaki verilen geometrik şekillerin adlarını yanına yazınız.

Eşit uzunlukta dört kenarı ve dört köşesi vardır.



.....

3 kenarı ve 3 köşesi olan şekildir.



.....

Köşesi ve kenarı yoktur.



.....

Birbirine eşit 2 uzun kenarı ve birbirine eşit 2 kısa kenarı vardır. 4 köşesi vardır.



.....

2-)






Aşağıdaki noktaları birleştirerek oluşan şekillerin isimlerini yazınız.



3-)



Aşağıda verilen geometrik şekillerle isimlerini eşleştiriniz.



ÜÇGEN

KARE

ÇEMBER


DAİRE

DİKDÖRTGEN

4-)



Aşağıda verilen geometrik şekillerin hangisinin eşit 2 uzun kenarı ve 2 kısa kenarı vardır? Şeklin içini boyayarak gösteriniz.



İskender07 (İlkokul etkinlikleri)

www.mebders.com



SEN OKUYACAĞIN

Çankırı girişinde, okulumuz yol boyunca yerini aldı. Atatürk karşıdan güzüktü. Çok şık giyinmişti. Atatürk, hizama yaklaşırken elimdeki çiçekle sıradan çıktım. Bir demet çiçeği Atatürk'e sundum. Atatürk, çiçek demetini aldı, sol eliyle yanağımı okşadı.

- Okuyacak mısın yavrum?
- Okuyacağım Ata'm.
- Yavrum, sen okuyacaksın. İyi bir asker olacaksın.
- Asker olacağım Ata'm, dedim. Yanağımdaki o okşamanın hazzını yaşamaya başladım. **SALİM SAVCI**

Not: İlk 3 soruyu metne göre cevaplayınız.

1) Atatürk nereye gidiyordu?

- A) Çankırı B) Ankara C) İzmir

2) Çocuk, Atatürk'e ne verdi?

- A) Mektup B) Çelenk
C) Çiçek

3) Atatürk çocuğa hangi soruyu sordu?

- A) Sen asker mi olacaksın?
B) Okuyacak mısın yavrum?
C) Doktor mu olacaksın?

4)

- Yazı Başlıkları
- Kişi adları
- Eşya adları
- Hayvanlara verilen adlar


Yukarıda verilenlerden kaç tanesi büyük harfler başlar?


- A) 1 B) 2 C) 3


5) Aşağıdaki kelimelerden hangisinin ilk harfi daima büyük harfle başlar?

- A) Ulus B) Türkiye
C) Yurt

6) Aşağıdaki cümlelerin hangisinde büyük harflerin kullanımı ile ilgili bir yanlışlık yapılmıştır?

A)  Gemiler İstanbul Boğazi'na demir attı.

B)  Teyzemler Temmuz ayında gelecekler.

C)  Eylül ayında Ağrı Dağı'na kar yağmış.

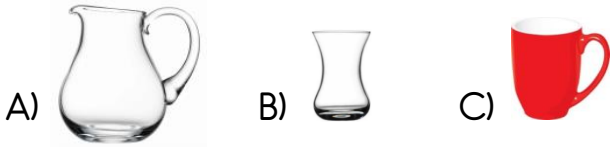
7) Hangi cümlede büyük harflerin kullanımı ile ilgili yazım yanlışı **yapılmıştır**?

- A) Akşam bize nail'in annesi geldi.
B) Köpeğim Karabaş çok akıllıdır.
C) Niğde'nin elması meşhurdur.

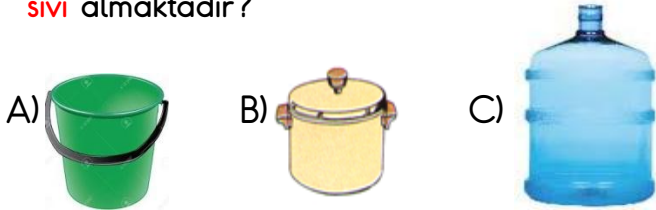
8) "Çarşamba" sözcüğü hangi cümlede **doğru** yazılmıştır?

- A) Yaz tatilinde Samsun'un çarşamba ilçesine gittik.
B) Mahallemize çarşamba günü, pazar kuruluyor.
C) 13 Ekim çarşamba günü geldiler.

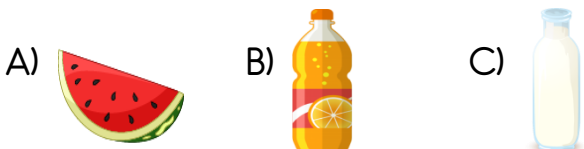
9) Aşağıdaki kaplardan hangisi daha **az sıvı** almaktadır?



10) Aşağıdaki kaplardan hangisi daha **çok sıvı** almaktadır?



11) Aşağıdakilerden hangisi sıvı **değildir**?




Bir kova suyu 4 sürahi ile dolduran Ahmet **3 kova suyu** kaç sürahi ile doldurabilir?

- A) 8 B) 12 C) 16



Bir kutu süttten 5 su bardağı süt çıkmaktadır. **4 kutu sütü** kaç su bardağına boşaltabiliriz?

- A) 20 B) 16 C) 24



1 şişe şuruptan 8 çay kaşığı şurup çıkmaktadır. Hastalığı geçene kadar **3 şişe şurup** içen bir çocuk **kaç çay kaşığı şurup** içmiştir?

- A) 16 B) 20 C) 24

15)



Yukarıdaki damacana 4 kova su almaktadır. Kova ise 5 sürahi su almaktadır. Damacanaya 2 kova su koyduktan sonra kalan kısmı sürahi ile doldurmak istersek kaç sürahi suya ihtiyacımız vardır?

- A) 20 B) 15 C) 10

16) Aşağıdakilerden hangisi yemekteki görgü kurallarında birisi değildir?


- A) Kendi tabağımızdan yemek yemek
B) Günde üç öğün yemek yemek
C) Yemek yerken ağızımızı kapalı tutmak

- 17) I. Sofrada yüksek sesle konuşmamalıyız.
II. Yemek yerken çatal, kaşık, bıçak kullanmalıyız.
III. Arkadaşımızın tabağından yiyebiliriz.

Yukarıda verilen ifadelerden hangilerini yemek yerken yapmamız gerekir?

- A) I ve II
B) Yalnız III
C) I ve III

18) Aşağıdaki görsellerin hangisinde yemekten önce ve sonra yapmamız gereken davranış gösterilmiştir?




19)



Aşağıdakilerden hangisi beden temizliğimiz için yapmamız gerekenlerden birisi değildir?

- A) Tırnak ve saç bakımını yapmak
B) Düzenli banyo yapmak
C) Doğal besinler tüketmek

20) Aşağıdaki çocuklardan hangisi yemekte görgü kuralına uymaktadır?



Cevap Anahtarı

1)A 2)C 3)B 4)C 5)B
6)B 7)A 8)B 9)B 10)C
11)A 12)B 13)A 14)C 15)C
16)B 17)A 18)A 19)C 20)A