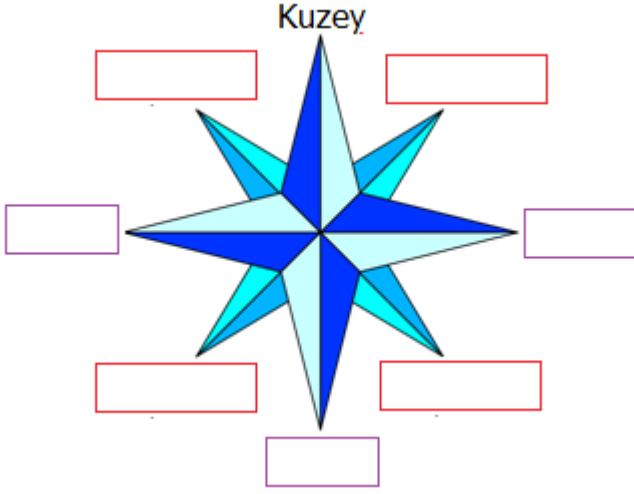


3. Ünite Değerlendirme Etkinliği



Pusulaya yönleri yazıp, **boşlukları** doldurunuz.



1. Güneş doğar.
2. Güneş batar.
3. Pusula yatay olarak tutulduğunda renkli uç daima gösterir.
4. Kuzey ile doğu arasında bulunur.
5. Kuzey ile batı arasında bulunur.
6. Güney ile doğu arasında bulunur.
7. Güney ile batı arasında bulunur.



Görsellerin altlarına **doğal unsur** veya **yapay unsur** yazınız.



Aşağıda görselleri verilen **hava olaylarının** isimlerini yazınız.



Aşağıdaki cümlelerden **doğru** olanlara **D**, **yanlış** olanlara **Y** yazınız.

1	Karın kütleler halinde koparak aşağı düşmesine heyelan denir.	→	<input type="text"/>
2	Sel baskını önlemek için öncelikle doğaya karşı duyarlı olunmalıdır.	→	<input type="text"/>
3	Fırtınalar saatteki hızı 100-110 km'yi bulan şiddetli rüzgârlardır.	→	<input type="text"/>
4	Yurdumuz dünyanın önemli deprem kuşaklarından birinin üzerindedir.	→	<input type="text"/>
5	Deprem sırasında bina dışına çıkılırken asansör kullanılmalıdır.	→	<input type="text"/>
6	Deprem çantasında dayanıklı gıdalar, ilaç, battaniye bulunabilir.	→	<input type="text"/>

TEKRAR TESTİ

1)



Öğretmen, öğrencilerden **ara yönlere** örnek vermelerini istemiştir. Buna göre kaç öğrenci yanlış cevap vermiştir?

- A) 1 B) 2
C) 3 D) 4

2)



Serhat, Güneş'in doğuş yönüne **arkasını** dönmüştür.

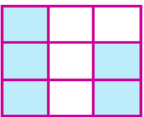
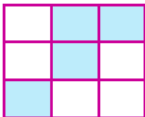

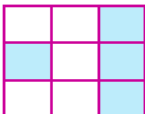
Buna göre Serhat'ın **sağ kolu** hangi yönü gösterir?

- A) güney B) batı
C) doğu D) kuzey

3)



Beşeri unsurların kutularını boyarsak ortaya nasıl bir **görüntü** çıkar?

- A)  B) 
C)  D) 

4)



Hava olaylarını inceleyen bilim dalı aşağıdakilerden hangisidir?

- A) meteoroloji B) biyoloji
C) termometre D) kronoloji

5)

Aşağıdakilerden hangisi ülkemizde **hava tahminleri** yapan kurumun görevlerinden değildir?

- A) Tarımsal faaliyetlerde bulunanlara yardımcı olmak
B) Doğal afetlerden zarar görenlere yardımcı olmak
C) Hava araçlarına meteorolojik bilgi desteği vermek
D) Meteorolojik bilgi ve tahminlerde bulunmak

6)



Deprem sırasında aşağıdaki **davranışlardan** hangisini yapmalıyız?

- A) Evden çıkarken asansör kullanmalıyız.
B) Binaların yoğun olduğu yere gitmeliyiz.
C) Pencere önlerinde durmamalıyız.
D) Yüksek katlardan aşağı atlamalıyız.

7)



Aşağıdakilerden hangisi **deprem** sonrası yapılacaklardan değildir?

- A) Zorunlu olmadıkça telefonları meşgul etmemek
B) Arama kurtarma ve ilk yardım ekiplerine yardımcı olmak
C) Dağıtılan yardım malzemelerinden ihtiyaç fazlasını almak
D) Bulaşıcı hastalıklara karşı temizlik kurallarına uymak.