

Adı :
Soyadı :

4. Sınıf Sosyal Bilgiler

Yaşadığımız Yer Test-1

1) Aşağıdakilerden hangisi doğal unsur değildir?

- A) Otopark
B) Deniz
C) Şelale
D) Dağ

2) Aşağıdakilerden hangisi beşerî unsurlardan biri değildir?





- A) Orman
B) Hayvanat Bahçesi
C) Akvaryum
D) Çocuk Parkı

1	Göl	Beşerî Unsur
2	Dere	Doğal Unsur
3	Nehir	Beşerî Unsur
4	Otoyol	Beşerî Unsur
5	Köprü	Doğal Unsur

3) Yukarıdaki tabloya göre hangisi yanlış eşleştirilmiştir?

- A) 1-2-4
B) 1-3-5
C) 2-4-5
D) 2-3-5

4) Aşağıda verilen görsellerden hangisi beşerî unsurlardan değildir?

- A)  B) 
- C)  D) 

5) Aşağıdakilerden hangisi yapılış-oluşum durumlarına göre diğerlerinden farklıdır?

- A) Köy
B) Şehir
C) Fabrika
D) Orman



6) Yukarıda verilen iki görselin ortak özelliği aşağıdakilerden hangisi değildir?

- A) İnsanlar tarafından yapılmıştır.
B) Kendiliğinden oluşmuştur.
C) Oluşmasında insanların etkisi yoktur.
D) Doğal yollarla oluşmuşlardır.

I- Doğal ve beşerî unsurlar birlikte çevremizi oluşturur.

II- Nüfus arttıkça beşerî unsurların miktarı giderek artmaktadır.

III-İnsanlar doğal unsurları ihtiyaçlarına göre değiştirmektedir.

7) Yukarıda verilen bilgilerden hangisi ya da hangileri doğrudur?

- A) I-II
B) II-III
C) I-III
D) I-II-III

Adı :

Soyadı:

4. Sınıf Sosyal Bilgiler

Yaşadığımız Yer
Test-1

8) Aşağıda verilen yuvalardan hangisi beşerî barınaktır?

- A) Mağara
B) Ağaç kavuğu
C) Toprak
D) Kovan

9) İnsanların doğal çevreye verdiği zararlar sonucunda hangisi oluşmaz?

- A) Ormanlar azalır.
B) Dere ve denizler kirlenir.
C) Birçok canlı türü yok olur.
D) Doğanın kirliliği azalır.



10) Yukarıdaki görsele göre 1 numaralı yön hangisidir?

- A) Doğu
B) Kuzey
C) Batı
D) Güney

11) Yukarıdaki görsele göre 7 numaralı yön hangisidir?

- A) Güneybatı
B) Güneydoğu
C) Kuzeybatı
D) Kuzeydoğu

12) Yukarıdaki görsele göre güneybatı yönünü gösteren rakam kaçtır?

- A) 5
B) 6
C) 7
D) 4

13) Aşağıdakilerden hangisi ara yönlerden değildir?

- A) Kuzeydoğu
B) Güneybatı
C) Güneydoğu
D) Kuzeygüney

14) Güneybatı yönünün tam karşısında hangi yön bulunmaktadır?

- A) Kuzeydoğu
B) Güneydoğu
C) Güney
D) Batı

15) Batı ile kuzey arasında kalan ara yön hangisidir?

- A) Kuzeydoğu
B) Güneydoğu
C) Kuzeybatı
D) Güneybatı



16) Türkiye haritasına göre Sinop hangi yönde bulunmaktadır?

- A) Kuzeydoğu
B) Kuzey
C) Kuzeybatı
D) Güney

Adı :

Soyadı:

4. Sınıf Sosyal Bilgiler

Yaşadığımız Yer Test-1

17) Türkiye haritasına göre kuzeybatı yönünde hangi şehir bulunmaktadır?

- A) Muğla
B) Hakkâri
C) Edirne
D) Artvin

18) Aşağıda verilen bilgilerden hangisi yanlıştır?

- A) Yönler güneşin hareketlerine ve bulunduğu konuma göre belirlenir.
B) 4 tane ana yön 4 tane ara yön vardır.
C) Ay'a bakarak yönümüzü bulabiliriz.
D) Yolumuzu tarif ederken yönlerden faydalanabiliriz.

19) Aşağıda verilen eşleştirmelerden hangisi yanlıştır?

- A) Kuzey ile batı arasında kuzeybatı
B) Güney ile batı arasında güneybatı
C) Kuzey ile güney arasında kuzeygüney
D) Doğu ile kuzey arasında kuzeydoğu

Güneşdoğar,batar.

20) Yukarıdaki cümlede boş yerlere sırası ile hangi kelimeler gelmelidir?

- A) kuzeyden - güneyden
B) doğudan - kuzeyden
C) batıdan - doğudan
D) doğudan - batıdan

21) Güneş doğduğu anda yönümüzü güneşe döndüğümüzde arkamızda kalan yön hangisidir?

- A) batı
B) kuzey
C) güney
D) doğu

22) Güneş batarken yönümüzü güneşe döndüğümüzde solumuzda yön hangisidir?

- A) batı
B) kuzey
C) güney
D) doğu

23) Yönümüzü bulmak için aşağıdaki araçlardan hangisinden faydalanırız?

- A) Mikroskop
B) Stetoskop
C) Teleskop
D) Pusula

24) Pusulalarda bulunan renkli ibre hangi yönü göstermektedir.

- A) Güney
B) Kuzey
C) Batı
D) Doğu

25) Aşağıdakilerden hangisi yönümüzü bulmak için faydalandığımız yöntemlerden değildir?

- A) Ağaç yosunları
B) Karınca yuvaları
C) Kutup Yıldızı
D) Deniz dalgaları

Adı :
Soyadı:

4. Sınıf Sosyal Bilgiler

Yaşadığımız Yer Test-1

26) Ormanda ağaçlardan faydalanarak yönümüzü nasıl buluruz?



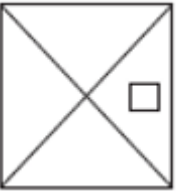

- A) Ağaçların gölgesi batıyı gösterir.
- B) Ağaçların yosunları kuzeyi gösterir.
- C) Kuşlar yuvalarını ağaçların doğu tarafına yaparlar.
- D) Karıncalar ağaçların güney tarafına yuva yaparlar.

- Ağaç yosunları
- Mezar taşları
- Güneş'in konumu
- Ayın şekli
- Deniz dalgaları

27) Yukarıdakilerden kaç tanesi sayesinde yönümüzü bulabiliriz?

- A) 1
- B) 2
- C) 3
- D) 4

28) Aşağıdakilerden hangisi bir evin kuşbakışı görünümünü göre çizilmiştir?

- A) 
- B) 
- C) 
- D) 

29) Bir yerin kuşbakışı görünümünün kabataslak çizilmiş şekline ne denir?

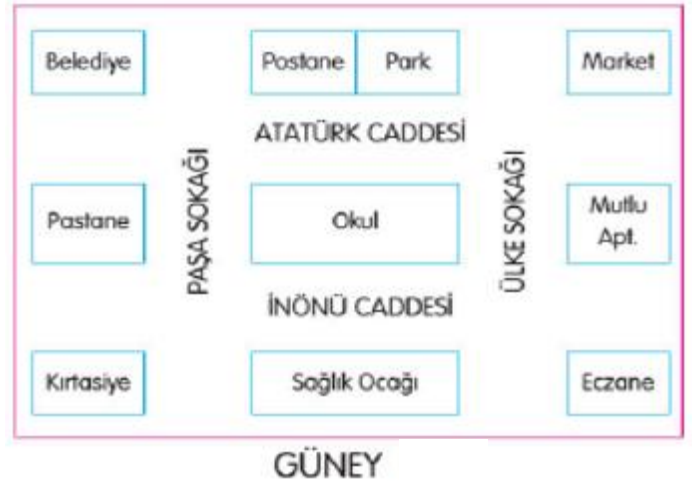
- A) Proje
- B) Plan
- C) Kroki
- D) Çevre

30) Aşağıdaki durumlardan hangisinde krokilerden faydalanırız?

- A) Adres tarifi yaparken
- B) Şehir planlaması yaparken
- C) Hava durumu raporu hazırlarken
- D) Çocuk oyun parkı yapılırken

31) Kroki için aşağıdakilerden hangisi söylenemez?

- A) Ayrıntılı ve cetvel kullanılarak çizilir.
- B) Gerçek uzaklıklar ölçülerek yapılır.
- C) Tahmini ve kabataslak çizilir.
- D) hareketli varlıklar da gösterilir.



32) Yukarıdaki krokiye göre parkın güneyinde hangisi bulunmaktadır?

- A) Postane
- B) Market
- C) Pastane
- D) Eczane

Adı :
Soyadı:

4. Sınıf Sosyal Bilgiler

Yaşadığımız Yer Test-1

33) Yukarıdaki krokiye göre market; okulun hangi yönünde bulunmaktadır?

- A) kuzeybatı B) kuzeydoğu
C) güneydoğu D) güneybatı

34) Yukarıdaki krokiye göre aşağıdakilerden hangisi Paşa Sokağı'nın doğusunda yer alır?

- A) Belediye B) Okul
C) Kırtasiye D) Pastane

35) Yukarıdaki krokiye göre aşağıda verilen bilgilerden hangisi yanlıştır?

- A) İnönü Caddesi'nin kuzeyinde sağlık ocağı bulunur.
B) Mutlu Apartmanı marketin güneyindedir.
C) Pastane kırtasiyenin kuzeyindedir.
D) Okul Atatürk Caddesinin güneyinde kalır.

Eskişehir	Ankara	Sivas	Hakkâri	Adana
9°	12°	4°	-7°	20°
				

36) Yukarıdaki tabloya göre hangi bilgi yanlıştır?

- A) Hakkâri Sivas'tan daha sıcaktır.
B) En sıcak şehir Adana'dır.
C) Ankara ve Adana'da hava yağmurludur.
D) Eskişehir'de hava parçalı bulutludur.

37) Hava tahmin raporları diğerlerine göre en az hangi meslek gurupları tarafından takip edilir?

- A) Balıkçılar
B) Doktorlar
C) Çiftçiler
D) Pilotlar

38) Ülkemizde hava olaylarını her gün inceleyerek insanlara duyuran kurum hangisidir?

- A) Hava Durumu Kontrol Müdürlüğü
B) Hava Durumu Spikerleri
C) Meteoroloji Genel Müdürlüğü
D) Astroloji Müdürlüğü

39) Havanın sıcaklığını ölçmemize yarayan alet aşağıdakilerden hangisidir?

- A) termometre B) barometre
C) sismograf D) stetoskop

40) İnsanlara ve çevreye zarar veren can ve mal kaybına neden olan büyük felaketlerin genel adı hangisidir?

- A) Doğal afet
B) Deprem
C) Yıkım
D) Doğal tehlike

41) Yer kabuğunun derinliklerinde bulunan katmanların çatlaması sonucu oluşan ve büyük yıkımlara neden olan doğal afet hangisidir?

- A) Heyelan B) Deprem
C) Erozyon D) Toprak kayması

Adı :

Soyadı:

4. Sınıf Sosyal Bilgiler

Yaşadığımız Yer Test-1

42) " Doğal afetlerin zararlarını en aza indirmek için ağaç dikmeliyiz. "

Ağaç dikmek aşağıdaki doğal afetlerden hangisinin zararını önleyemez?

- A) Çiğ
B) Toprak kayması
C) Sel
D) Deprem

43) Aşağıda verilen bilgilerden hangisi yanlıştır?

- A) Depremlerin meydana gelmesini engelleyebiliriz.
B) Deprem anında bilinçli davranmak can kaybını önler.
C) Depremler her zaman yıkıma neden olmaz.
D) Depremlere karşı tedbir alabiliriz.

44) Depremlere karşı öncelikle alınması gereken tedbir aşağıdakilerden hangisidir?

- A) Deprem çantası hazırlamak
B) Depreme karşı dayanıklı binalar yapmak.
C) Sürekli deprem tatbikatı yapmak
D) Ev eşyalarını duvara sabitlemek.

45) Bir deprem çantası hazırlarken aşağıdakilerden hangisinin tamamen bulunması gerekir?

- A) El feneri, düdük, pil, kazak, meyve
B) Cep telefonu, düdük, el feneri, radyo,
C) Düdük, el feneri, meyve suyu, battaniye
D) el feneri, para, düdük, battaniye, süt

46) Bir deprem anında bir binanın içindeyse aşağıdakilerden hangisini yapmalıyız?

- A) Asansörü kullanarak hemen çıkmalıyız.
B) Balkona çıkarak yardım istemeliyiz.
C) Deprem bitinceye kadar uygun bir yerde deprem pozisyonunda beklemeliyiz.
D) Deprem bitmeden merdivenlerden koşarak çıkmalıyız.

47) Bir deprem sonrasında evimizdeyse aşağıdakilerden hangisini alarak hemen çıkmamız gerekir?

- A) Bilgisayar, tablet
B) Okul çantası
C) Deprem çantası
D) İlk yardım çantası

48) Aşağıdaki bilgilerden hangisi yanlıştır?

- A) Ağrı Dağı ülkemizin en yüksek dağıdır.
B) Van Gölü ülkemizin en büyük gölüdür.
C) Düden Şelalesi ülkemizin en yüksekten akan şelalesidir.
D) Kızılırmak ülkemizin en uzun nehridir

49) Bir fiziki haritada renkler ile doğal unsurlar arasındaki eşleştirme yanlış verilmiştir?

- A) Dağ-Kahverengi
B) Göl-Mavi
C) Ova-Yeşil
D) Şelale-Kırmızı

50) Deprem anında aldığımız deprem pozisyonuna ne ad verilir?

- A) Yat-Uzan
B) Çök-Kapan
C) Otur-Korun
D) Yat-Bekle