

İNCE İŞLER TAM BİZE GÖRE

Desenlere dikkat ederek boyayalım. Köpeğe bir isim verecek olsanız bu isim ne olurdu?.....



4. SINIFLAR EĞLENCİLİ TATİL ETKİNLİKLERİ

Ad, Soyad:.....



TEST ZAMANI- Fen Bilimleri

1- Aşağıdakilerden hangisi mıknatısın kullanım alanlarından biri değildir?


- A) Pusulalar
B) Hoparlör
C) Buzdolabı kapağı
D) Naylon poşet

2- Cisme kuvvet uygulandığında cisimde aşağıdakilerden hangisi gözlemlenmez?

- A) Yön değişikliği
B) Hız değişikliği
C) Renk değişikliği
D) Şekil değişikliği

3- Aşağıdaki cisimlerden hangisine kuvvet uyguladığımızda şeklinde kalıcı bir değişim meydana gelir?

- A)  Sünger
B)  fincan
C)  toka
D)  lastik



Mehmet ve Ali ellerindeki mıknatısları yukarıdaki şekilde yan yana getirdiklerinde ulaştıkları sonucu defterlerine yazdılar. Hangi cümleyi yazmış olmaları gerekir?

- A) Sallanma hareketi meydana geldi.
B) Aynı kutuplar birbirini çekti.
C) Zıt kutuplar birbirini çekti.
D) Aynı kutuplar birbirini itti.

5- Parkta oynayan çocuklardan Ece salıncağa binmişti. Ali ve Efe kaleye şut atıyorlardı. Cem ise kaydırakta kayıyordu. Yukarıdaki bilgiye göre hangi çocuk sallanma hareketi yapmaktadır?

- A) Ece
B) Efe
C) Ali
D) Cem

ÇIKARMA YAPALIM

$$\begin{array}{r} 8030 \\ - 4799 \\ \hline \end{array} \quad \begin{array}{r} 7020 \\ - 4469 \\ \hline \end{array} \quad \begin{array}{r} 6040 \\ - 3569 \\ \hline \end{array}$$

$$\begin{array}{r} 4020 \\ - 2978 \\ \hline \end{array} \quad \begin{array}{r} 3030 \\ - 1388 \\ \hline \end{array} \quad \begin{array}{r} 8020 \\ - 4779 \\ \hline \end{array}$$

$$\begin{array}{r} 7040 \\ - 5898 \\ \hline \end{array} \quad \begin{array}{r} 7030 \\ - 4556 \\ \hline \end{array} \quad \begin{array}{r} 8020 \\ - 3588 \\ \hline \end{array}$$

$$\begin{array}{r} 6030 \\ - 2978 \\ \hline \end{array} \quad \begin{array}{r} 4050 \\ - 1776 \\ \hline \end{array} \quad \begin{array}{r} 6040 \\ - 2964 \\ \hline \end{array}$$

$$\begin{array}{r} 8030 \\ - 3743 \\ \hline \end{array} \quad \begin{array}{r} 8040 \\ - 4279 \\ \hline \end{array} \quad \begin{array}{r} 7050 \\ - 5968 \\ \hline \end{array}$$

ZİT ANLAMLI KELİMELER

Cümlelerdeki altı çizili kelimelerin zıt anlamlılarını boyyalım.

Ablama soru sordum. → yanıt cevap sınav

Ankadar'dan geç geldik. → önce sonra erken

Bu yıl çok kar yağdı. → büyük az kalabalık

Evdeki ekmekler bayatlamış. → yumşak taze ılık

Bu soruyu ilk ben bildim. → son orta önce

Asağı mahallede oturuyoruz. → yukarı son yüksek

Gündüz hava çok sıcaktı. → öğlen gece sabah

Yaslı adam çok yorulmuştu. → kadın erkek genç

Temiz çamaşırları katladım. → kirli düzenli bozuk

Karnım tok. → uzun normal aç

Önce kitap okuyalım. → sonra yakın şimdi

Mahallemizdeki fakirlerden sorumluyuz. → zengin komşu yorgun

Dar sokaklarda gezdik. → geniş ince sert

Uzun zaman önceydi. → yüksek geniş kısa

Yeni kitabımı bulamıyorum → eski taze kirli

Şu büyük ağacı dedem dikmiş. → uzun küçük kısa

PROBLEMLİ MAĞAZA

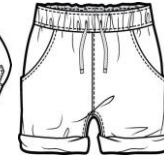
Kerem Bey'in mağazasında fiyatlar şu şekildedir:



125 TL



58 TL



45 TL



136 TL



360 TL



242 TL



76 TL



100 TL



98 TL



39 TL

İşlemleri yapalım, boşlukları dolduralım.

- 1- Cem bir mont ve iki pantolon alınca TL öder.
- 2- Bir elbise, iki ayakkabı alan Nalan TL öder.
- 3- İki gömlek ve dört şort alan Ali 300 TL verince..... TL para üzeri almalıdır.
- 4- 468 liraya tane şapka alabiliriz.
- 5- Dört kazak alan Ece ile 3 pantolon alan Ege'nin toplam faturası..... liradır.
- 6- İki montu altı taksitle alan Ali her takside..... Lira öder.
- 7- Dört elbise alan Begüm'ün 1000 liralık alışveriş fişi vardı. Tutarı tamamlamak için.....liralık alışveriş yapması gerekir.
- 8- Mağazadaki her üründen birer tane aldık.lira ödedik.
- 9- 686 lirayla adet etek aldık.
- 10- 50 şapka ve 6 çanta alan bir toptancılira ödemiştir.

TEST ZAMANI- Türkçe

1- Aşağıdakilerden hangisi sözlükte diğerlerinden önce yer alır?
A) Sadakat B) Savunma C) Sefer D) Sadelik

2- I- Aysun için her gün diş fırçalamak zordu.
II- Benim seninki gibi bir aracım yok.
III- Bunu alırım ama çok pahalı.
IV- Sabah ailece kahvaltı ettik.

Yukarıdakilerden hangisinde tek başına anlamı olmayan kelimelerden biri kullanılmamıştır?

A) I B) II C) III D) IV

3-

Şımarık arkadaşım dün bile isteye kalemligime zarar verdi.



Can'ın cümlesinde hangi kelime bir varlığı nitelendirmiştir?

A) Şımarık B) dün C) kalemlik D) verdi

4- Aşağıdakilerden hangisi sağlıkla ilgili bir terim değildir?

A) röntgen B) stetoskop C) nota D) reçete

5- Aşağıdaki pekiştirmeli sözcüklerden hangisi doğru yazılmıştır?

A) pespembe B) sim siyah C) yepyemiş D) sarsıklam

6- Cümlelerden hangisinde kesme işareti yanlış kullanılmıştır?

A) Kayseri'ye ulaşınca aranız.
B) Dedektif Dergi'nin yeni sayısını okudun mu?
C) Armağan Sokak'ta oturuyoruz.
D) Mustafa Öner İlkokulu'na gidiyorum.



OYUN ZAMANI

Ailenle süre tutarak oynayabilirsin.

İsim, eşya, şehir...

Aşağıda verilen harflerle ilgili kelimeler bulalım.

A	
İsim	
Eşya	
Şehir	
Hayvan	
Meyve	

B	
İsim	
Eşya	
Şehir	
Hayvan	
Sebze	

E	
İsim	
Eşya	
Şehir	
Hayvan	
Meyve	

K	
İsim	
Eşya	
Şehir	
Hayvan	
Meyve	

M	
İsim	
Eşya	
Şehir	
Hayvan	
Meyve	

S	
İsim	
Eşya	
Şehir	
Hayvan	
Meyve	

G	
İsim	
Eşya	
Şehir	
Hayvan	
Meyve	

İ	
İsim	
Eşya	
Şehir	
Hayvan	
Meyve	

Ç	
İsim	
Eşya	
Şehir	
Hayvan	
Meyve	

KELİME AVI- Sosyal Bilgiler

Soruların yanıtlarını bulmacada bularak boyayalım. Kalan harflerin oluşturduğu şifreyi yazalım.

A	R	K	E	O	L	O	G	M	H
A	K	T	T	O	P	A	Ç	A	A
E	R	M	E	N	İ	L	E	R	S
Y	O	N	G	A	G	U	A	A	A
İ	K	L	İ	M	A	S	T	Ş	N
Ü	İ	R	E	R	Z	U	R	U	M
E	M	P	A	T	İ	P	A	R	K
K	U	Z	E	Y	D	O	Ğ	U	K


- 1- Kurtuluş mücadelesinde doğu cephesinde savaştığımız millet
- 2- Bir yerin kuşbakışı görünüşünün kabataslak çizilmesi
- 3- Sütçü İmam'ın savunmasında rol aldığı şehir
- 4- Çinliler tarafından bulunan yön bulma aracı
- 5- Mustafa Kemal'in kongre düzenlediği doğu ilimiz
- 6- Gösterdiği başarıdan dolayı Antep'e verilen unvan
- 7- Kazı bilimiyle uğraşan kişilerin mesleği
- 8- Yeni kimliklerde yer alan çipli kısımlara verilen ad
- 9- Kuzey ve doğu yönleri arasında kalan ara yön
- 10- Kendini başkasının yerine koyarak düşünmek
- 11- Geleneksel çocuk oyunlarımızda kullanılan, dönen bir oyun aracı
- 12- Kurtuluş Savaşı'nda ilk kurşunla özeleşen kişinin ilk adı
- 13- Eğlence ve dinlenme amacıyla kurulan, ağaçlandırılmış beşeri unsur
- 14- Belli bir alanda uzun zamanda gözlenen hava olaylarına verilen ad

Şifre:

--	--	--	--	--	--	--	--

DİKKAT ETKİNLİĞİ

Kayıp Eşyaları Resimde Bulalım.



EĞLENCE ZAMANI

RESFEBE 5

kan

tom a

k k

ay

deş

mak

hay

uy

mek

bay

RESFEBE 6

y ak

yo

mak

tuk

ac e

ç re

t i

ya

lava


y n

Bulduğumuz kelimelerden on dört tanesini cümlede kullanalım.

- 1-
- 2-
- 3-
- 4-
- 5-
- 6-
- 7-
- 8-
- 9-
- 10-
- 11-
- 12-
- 13-
- 14-

OKU, ANLA, BOYA

Metni okuyalım ve görseli metne göre boyayalım. Metindeki boşlukları dolduralım.



Metin, bir proje çalışması için atık malzemelerle bir roket modeli tasarlamalıydı. Bütün gün projesi üzerinde çalıştı.

Yeşil ve sarı kartonlarla roketin gövdesini yaptı. Roket başlığı olarak turuncu bir oyuncak parçası kullandı. Kuyruk kısımlarında ise kırmızı karton kullandı. Kardeşinin verdiği iki

kırmızı halkayı roket maketinin üzerine yapıştırdı. Öyle yorulmuştu ki yatar yatmaz uykuya daldı.

Metin rüyasında bir astronot olduğunu ve hazırladığı roketle uzaya gittiğini gördü. O koskoca boşlukta, Güneş sisteminde ilerlerken ilk önce Mars gezegenini gördü. Mars'ı geçince karşısına sistemdeki en büyük gezegen çıktı. Bu gezegenin etrafında bir tur attı. Dikkatini başka bir gezegen çekti. Bu gezegenin etrafında bir halka vardı. Öğretmeni bu halkalı gezegenin adını da söylemişti.

"Him, sanırım hatırladım. Bu gezegenin adı,” dedi kendi kendine.

Roketin içi buz gibi olmuştu. Daha fazla ilerlerse donabilirdi. Ama pes etmedi. Uranüs ve sistemdeki son gezegeni yani'ü görmeden dönmek istemiyordu. Roket ilerledikçe Metin'in dişleri titremeye başladı. Gözlerini kapatıp donmamak için dua etmeye başladı. Gözlerini yeniden açtığında ise uyanmıştı. Yere düşen yorganını üzerine çekti ve uyumaya devam etti.

METNİN BAŞLIĞINI YAZMAYI UNUTMA!

KİŞİLİK ÖZELLİKLERİM

Size uygun olanları işaretleyiniz.

- Sıcakkanlıyım
- Meraklıyım
- Konuşkanım
- Sessizim
- İçime kapanığım
- Maceracıyım
- Hakkımı savunurum
- Çabuk sıkılırım
- Hareketliyim
- Cesurum
- Şımarığım
- Ağırbaşlıyım
- Cömertim
- Alçakgönüllüyüm
- Cimriyim
- Titizim
- Araştırmacıyım
- Sorumsuzum



YETENEKLİ OLDUĞUM ALANLAR:

.....
.....
.....
.....

İLGİ DUYDUĞUM ALANLAR:

.....
.....
.....
.....

YAKIN ARKADAŞLARIMIN İLGİ DUYDUKLARI ALANLAR:

.....
.....
.....
.....

Nasıl bir insan olmak isterdiniz?

.....
.....
.....
.....

DENEY YAPALIM

NİŞASTA DENEYİ KATI MI YOKSA SIVI MI?



Deneyin Malzemeleri: 1.5 su bardağı mısır nişastası, 1 su bardağı su, karıştırmak için kap

Deneyin Uygulanışı: Su ve nişastayı güzelce yoğuruyoruz. Kıvam aldıktan sonra bir elimize karışımdan alıyoruz, diğer elimizle tabaktaki karışıma dokunuyoruz ve aradaki farkı gözlemliyoruz. Karışımımızın hangi durumda katı, hangi durumda sıvı olduğu hakkında sohbet ediyoruz. Yapışkan karışımımızla oynayarak eğlenceli vakit geçiriyoruz.



Deney Sonunda Neler Gözlemledim?

.....
.....
.....
.....
.....
.....
.....
.....
.....
.....

İLGİNÇ SORULAR

1- Bir ağaç ev tasarlasan bu evde neler olurdu?

.....

.....

.....

.....

2- Sence hangi hayvan çok iyi araba kullanabilirdi? Nedenini açıklayalım.

.....

.....

.....

.....

3- Bir süper kahraman olsan nasıl bir süper gücün olmasını isterdin? Neden?

.....

.....

4- Öğretmenin yerinde sen olsan sınıfta nasıl bir uygulama başlatırdın?

.....

.....

.....

SAYILARLA TEKRAR ZAMANI

Verilen sayıların okunuşlarını yazalım.

- 45 340:
- 103 450:
- 2 202 :
- 165 :
- 600 409:

Sayıları çözümleyelim.

- 230 680
- 80 754

Sayıların tek ya da çift olduklarını belirleyelim. Çift sayılara Ç, T sayılara T yazalım.

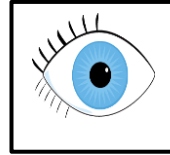


- () 98 457 () 3 330 () 68 254 () 6 389
- () 658 233 () 5 386 () 34 001 () 76 252

- Rakamları birbirinden farklı beş basamaklı en büyük çift sayı kaçtır?
- On binler basamağı 8, yüz binler basamağı 7, binler basamağı 3, onlar basamağı 5 olan sayıyı yazalım.
- Sayıların bölüklerini yazalım.

5415		7816		4144		3615	
Binler Bölüğü	Birler Bölüğü	Binler Bölüğü	Birler Bölüğü	Binler Bölüğü	Birler Bölüğü	Binler Bölüğü	Birler Bölüğü
5	415						

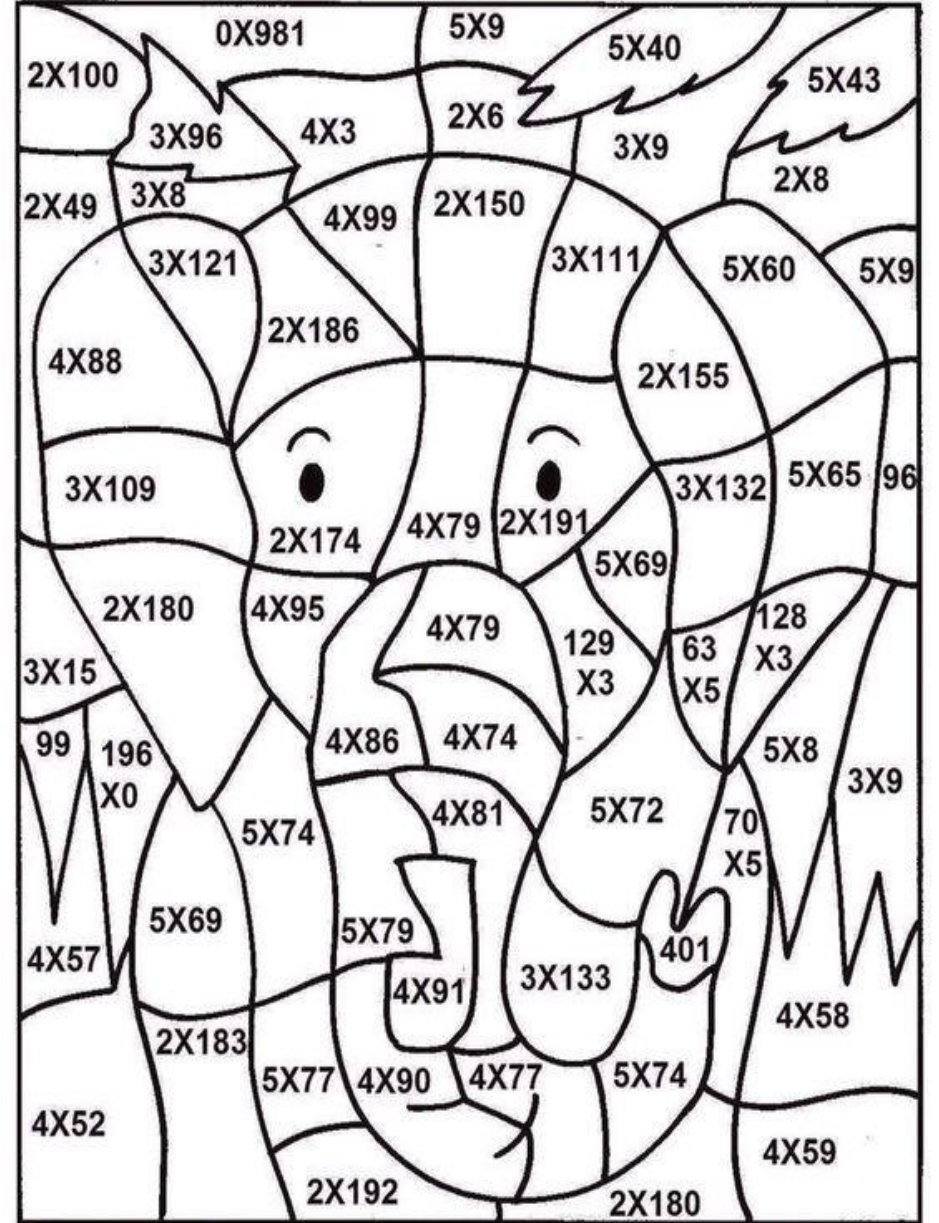
ATASÖZLERİMİZ

Görsellerle verilen ipuçlarından yola çıkarak anlatılmak istenilen atasözünü yazalım



Siz de seçtiğiniz iki atasözünü görselle anlatabilir misiniz?

ÇARP VE BOYA



0 — 199 200 — 299 300 — 399 400 — 499

Mavi

Yeşil

Gri

Pembe

PROBLEM CANAVARI İŞ BAŞINDA

Bir şenlikte 19 koli meyve suyu dağıtılmıştır. Her kolide 120 adet meyve suyu kutusu vardır. Meyve sularının 1603 tanesi vişne suyudur. Diğerleri kayısı suyu olduğuna göre şenlikte kaç kutu kayısı suyu dağıtılmıştır?

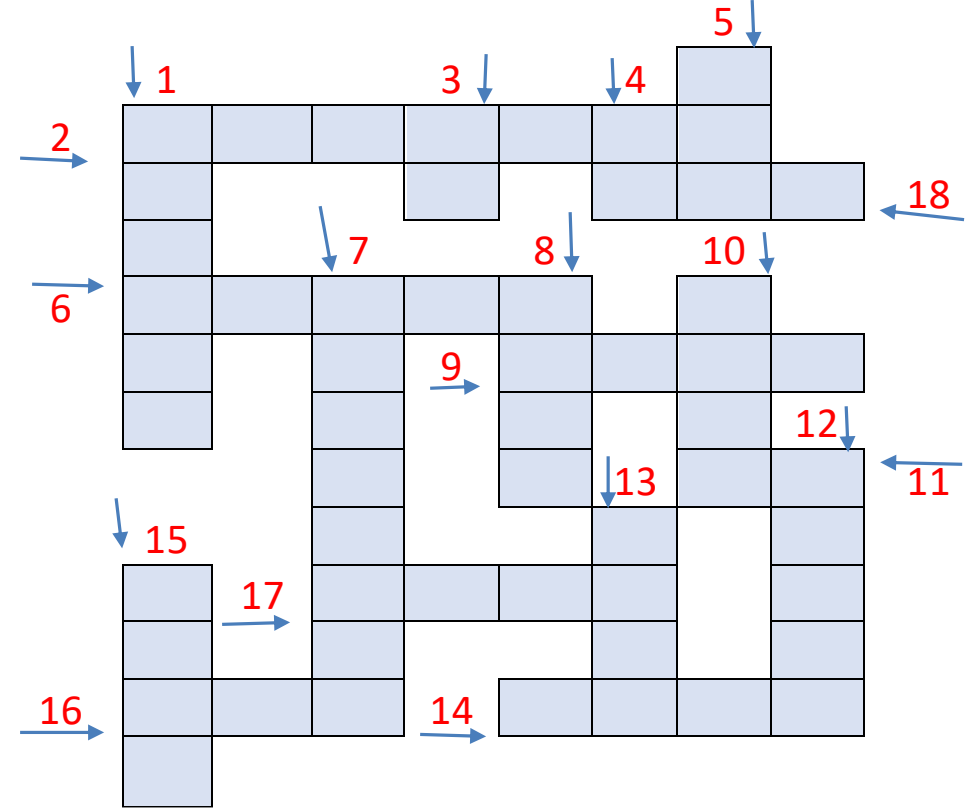
En küçük üç basamaklı çift sayı ile rakamları farklı en küçük iki basamaklı sayının çarpımı kaçtır?

En yakın onluğa yuvarlandığında 2160 olan en büyük sayı ile en yakın yakın yüzlüğe yuvarlandığında 4300 olan en küçük sayının toplamı kaçtır?

Rakamları birbirinden farklı dört basamaklı en büyük çift sayının 2341 eksiği kaçtır?

BULMACA ZAMANI

Verilen kelimelerin eş anlamlılarını kullanarak bulmacayı çözelim



- 1- uslu
- 2- hediye
- 3- beyaz
- 4- kırmızı
- 5- Anne
- 6- dil
- 7- güz
- 8- sevinç
- 9- tutsak

- 10- yapı
- 11- isim
- 12- derya
- 13- küçük
- 14- uyarı
- 15- düş
- 16- mekân
- 17- ses
- 18- söz

