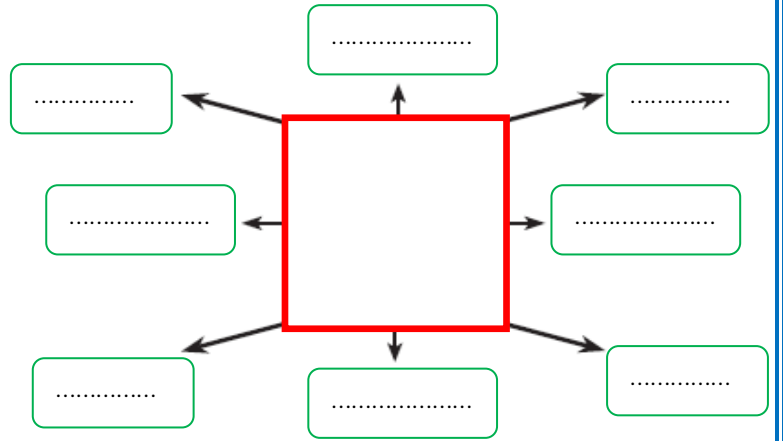
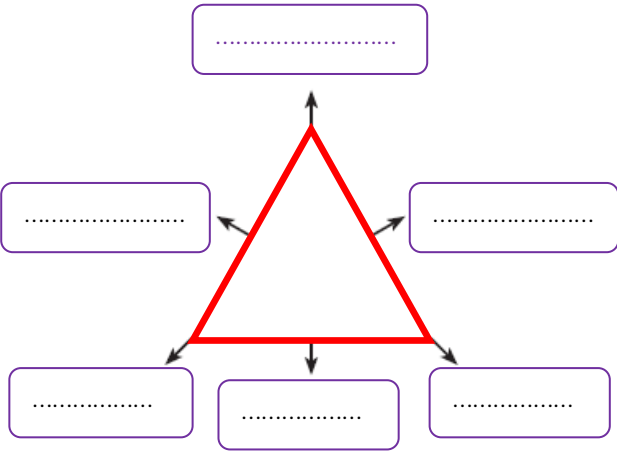
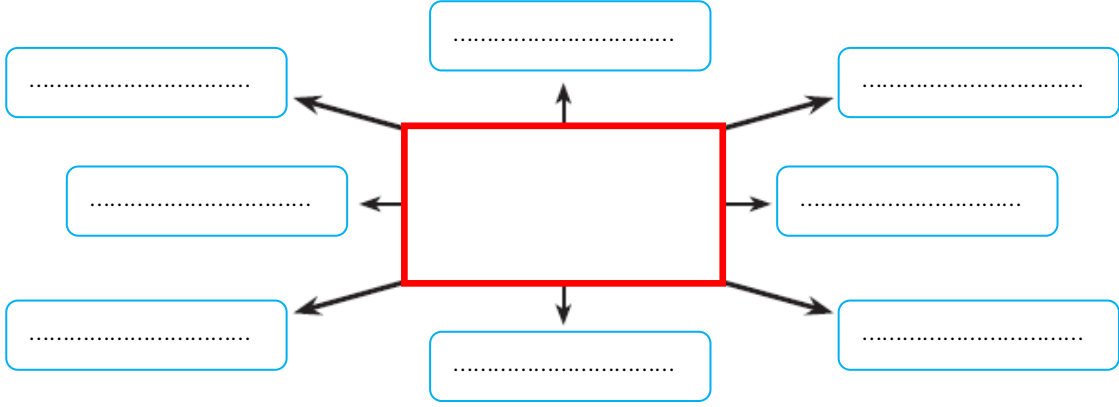
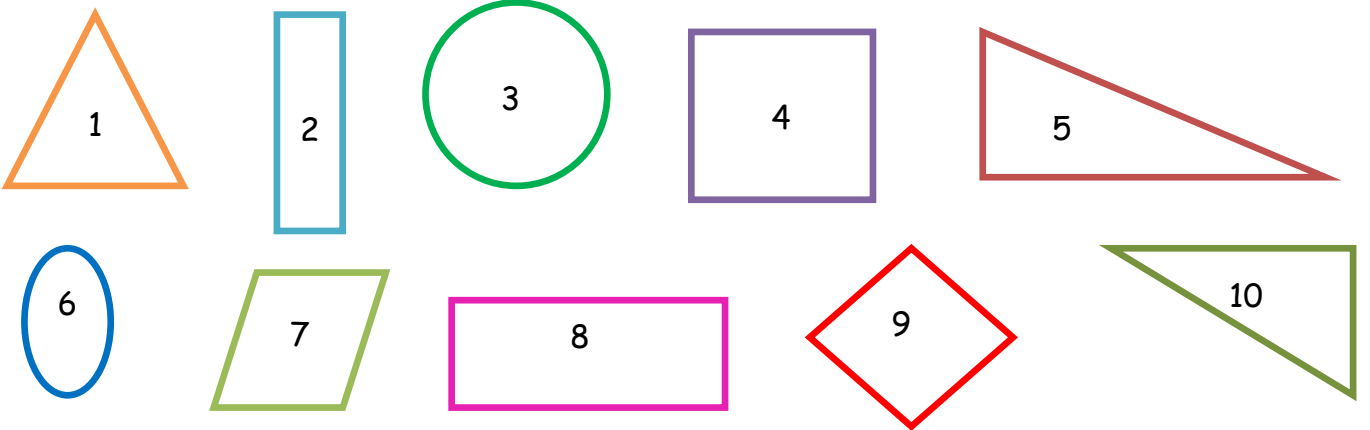


GEOMETRİK ŞEKİLLER

Aşağıdaki geometrik şekillerin oklarla gösterilen kısımlarına ne ad verildiğini kutulara yazınız.



Aşağıdaki geometrik şekilleri kenar ve köşe sayılarına göre verilen tabloda sınıflandırınız.



Üç Köşeli Şekiller	Üç Kenarlı Şekiller	Dört Köşeli Şekiller	Dört Kenarlı Şekiller	Köşesiz Şekiller	Kenarsız Şekiller

GEOMETRİK ŞEKİLLER

Aşağıdaki tablodaki geometrik şekillerin adlarını, kenar ve köşe sayılarını yazınız. Bu şekillerden her birinin, diğer şekillerle benzer ve farklı yönlerini tabloda yazınız.


Şekil	Şeklin Adı	Kenar Sayısı	Köşe Sayısı	Diğer Şekillerle Benzer Yönleri	Diğer Şekillerle Farklı Yönleri
					
					
					
					

Aşağıda özellikleri verilen geometrik şekilleri yan tarafta verilen alana çiziniz.



- Dört kenarı vardır.
- Dört köşesi vardır.
- Bütün kenarları birbirine eşittir.



- Üç kenarı vardır.
- Üç köşesi vardır.






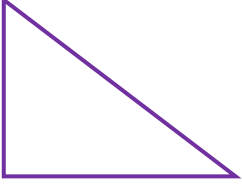


- Dört kenarı vardır.
- Dört köşesi vardır.
- Karşılıklı kenarları eşittir.
- İki kenarı uzun, iki kenarı eşittir.





GEOMETRİK ŞEKİLLER

Aşağıdaki geometrik şekillerden kenar ve köşe sayısı aynı olanların kutucuklarını aynı renge boyayınız.



Aşağıdaki iki farklı alana belirlediğiniz bir geometrik şekli kullanarak yapılar oluşturunuz.

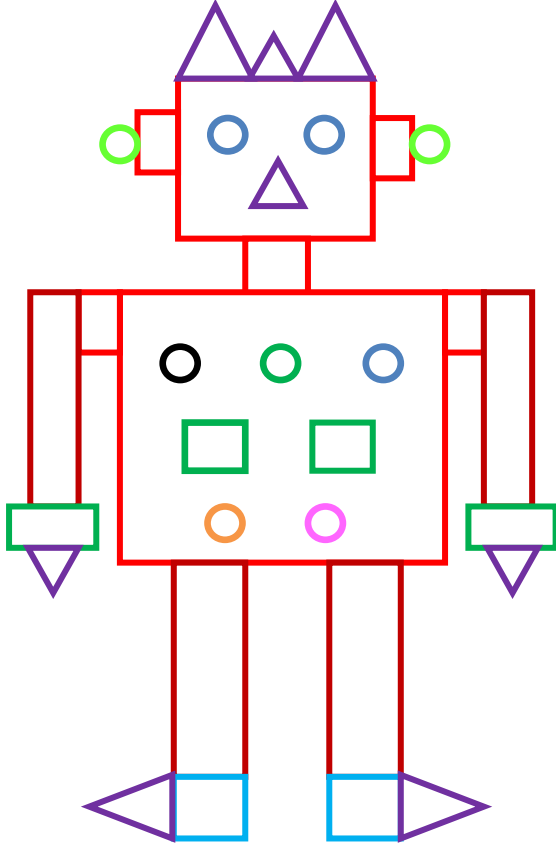


GEOMETRİK ŞEKİLLER

1-)



Aşağıdaki resmi inceleyerek yandaki soruları cevaplayınız.



SORULAR

1-) Yandaki resimde kaç tane çember var?

2-) Yandaki resimde kaç tane kare var?

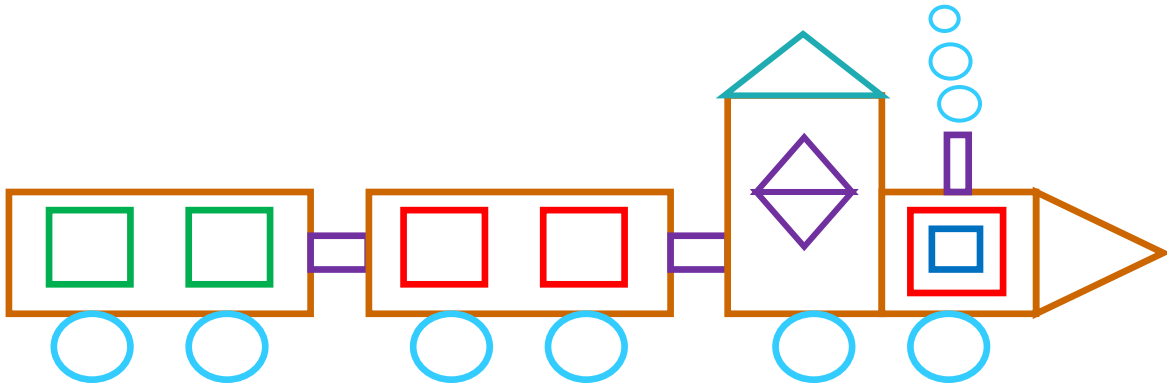
3-) Yandaki resimde kaç tane üçgen var?

4-) Yandaki resimde kaç tane dikdörtgen var?

İskender TAŞ




Aşağıda verilen şekli inceleyiniz. Hangi geometrik şekilden kaç tane var? Yazınız.



Dikdörtgen sayısı: ?



Üçgen Sayısı: ?



Çember Sayısı: ?



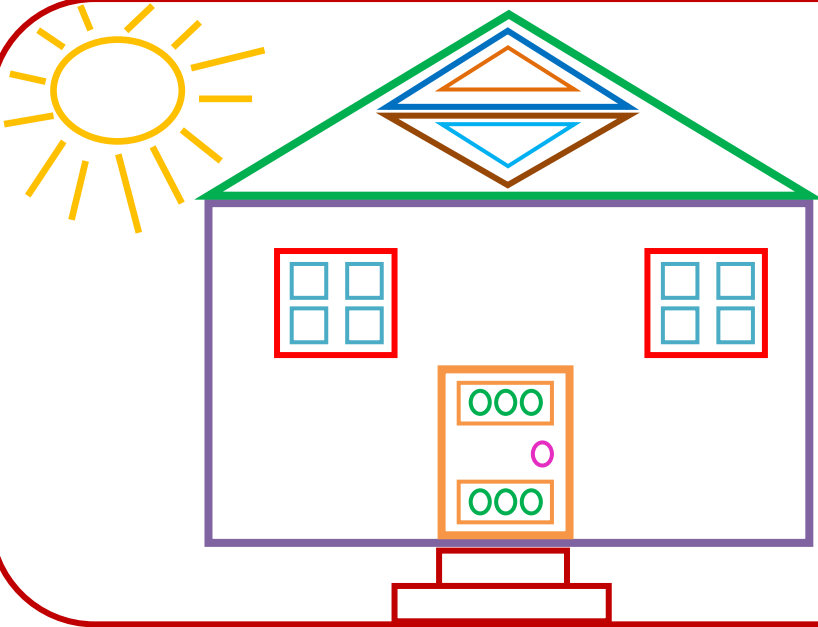
Kare Sayısı: ?

GEOMETRİK ŞEKİLLER

1-)



Aşağıdaki resmi inceleyerek yandaki soruları cevaplayınız.



SORULAR

1-) Yandaki resimde kaç tane çember var?

2-) Yandaki resimde kaç tane kare var?




3-) Yandaki resimde kaç tane üçgen var?

1-) Yandaki resimde kaç tane dikdörtgen var?

2-)



Aşağıda verilen şekli inceleyiniz. Hangi geometrik şekilden kaç tane var? Sayılarını şekillerin içine yazınız.



İskender07

3-)



Aşağıda verilen kelimeleri uygun boşluklara yazınız.

üçgenin

yoktur

eşit

uzun

Karenin uzunlukta dört kenarı ve dört köşesi vardır.

Dikdörtgenin birbirine eşit 2 kenarı ve birbirine eşit 2 kısa kenarı vardır.

Çemberin köşesi ve kenarı

.....3 kenarı ve 3 köşesi olan şekildir.

www.mebders.com

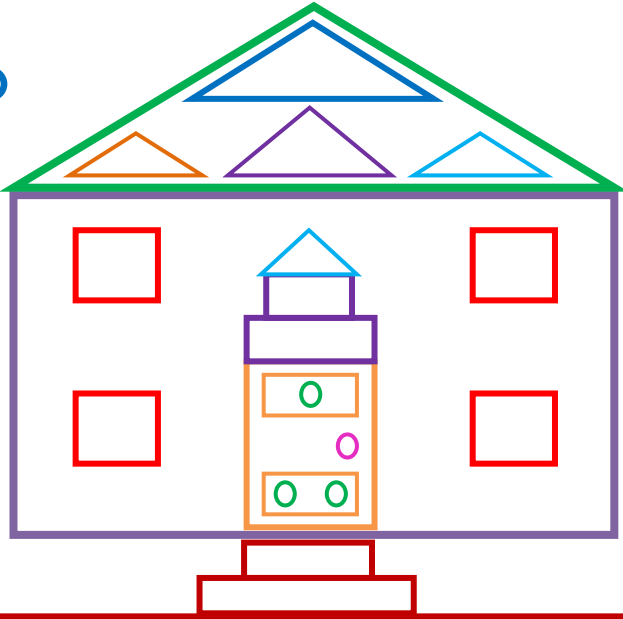
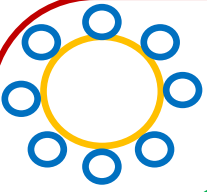
İskender07 (İlkokul etkinlikleri)

GEOMETRİK ŞEKİLLER

1-)



Aşağıdaki resmi inceleyerek yandaki soruları cevaplayınız.



SORULAR

1-) Yandaki resimde kaç tane çember var?

2-) Yandaki resimde kaç tane kare var?




3-) Yandaki resimde kaç tane üçgen var?

1-) Yandaki resimde kaç tane dikdörtgen var?

2-)



Aşağıda verilen şekli inceleyiniz. Hangi geometrik şekilden kaç tane var? Sayılarını şekillerin içine yazınız.



İskender07

3-)



Aşağıda verilen kelimeleri uygun boşluklara yazınız.

köşesi

çemberin

kısa kenarı

Karenin

..... eşit uzunlukta dört kenarı ve dört köşesi vardır.

Dikdörtgenin birbirine eşit 2 uzun kenarı ve birbirine eşit 2 vardır.

..... köşesi ve kenarı yoktur.

Üçgen 3 kenarı ve 3 olan geometrik şekildir.

www.mebders.com

İskender07 (İlkokul etkinlikleri)