



SÜRPRİZ

Ece, her sabah olduğu gibi bugün de erken uyanmıştı. Bu günün bir özelliği vardı. Onun doğum günüydü. Bugün okul olduğu için doğum gününü hafta sonuna ertelemişti annesi. Buna üzülse de, biraz daha sabredecek ve hafta sonu kutlayacaktı.

Annesi onu okula bıraktı. Okul kapısından girdiği sırada öğretmenini gördü. Öğretmeni ona, dersin sınıfta değil gösteri salonunda yapılacağını söyledi. O da salona doğru yöneldi. Salona girmek için kapıyı açtığı anda onu içerde bir sürpriz bekliyordu.

Not: İlk 3 soruyu metne göre cevaplayınız.

1) Ece'nin uyandığı sabahın özelliği nedir?

- A) O gün sınavının olması
- B) O gün okulda gösteri yapması
- C) O gün doğum gününün olması

2) Öğretmeni, Ece'ye dersin **nerede** olacağını söyledi?

- A) Sınıfta
- B) Gösteri salonunda
- C) Konferans salonunda

3) Ece, içeriye girmek için kapıyı açtığı anda onu **ne** bekliyordu?

- A) Sürpriz
- B) Ailesi
- C) Okul müdürü

4)



Resme göre çocuğun ağlamasının **sebebi** nedir?

- A) Çocuğun yarışmayı kaybetmesi
- B) Çocuğun canının yanması
- C) Çocuğun bisikletinin yeni olması

5) Aşağıda verilen cümlelerin hangisinde **sebep-sonuç** ilişkisi vardır?

- A)  Yarın ailece yolculuğa çıkıyoruz.
- B)  Hikâye kitaplarını daha çok seviyorum.
- C)  Köpeği aniden gördüğüm için korktum.

6) "Şemsiyeyi unuttuğum çok
ışlandım."

Yukarıdaki cümle hangisi ile **tamamlanmalıdır?**

A) için B) çünkü C) ama

7) Aşağıdaki cümlelerin hangisinde sebep-
sonuç ilişkisi **yoktur?**

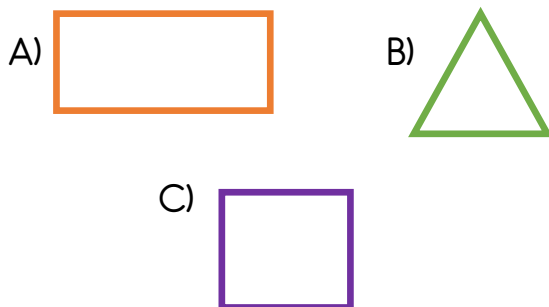
- A) Derslerime çok çalıştığım için başarımlar artıyor.
B) Arkadaşlarımla eğlenerek, parkta oynuyorum.
C) Çok bağırdığımdan dolayı sesim kısıldı.

8) "Melih, markette ağlamaya başlamış.
Çünkü"


Cümlesindeki noktalı yere, hangisinin yazılması **uygundur?**

- A) annesini kaybetmiş.
B) insanlar alışveriş yapıyorlarmış.
C) çok sıra varmış.

9) Aşağıdaki geometrik şekillerin hangisinin **köşe sayısı** diğerlerinden daha **azdır?**



10)



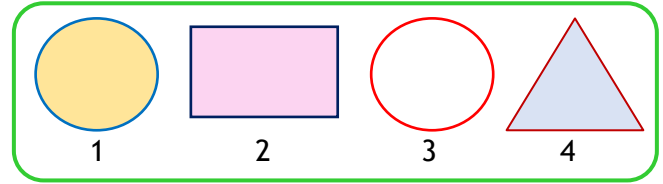
Yukarıda verilen geometrik şekillerin kenar sayılarının **toplamı** kaçtır?

A) 8 B) 7 C) 4

11) Aşağıda verilen bilgilerden hangisi **yanlıştır?**

- A) Karenin 4 köşesi ve birbirine eşit 4 kenarı vardır.
B) Dikdörtgenin 4 köşesi ve birbirine eşit 4 kenarı vardır.
C) Üçgenin 3 kenarı ve 3 köşesi vardır.


12)



Numaralanmış geometrik şekillerden hangilerinin **köşesi yoktur?**

A) 1 ve 3 B) 2 ve 4
C) 1 ve 4

13) Aşağıdaki geometrik şekillerden hangisi **çemberdir?**



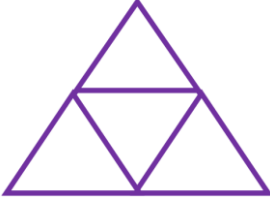
14)



Yukarıdaki geometrik şekillerin oluşturduğu yapıdaki üçgen, çember ve dikdörtgen sayısı hangi seçenekte doğru verilmiştir?

- A) 5 üçgen, 4 dikdörtgen, 4 çember
B) 4 üçgen, 4 dikdörtgen, 4 çember
C) 5 üçgen, 4 dikdörtgen, 5 çember

15)



Yandaki geometrik şekiller ile oluşan yapıda kaç üçgen vardır?

- A) 5 B) 4 C) 3

16) Aşağıdakilerden hangisi sağlığımız için çalışan meslek gruplarından birisi **değildir**?



17) İlaçların hazırlandığı veya hazır ilaçların satıldığı yer aşağıdakilerden hangisidir?

- A) Eczane B) Baharatçı
C) Şarküteri

18)



Dış hekimi

Doktor

Hemşire

Yukarıda meslekleri verilen kişiler **hangi alanda** çalışmaktadır?

- A) Sağlık B) Eğitim C) Teknoloji

19)



Hastalandığımda beni muayene etti.



Tahlil için kanımı o aldı.



Ağrıyan dişimi o çekti.

Çocukların bahsettiği **sağlık çalışanları** sırası ile hangileridir?

- A) Doktor, Eczacı, Dış Hekimi
B) Hemşire, Doktor, Sağlık Personeli
C) Doktor, Hemşire, Dış Hekimi

20) Aşağıdakilerden hangisi **sağlık** ile ilgili hizmet veren bir kurumdur?

- A) Belediye B) Postane
C) Hastane

Cevap Anahtarı

1)C 2)B 3)A 4)B 5)C
6)A 7)B 8)A 9)B 10)B
11)B 12)A 13)C 14)C 15)A
16)B 17)A 18)A 19)C 20)C