



ARILAR



ARILAR

Eminiz arılarım elma çiçeklerini,
Doldurdunuz bahçenin bütün peteklerini
Şimdi, tutun baharın, tutun eteklerini,
Gökte vızıldayarak uçun, uçun arılar.

Beyaz beyaz dallara, çiçeklere kondunuz,
Tepeler çıktınız, ovalara indiniz,
Bir çiçekten emip bir bu ota döndünüz
Haydi tepemden halka halka geçin arılar.

Böğürtlen içinde altın bir eviniz var,
Odalarınız sarı sarı balla doludur,
Beni de evinize davet edin bu bahar,
Sofranızda bana da bir yer açın arılar.



Ceyhun Atuf KANSU



A-) Aşağıda verilen soruları metne göre cevaplayınız.

1-) Arılar neyi dolduruyorlarmış?

2-) Şair, arıların nasıl uçmasını istiyor?

3-) Arıların, böğürtlen içinde nasıl bir evi vardır?

4-) Şair, arıların kendisini ne zaman davet etmesini istiyor?

www.mebders.com

1) Şiir kaç kıtadan oluşmaktadır?

A) 12

B) 4

C) 3

B-) Doğru olanı işaretleyelim.

2) Şiir kaç dizeden oluşmaktadır?

A) 3

B) 4

C) 12

3) Şiirin şairi kimdir?

A) Faruk Nafiz Çamlıbel

B) Ceyhun Atuf KANSU

C) Bestami YAZGAN

HAYAT BİLGİSİ SAĞLIĞIMIZ İÇİN ÇALIŞANLAR

Aşağıdaki cümlelerden doğru olanların başına "D", yanlış olanların başına "Y" yazınız.

D	Y	İFADELER
		Hemşireler yaptıkları işlerle doktorlara yardımcı olurlar.
		Hastalandığımızda toplum sağlığı merkezlerine ya da hastanelere gideriz.
		Doktorlar, bizlere ilaç hazırlar ve ilaçları temin ederler.
		Doktorun yazdığı ilaçlar onun önerdiği şekilde kullanılmalıdır.
		Eczanelerde dişlerimizi çektirebiliriz.
		Hastalandığımızda istediğimiz ilacı eczaneden alarak tedavi olabiliriz.
		Doktorlar hastaları muayene ederek hastalığına tanı koyar.
		Diş hekimine daha az gitmek istiyorsak diş sağlığınıza dikkat etmeliyiz.
		Acil yardım ekibi acil durumlarda hastaları hastaneye ulaştırır.
		Toplum sağlığı merkezleri bizim sağlığımız ile ilgili çalışmalar yapar.

Aşağıdaki görsellerle verilen mesleklerin adını eşleştiriniz. Bu mesleklerin nerede görev yaptıklarını ve bizlere sağlığımızla ilgili nasıl hizmet verdiklerini yazınız.



Eczacı



Diş hekimi

Doktor

Hemşire

www.mebders.com

İskender07 (İlkokul etkinlikleri)

HAYAT BİLGİSİ SAĞLIĞIMIZ İÇİN ÇALIŞANLAR

Aşağıdaki cümlelerde boş bırakılan yerleri verilen kelimelerle uygun olacak şekilde tamamlayınız.

eczaneden

hastaneye

112

hemşireler

sağlık

doktorlar

diş doktoruna

- hastalandığımızda bizleri muayene ederler.
- Hastanelerde doktorlar ve çalışırlar
- Doktor tarafından reçeteye yazılan ilaçları alırız.
- Dişimiz ağrıdığında gideriz.
- Hastalandığımız zaman gideriz.
- Aile doktorlarımız genellikle merkezlerinde bulunur.
- Sağlıkla ilgili acil durumlarda acil yardım ekibini ararız.

Aşağıda verilen kurum ve mesleklerden sağlık alanında hizmet verenleri boyayınız.

Kütüphane

Hastane

Öğretmen

Diş hekimi

Eczane

Belediye

Hemşire

Postane

Aile Sağlığı
Merkezi

İtfaiye

laborantlar

Eczacı

Okul

Özel
Hastaneler

Sağlığı
Ocağı

Karakol

SEBEP - SONUÇ CÜMLELERİ

Aşağıda verilen sebep (neden) - sonuç ilişkisi içeren cümleleri işaretleyiniz.

Ödevlerini düzenli yaptığı için başarılı oldu.

Bahçeye fidanları sabah erkenden diktim.

Dengeli ve düzenli besleniyorum bu nedenle sağlıklıyım.

Çiçekler susuz kaldığı için kurumuşlar.

Oyun oynarken kurallara uymalıyız.

Oyunda mızıkçılık yaptığından dolayı onunla oynamıyoruz.

Yüzmeyi, koşmaktan daha çok seviyorum.

Dişlerim inci gibi, çünkü her gün fırçalıyorum.

Kar yağışından dolayı yollar kapatıldı.

Çok gürültü olduğu için başım ağrıdı.

Yemek yedikten sonra tabağımı kaldırdım.

Hafta sonu ormanda piknik yaptık.

Karnem çok iyi olduğu için babam bana bisiklet aldı.

Servisi kaçırdığı için ilk derse yetişemedi.

Yatmadan önce dişlerimi düzenli olarak fırçalarım.

Elif, Aynur'dan daha uzun boyludur.

Beyza düzenli olarak kitap okuduğu için okuması çok güzeldir.

Hayvanları severek onları korumalıyız.

SEBEP - SONUÇ CÜMLELERİ

Aşağıda verilen sebep - sonuç cümlelerini uygun şekilde eşleştiriniz.

Bisikletten düştüm bu nedenle



Okula gelmediği için



Kırmızı ışıkta geçti bu nedenle



Fazla televizyon izlediği için



Yağmur yağdığı için



Mağazadaki elbiseyi almadım çünkü



Geç saatlerde ders çalıştım bu nedenle



Evde ekmek kalmadığından dolayı



yanımıza şemsiye aldık.



gözleri ağrıyor



fırına gidiyorum.



uykusuz kaldım.



derslerden geri kaldım.



kaza yaptı.



elim sakatlandı.



rengini beğenmedim.



Cümlelerdeki noktalı yerleri, yan tarafta verilen kelimelerle tamamlayınız.

çünkü

Kitap okumayı alışkanlık haline getirmiş
..... anlatım gücü artmış.

böylece

Merdivenleri hızlıca çıktığından nefes
nefese kaldı.

dolayı

Sis her tarafı sardığı uçak seferleri
yapılamadı.

için

Mehmet bugün okula gelemedi hastalanmış

SEBEP - SONUÇ CÜMLELERİ

Aşağıdaki cümleleri okuyunuz. Sebep ve sonuç cümlelerini örnekteki gibi yazınız.

Suyu tasarruflu kullandığım için daha az fatura ödüyorum.

Sebep: Suyu tasarruflu kullanmak

Sonuç: Daha az fatura ödemek

Çamura düştüğü için kıyafetleri kirlendi.

Sebep:

Sonuç:

Planlı çalıştığından dolayı derslerinde başarılı oldu.

Sebep:

Sonuç:

Akşam erken yattım dolayısıyla sabahta erkenden kalktım.

Sebep:

Sonuç:

Musluğu açık bıraktığımdan dolayı evi su bastı.

Sebep:

Sonuç:

Ali oyunu kazandı bu nedenle onu tebrik ettim.

Sebep:

Sonuç:

Güneşin altında çok beklediğimden dolayı başım dönmeye başladı.

Sebep:

Sonuç:

Eve varır varmaz mutfağa koştum çünkü çok açkıyım.

Sebep:

Sonuç:

SEBEP - SONUÇ CÜMLELERİ

Aşağıda verilen cümleleri sebep -sonuç cümleleri olacak şekilde tamamlayınız.

Osman okula
gelmediğinden dolayı

.....
.....
.....
.....

Araştırma ödevi yapmak
için.....

.....
.....
.....
.....

Elektrik kesintisi
nedeniyle.....

.....
.....
.....
.....

Çok gürültü olduğu için

.....
.....
.....
.....

Problemi sonucunu yanlış
buldu çünkü

.....
.....
.....
.....

Köpeği aniden gördüğü
için.....

.....
.....
.....
.....

Sürekli gazlı içecekler
içiyor bu yüzden

.....
.....
.....
.....

Yaşlı olduğundan dolayı

.....
.....
.....
.....

Hava çok soğuk olduğu
için.....

.....
.....
.....
.....

Futbol oynamayı çok
seviyor bu nedenle

.....
.....
.....
.....

Oyunun kurallarına
uymadı bu nedenle

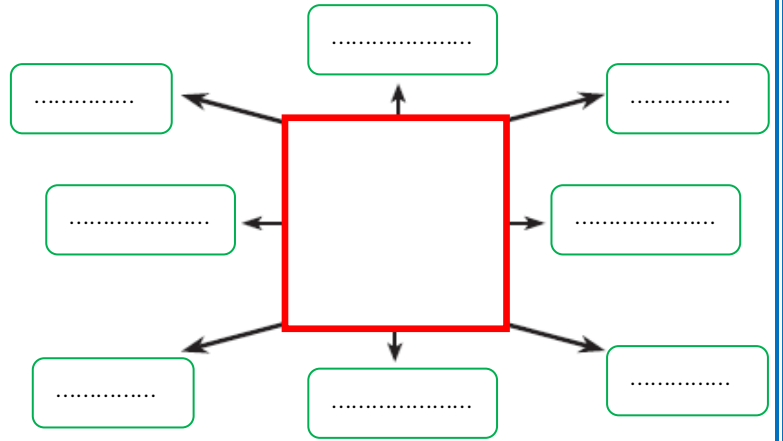
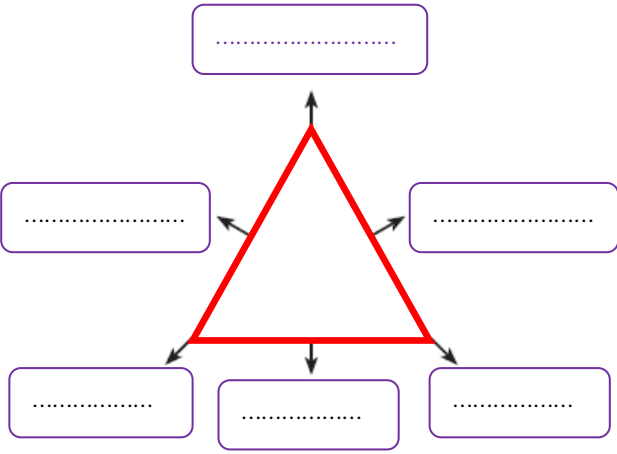
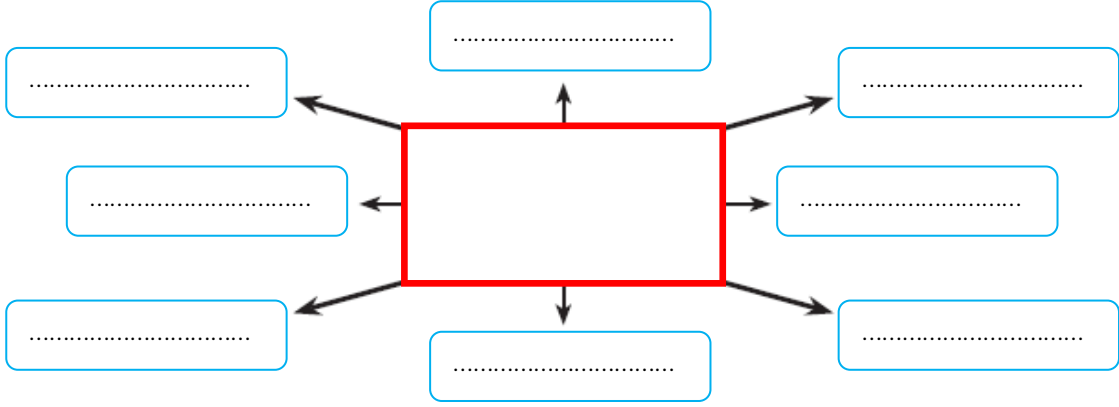
.....
.....
.....
.....

Bu kış hiç kar yağmadı
dolayısıyla.....

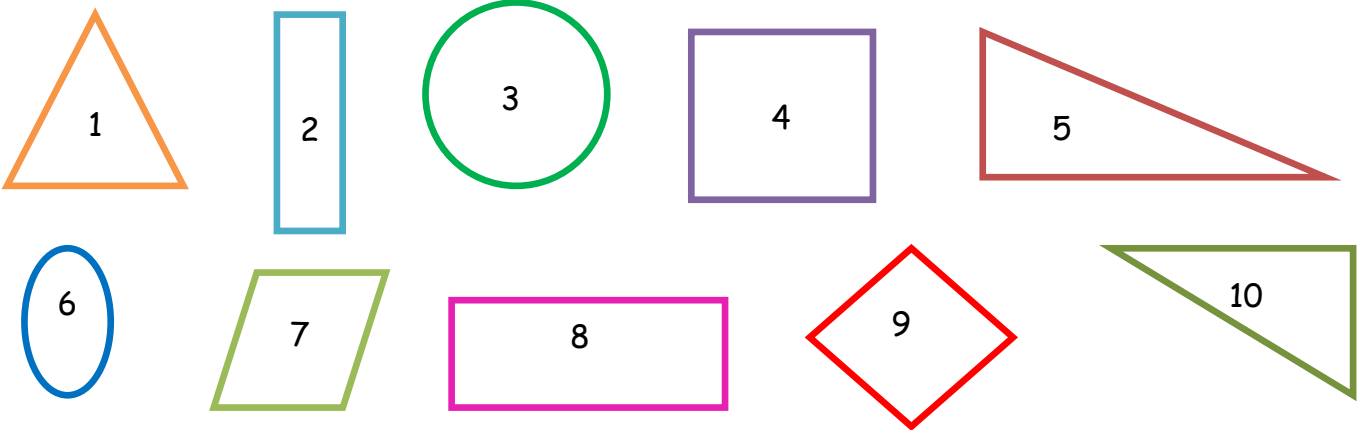
.....
.....
.....
.....

GEOMETRİK ŞEKİLLER

Aşağıdaki geometrik şekillerin oklarla gösterilen kısımlarına ne ad verildiğini kutulara yazınız.



Aşağıdaki geometrik şekilleri kenar ve köşe sayılarına göre verilen tabloda sınıflandırınız.



Üç Köşeli Şekiller	Üç Kenarlı Şekiller	Dört Köşeli Şekiller	Dört Kenarlı Şekiller	Köşesiz Şekiller	Kenarsız Şekiller



GEOMETRİK ŞEKİLLER

Aşağıdaki tablodaki geometrik şekillerin adlarını, kenar ve köşe sayılarını yazınız. Bu şekillerden her birinin, diğer şekillerle benzer ve farklı yönlerini tabloda yazınız.


Şekil	Şeklin Adı	Kenar Sayısı	Köşe Sayısı	Diğer Şekillerle Benzer Yönleri	Diğer Şekillerle Farklı Yönleri
					
					
					
					

Aşağıda özellikleri verilen geometrik şekilleri yan tarafta verilen alana çiziniz.



- Dört kenarı vardır.
- Dört köşesi vardır.
- Bütün kenarları birbirine eşittir.



- Üç kenarı vardır.
- Üç köşesi vardır.






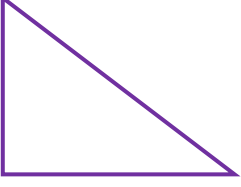


- Dört kenarı vardır.
- Dört köşesi vardır.
- Karşılıklı kenarları eşittir.
- İki kenarı uzun, iki kenarı eşittir.





GEOMETRİK ŞEKİLLER

Aşağıdaki geometrik şekillerden kenar ve köşe sayısı aynı olanların kutucuklarını aynı renge boyayınız.



Aşağıdaki iki farklı alana belirlediğiniz bir geometrik şekli kullanarak yapılar oluşturunuz.

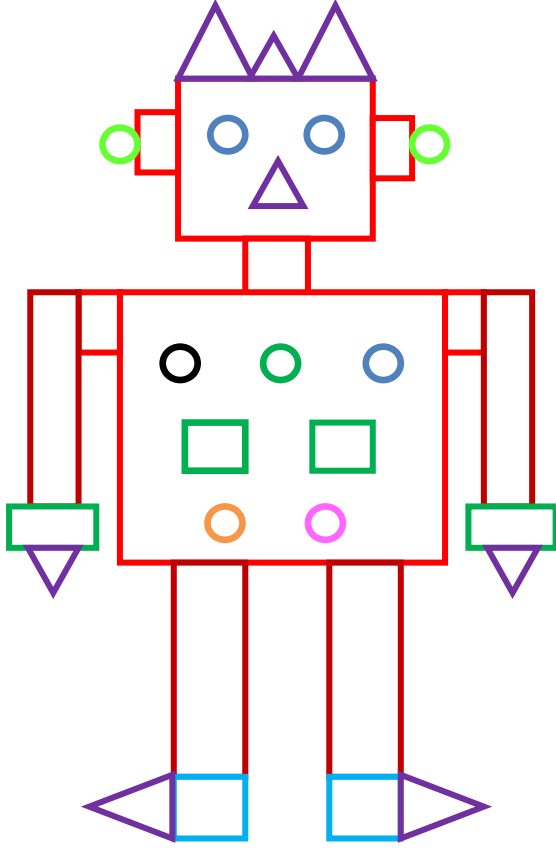


GEOMETRİK ŞEKİLLER

1-)



Aşağıdaki resmi inceleyerek yandaki soruları cevaplayınız.



SORULAR

1-) Yandaki resimde kaç tane çember var?

2-) Yandaki resimde kaç tane kare var?

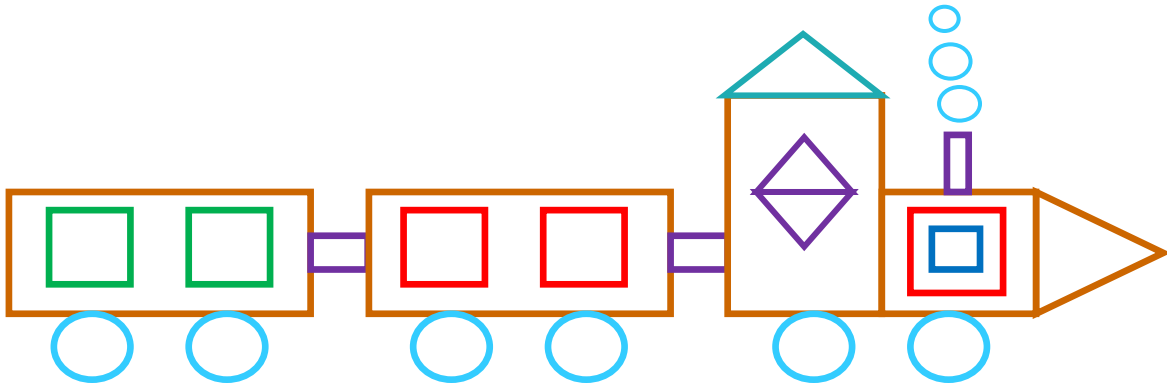
3-) Yandaki resimde kaç tane üçgen var?

4-) Yandaki resimde kaç tane dikdörtgen var?

İskender TAŞ




Aşağıda verilen şekli inceleyiniz. Hangi geometrik şekilden kaç tane var? Yazınız.



Dikdörtgen sayısı: ?



Üçgen Sayısı: ?



Çember Sayısı: ?



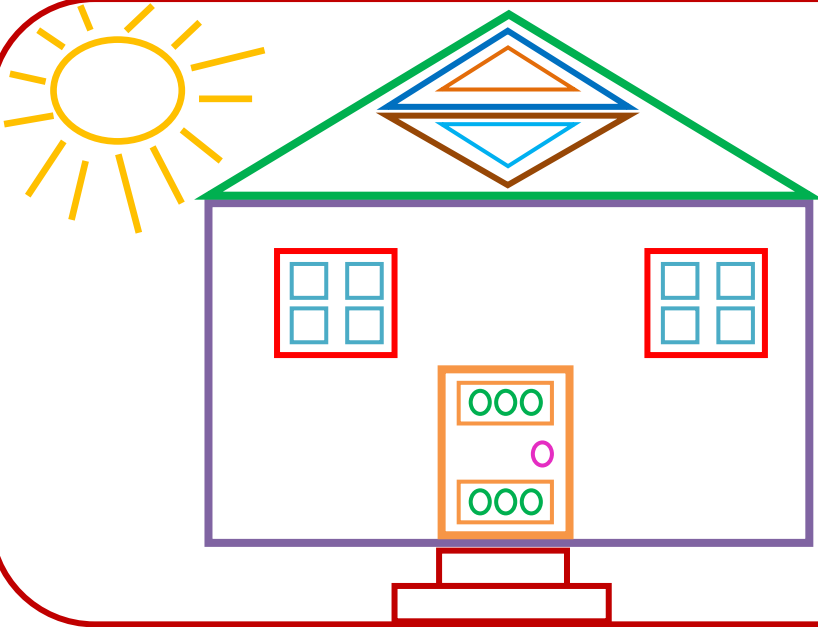
Kare Sayısı: ?

GEOMETRİK ŞEKİLLER

1-)



Aşağıdaki resmi inceleyerek yandaki soruları cevaplayınız.



SORULAR

1-) Yandaki resimde kaç tane çember var?

2-) Yandaki resimde kaç tane kare var?




3-) Yandaki resimde kaç tane üçgen var?

1-) Yandaki resimde kaç tane dikdörtgen var?

2-)



Aşağıda verilen şekli inceleyiniz. Hangi geometrik şekilden kaç tane var? Sayılarını şekillerin içine yazınız.



İskender07

3-)



Aşağıda verilen kelimeleri uygun boşluklara yazınız.

üçgenin

yoktur

eşit

uzun

Karenin uzunlukta dört kenarı ve dört köşesi vardır.

Dikdörtgenin birbirine eşit 2 kenarı ve birbirine eşit 2 kısa kenarı vardır.

Çemberin köşesi ve kenarı

.....3 kenarı ve 3 köşesi olan şekildir.

www.mebders.com

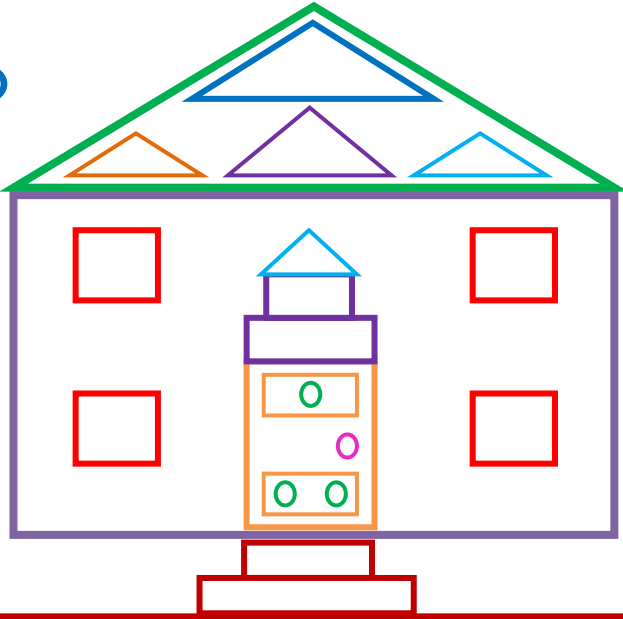
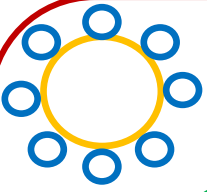
İskender07 (İlkokul etkinlikleri)

GEOMETRİK ŞEKİLLER

1-)



Aşağıdaki resmi inceleyerek yandaki soruları cevaplayınız.



SORULAR

1-) Yandaki resimde kaç tane çember var?

2-) Yandaki resimde kaç tane kare var?




3-) Yandaki resimde kaç tane üçgen var?

1-) Yandaki resimde kaç tane dikdörtgen var?

2-)



Aşağıda verilen şekli inceleyiniz. Hangi geometrik şekilden kaç tane var? Sayılarını şekillerin içine yazınız.



İskender07

3-)



Aşağıda verilen kelimeleri uygun boşluklara yazınız.

köşesi

çemberin

kısa kenarı

Karenin

..... eşit uzunlukta dört kenarı ve dört köşesi vardır.

Dikdörtgenin birbirine eşit 2 uzun kenarı ve birbirine eşit 2 vardır.

..... köşesi ve kenarı yoktur.

Üçgen 3 kenarı ve 3 olan geometrik şekildir.

www.mebders.com

İskender07 (İlkokul etkinlikleri)



SÜRPRİZ

Ece, her sabah olduğu gibi bugün de erken uyanmıştı. Bu günün bir özelliği vardı. Onun doğum günüydü. Bugün okul olduğu için doğum gününü hafta sonuna ertelemişti annesi. Buna üzülse de, biraz daha sabredecek ve hafta sonu kutlayacaktı.

Annesi onu okula bıraktı. Okul kapısından girdiği sırada öğretmenini gördü. Öğretmeni ona, dersin sınıfta değil gösteri salonunda yapılacağını söyledi. O da salona doğru yöneldi. Salona girmek için kapıyı açtığı anda onu içerde bir sürpriz bekliyordu.

Not: İlk 3 soruyu metne göre cevaplayınız.

1) Ece'nin uyandığı sabahın özelliği nedir?

- A) O gün sınavının olması
- B) O gün okulda gösteri yapması
- C) O gün doğum gününün olması

2) Öğretmeni, Ece'ye dersin **nerede** olacağını söyledi?

- A) Sınıfta
- B) Gösteri salonunda
- C) Konferans salonunda

3) Ece, içeriye girmek için kapıyı açtığı anda onu **ne** bekliyordu?

- A) Sürpriz
- B) Ailesi
- C) Okul müdürü

4)



Resme göre çocuğun ağlamasının **sebebi** nedir?

- A) Çocuğun yarışmayı kaybetmesi
- B) Çocuğun canının yanması
- C) Çocuğun bisikletinin yeni olması

5) Aşağıda verilen cümlelerin hangisinde **sebep-sonuç** ilişkisi vardır?

- A)  Yarın ailece yolculuğa çıkıyoruz.
- B)  Hikâye kitaplarını daha çok seviyorum.
- C)  Köpeği aniden gördüğüm için korktum.

6) "Şemsiyeyi unuttuğum çok
ışlandı."

Yukarıdaki cümle hangisi ile **tamamlanmalıdır?**

A) için B) çünkü C) ama

7) Aşağıdaki cümlelerin hangisinde sebep-
sonuç ilişkisi **yoktur?**

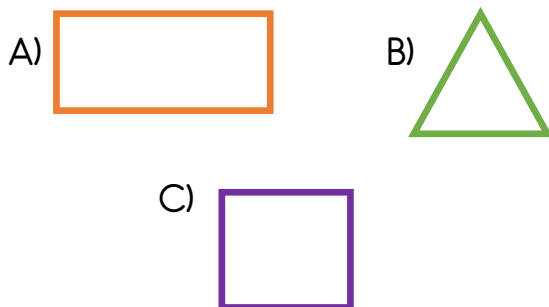
- A) Derslerime çok çalıştığım için başarımlar
artıyor.
B) Arkadaşlarımla eğlenerek, parkta
oynuyorum.
C) Çok bağırdığımdan dolayı sesim kısıldı.

8) "Melih, markette ağlamaya başlamış.
Çünkü"


Cümlesindeki noktalı yere, hangisinin
yazılması **uygundur?**

- A) annesini kaybetmiş.
B) insanlar alışveriş yapıyorlarmış.
C) çok sıra varmış.

9) Aşağıdaki geometrik şekillerin hangisinin
köşe sayısı diğerlerinden daha **azdır?**



10)



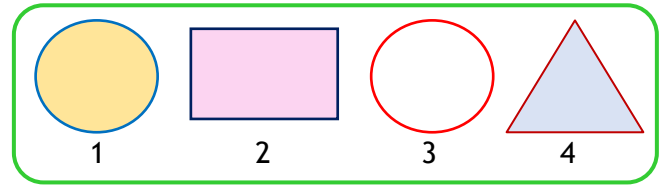
Yukarıda verilen geometrik şekillerin kenar
sayılarının **toplamı** kaçtır?

A) 8 B) 7 C) 4

11) Aşağıda verilen bilgilerden hangisi **yanlıştır?**

- A) Karenin 4 köşesi ve birbirine eşit 4
kenarı vardır.
B) Dikdörtgenin 4 köşesi ve birbirine eşit 4
kenarı vardır.
C) Üçgenin 3 kenarı ve 3 köşesi vardır.


12)



Numaralanmış geometrik şekillerden
hangilerinin **köşesi yoktur?**

A) 1 ve 3 B) 2 ve 4
C) 1 ve 4

13) Aşağıdaki geometrik şekillerden hangisi
çemberdir?



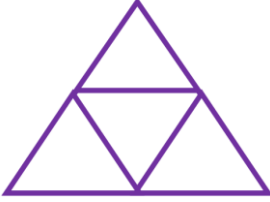
14)



Yukarıdaki geometrik şekillerin oluşturduğu yapıdaki üçgen, çember ve dikdörtgen sayısı hangi seçenekte doğru verilmiştir?

- A) 5 üçgen, 4 dikdörtgen, 4 çember
B) 4 üçgen, 4 dikdörtgen, 4 çember
C) 5 üçgen, 4 dikdörtgen, 5 çember

15)



Yandaki geometrik şekiller ile oluşan yapıda kaç üçgen vardır?

- A) 5 B) 4 C) 3

16) Aşağıdakilerden hangisi sağlığımız için çalışan meslek gruplarından birisi **değildir**?



17) İlaçların hazırlandığı veya hazır ilaçların satıldığı yer aşağıdakilerden hangisidir?

- A) Eczane B) Baharatçı
C) Şarküteri

18)



Dış hekimi

Doktor

Hemşire

Yukarıda meslekleri verilen kişiler **hangi alanda** çalışmaktadır?

- A) Sağlık B) Eğitim C) Teknoloji

19)



Hastalandığımda beni muayene etti.



Tahlil için kanımı o aldı.



Ağrıyan dişimi o çekti.

Çocukların bahsettiği **sağlık çalışanları** sırası ile hangileridir?

- A) Doktor, Eczacı, Dış Hekimi
B) Hemşire, Doktor, Sağlık Personeli
C) Doktor, Hemşire, Dış Hekimi

20) Aşağıdakilerden hangisi **sağlık** ile ilgili hizmet veren bir kurumdur?

- A) Belediye B) Postane
C) Hastane

Cevap Anahtarı

1)C 2)B 3)A 4)B 5)C
6)A 7)B 8)A 9)B 10)B
11)B 12)A 13)C 14)C 15)A
16)B 17)A 18)A 19)C 20)C