

ADI SOYADI:.....

2. SINIF 16. HAFTA KAZANIM DEĞERLENDİRME ETKİNLİĞİ

1."Bilgisayar" sözcüğü ile ilgili hangi bilgi yanlıştır?

- A) Ünlü harfleri i ve a harfleridir.
B) Ünsüz harfleri b, l, g, s, y, r harfleridir.
C) 11 harfli bir sözcüktür.



2.Yan tarafta görseli verilen nesnenin 2. ve 4. harfleri hangi seçenekte doğru verilmiştir?

- A) A - Y
B) T - R
C) A - O



3.Seçeneklerdeki hangi sözcük ünsüz harf ile başlayıp ünlü harf ile bitmiştir?

- A) köpek B) kedi C) ağaçkakan

4.Aşağıdaki varlıklardan hangisi dört hecelidir?

- A)  B)  C) 

5.Aşağıdaki cümlelerin hangisinde uzak kelimesinin zıt anlamlısı kullanılmıştır?

- A) Tahtaya yakın oturduğu için çok mutluydu.
B) Eve döneceği yol çok uzundu.
C) Dağların arkasından doğan güneş parlıyordu.

6.Bir kutu meyve suyundan 5 bardak meyve suyu çıkıyor. Bir sınıfta öğrenciler 4 kutu meyve suyu bitirdiyse kaç bardak meyve suyu içmişlerdir?

- A) 15
B) 20
C) 25



7.Bir çorba kasesi 2 kepçe ile dolmaktadır. 5 kaseyi doldurmak için kaç kepçe çorba gerekmektedir?

- A) 10
B) 15
C) 20



8.Kardeşim günde 2 bardak süt içiyor. Bir haftada kaç bardak süt içmiş olur?

- A) 9 B) 14 C) 28



9.Yeni aldığımız kahve makinesinin cezvesinden 5 bardak kahve çıkıyor. 20 bardak kahve için kaç cezve kahve pişirmeliyiz?

- A) 2
B) 3
C) 4



10. Hasta olan Yazgı, her gün 3 kaşık şurup içmektedir. 5. Gün şurup bittiğine göre Yazgı kaç kaşık şurup içmiştir?

- A) 10 B) 15 C) 20



11. "Yemek yerken uyulması gereken kuralları vardır." cümlesinde noktalı yere hangisi gelmelidir?

- A) görgü B) peçete C) trafik




12. Verilen ifadelerden doğru olan hangisidir?

- A) Yemeğimizi çok hızlı şekilde yemeliyiz.
B) Yemeği herkesten önce bitirmeliyiz.
C) Ağızımızda yiyecek varken konuşmamalıyız.

13. Aşağıdakilerden hangisi sofrada kullanılması gereken araç gereçlerden biri değildir?

- A) peçete B) telefon C) kaşık

14. Aşağıdaki çocuklardan hangisi yemek yerken uyulması gereken görgü kurallarına uymamaktadır?

- A)  B)  C) 

15. Aşağıdakilerden hangisi yemekte uyulması gereken görgü kurallarından biri değildir?

- A) Yemeğe herkesle birlikte başlamalıyız.
B) Tabakımıza yiyeceğimiz kadar yemek almalıyız.
C) Yemek yerken ağızımızı şapırdatmalıyız.

2. SINIF 16. HAFTA KAZANIM DEĞERLENDİRME ETKİNLİĞİ

CEVAP ANAHTARI

1."Bilgisayar" sözcüğü ile ilgili hangi bilgi yanlıştır?

A) Ünlü harfleri i ve a harfleridir.

B) Ünsüz harfleri b, l, g, s, y, r harfleridir.

✓ 11 harfli bir sözcüktür.



2.Yan tarafta görseli verilen nesnenin 2. ve 4. harfleri hangi seçenekte doğru verilmiştir?

✓ A - Y

B) T - R

C) A - O




3.Seçeneklerdeki hangi sözcük ünsüz harf ile başlayıp ünlü harf ile bitmiştir?

A) köpek

✓ kedi

C) ağaçkakan

4.Aşağıdaki varlıklardan hangisi dört hecelidir?



5.Aşağıdaki cümlelerin hangisinde uzak kelimesinin zıt anlamlısı kullanılmıştır?

✓ Tahtaya yakın oturduğu için çok mutluydu.

B) Eve döneceği yol çok uzundu.

C) Dağların arkasından doğan güneş parlıyordu.

6.Bir kutu meyve suyundan 5 bardak meyve suyu çıkıyor. Bir sınıfta öğrenciler 4 kutu meyve suyu bitirdiyse kaç bardak meyve suyu içmişlerdir?

A) 15

✓ 20

C) 25



7.Bir çorba kasesi 2 kepçe ile dolmaktadır. 5 kaseyi doldurmak için kaç kepçe çorba gerekmektedir?

✓ 10

B) 15

C) 20



8.Kardeşim günde 2 bardak süt içiyor. Bir haftada kaç bardak süt içmiş olur?

A) 9

✓ 14

C) 28



9.Yeni aldığımız kahve makinesinin cezvesinden 5 bardak kahve çıkıyor. 20 bardak kahve için kaç cezve kahve pişirmeliyiz?

A) 2

B) 3

✓ 4



10. Hasta olan Yazgı, her gün 3 kaşık şurup içmektedir. 5. Gün şurup bittiğine göre Yazgı kaç kaşık şurup içmiştir?

A) 10

✓ 15

C) 20



11. "Yemek yerken uyulması gereken kuralları vardır." cümlesinde noktalı yere hangisi gelmelidir?

✓ görgü

B) peçete

C) trafik

12. Verilen ifadelerden doğru olan hangisidir?

A) Yemeğimizi çok hızlı şekilde yemeliyiz.

B) Yemeği herkesten önce bitirmeliyiz.

✓ A) Ağzımızda yiyecek varken konuşmamalıyız.

13. Aşağıdakilerden hangisi sofrada kullanılması gereken araç gereçlerden biri değildir?

A) peçete

✓ telefon

C) kaşık

14. Aşağıdaki çocuklardan hangisi yemek yerken uyulması gereken görgü kurallarına uymamaktadır?

✓

B)

C)

15. Aşağıdakilerden hangisi yemekte uyulması gereken görgü kurallarından biri değildir?

A) Yemeğe herkesle birlikte başlamalıyız.

B) Tabağımıza yiyeceğimiz kadar yemek almalıyız.

✓ C) Yemek yerken ağızımızı şapırdatmalıyız.