

Adı :
Soyadı:


1. Sınıf
Matematik

Çıkarma İşlemi
Alıştırmalar-5

Çıkarma işlemlerini örneğe göre yapınız.




3 tanesi yedik. Kaç
tane kaldı?



5 tanesi kırıldı. Kaç
tane sağlam kaldı?



4 tanesi uçtu gitti.
Kaç tane kaldı?




3 tanesi kayboldu.
Kaç tane kaldı?

Adı :
Soyadı:

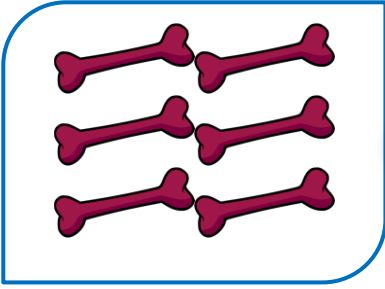
1. Sınıf
Matematik

Çıkarma İşlemi
Ağıştırmalar-5



6 tanesi satıldı. Kaç
tane kaldı?

□
□
—
□




6 tanesini köpek
yedi. Kaç tane kaldı?

□
□
—
□



4 tanesi eridi. Kaç
tane kaldı?

□
□
—
□



2 tanesi soldu. Kaç
tane kaldı?

□
□
—
□



3 tanesi patladı. Kaç
tane sağlam kaldı?

□
□
—
□