



Aşağıdaki tanımlarla, **kesir çeşitlerini** eşleştiriniz.

Payı paydasından küçük olan kesirlerdir.

Payı paydasına eşit veya payı paydasından büyük olan kesirlerdir.

En az bir bütün ve basit kesirden oluşan kesirlerdir.

Tam Sayılı Kesir

Basit Kesir

Bileşik Kesir



Basit kesirleri **sarıya**, birleşik kesirleri **maviye**, tam sayılı kesirleri **yeşile** boyayınız.

$$\frac{1}{6}$$

$$\frac{5}{4}$$

$$3\frac{2}{5}$$

$$\frac{14}{11}$$

$$7\frac{6}{10}$$

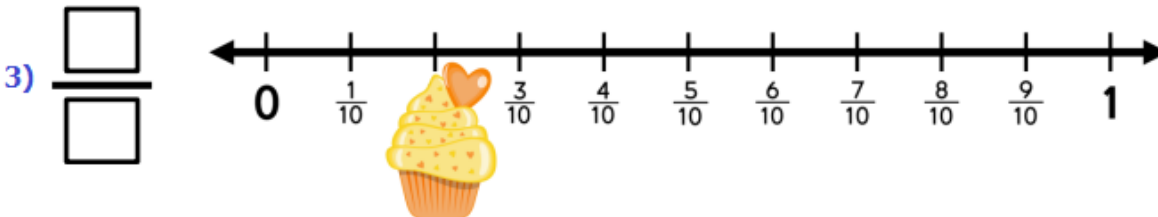
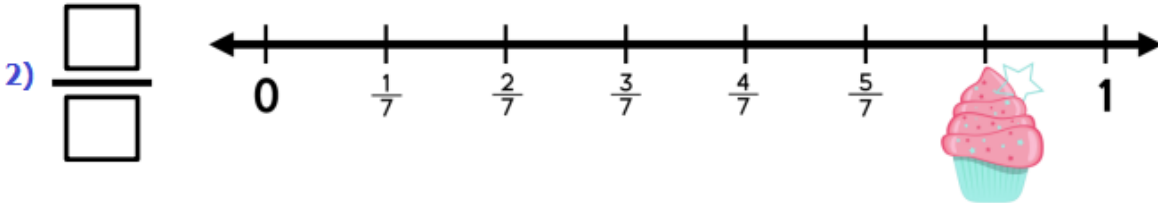
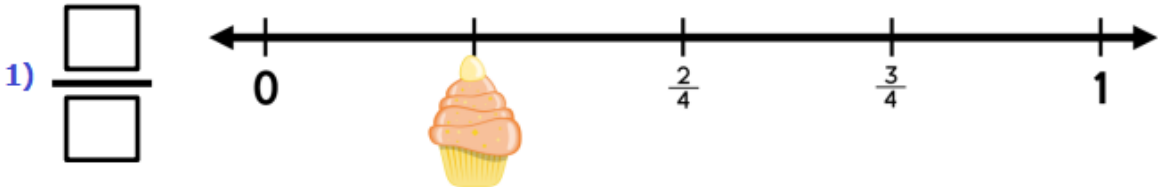
$$\frac{9}{14}$$

$$\frac{19}{12}$$

$$5\frac{22}{34}$$

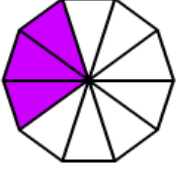


Sayı doğrularında **verilmeyen** kesirleri yazınız.

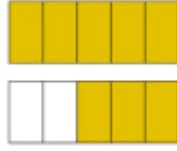




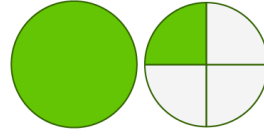
Boyalı kısımları ifade eden **kesirleri** yazınız.



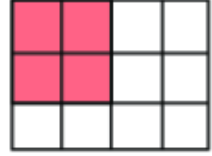
—




—



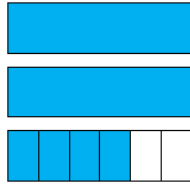
—



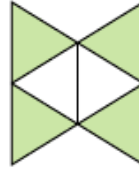
—




—



—



—



—



Aşağıdaki **tabloyu** istenenlere uygun olarak **doldurunuz**.

Kesrin Yazılışı	Kesrin Okunuşu
$\frac{4}{7}$	Yedide dört
$\frac{5}{9}$	
$\frac{12}{8}$	
$3\frac{4}{5}$	
$\frac{14}{6}$	
$5\frac{9}{10}$	
$\frac{14}{25}$	

Kesrin Yazılışı	Kesrin Okunuşu
$\frac{11}{5}$	Beşte on bir
	Dört tam yedide üç
	Yirmide on üç
	On tam dokuzda beş
	Dokuzda otuz
	Yedide on yedi
	Bir tam sekizde iki