



GEOMETRİK CİSİMLER

1-)



Aşağıdaki verilen geometrik cisimlerin adlarını altına yazınız.



2-)



Aşağıdaki açıklamaların hangi geometrik cisme ait olduğunu eşleştiriniz.

İki yüzüm var. 1 yüzüm düz diğer yüzüm eğridir.

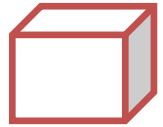
8 köşem var. Birbirine eşit kare şeklinde 6 düz yüzüm var.

Köşem yoktur. 1 eğri yüzüm var.

8 köşem var. Yüzeylerim düzdür. 6 yüzüm var. Yüzeylerim dikdörtgen şeklindedir.

6 köşem var. Yüzeylerim düzdür. 5 yüzeyimin 2 tanesi üçgen, 3 tanesi dikdörtgen şeklindedir.

Köşem yoktur. 3 yüzüm var. 1 yüzüm eğridir, diğer 2 yüzüm düz ve daire şeklindedir.



GEOMETRİK CİSİMLER

1-)



Aşağıdaki verilen geometrik cisimlerin adlarını yanına yazınız.

İki yüzüm var. 1 yüzüm düz diğer yüzüm eğridir.



.....

8 köşem var. Birbirine eit 6 eşit düz yüzüm var.



.....

Köşesi ve kenarı yoktur. 1 eğri yüzüm var.



.....

8 köşem var. Yüzeylerim düzdür. 6 yüzüm var.
Yüzeylerim dikdörtgen şeklindedir.



.....

6 köşem var. Yüzeylerim düzdür. 5 yüzeyimin 2
tanesi üçgen, 3 tanesi dikdörtgen şeklindedir.




.....

2-)

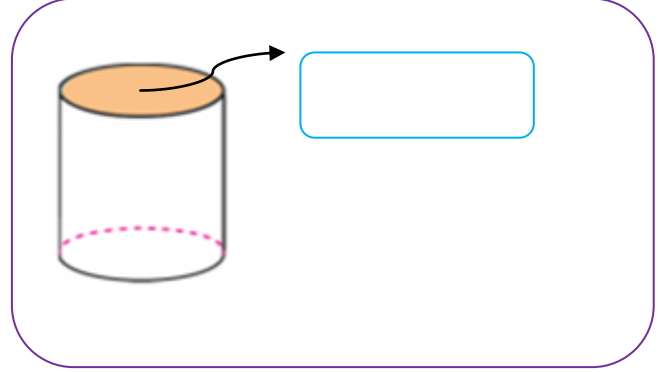
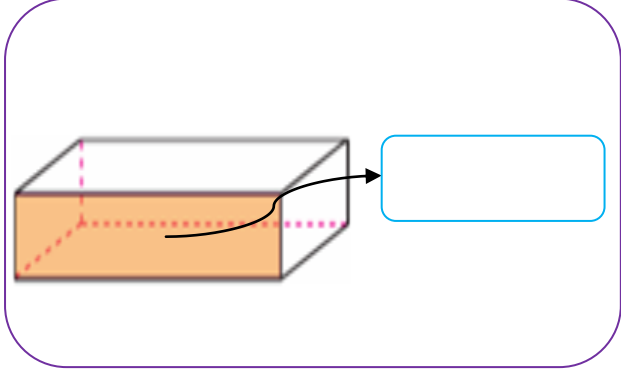
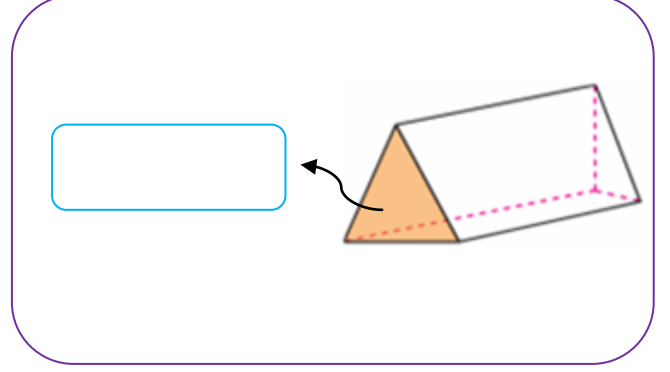
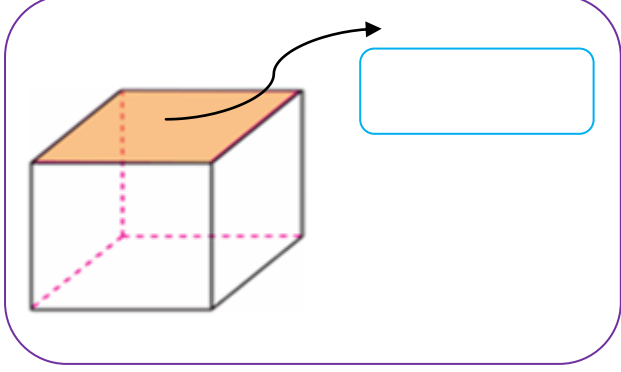


Aşağıdaki varlıkların altına, hangi geometrik cisme benzediğini yazınız.

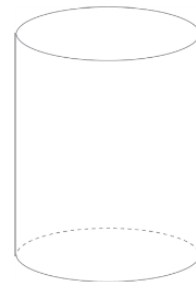
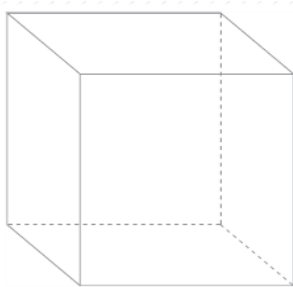
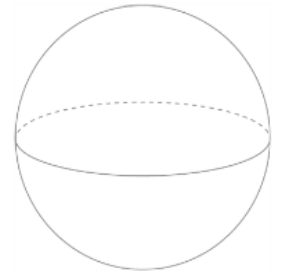
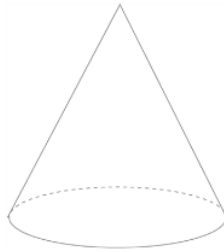
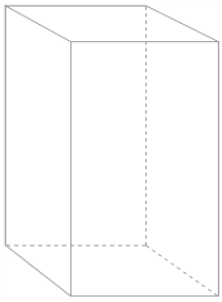


GEOMETRİK CİSİMLER

Aşağıdaki geometrik cisimlerin oklarla gösterilen yüzeylerini inceleyelim. Bu yüzeylerin hangi geometrik şekiller olduğunu yazalım.



Aşağıdaki geometrik cisimlerin köşesi olanların köşelerini işaretleyiniz. Cisimlerin adlarını altına yazınız.



GEOMETRİK CİSİMLER

Aşağıdaki nesnelere benzedikleri geometrik cisimlerle eşleştiriniz.

