



## MAYMUNLAR

Maymunlar ağaçlarda yaşarlar. Çok çevik ve zeki bir yapıya sahip hayvanlardır. Uzun kuyrukları sayesinde ağaç dallarına tutunabilirler. Bir daldan diğerine zıplayabilirler. Ailesi ve kendisi güçlü yetişmiş bir maymun 60 yıl kadar yaşayabilir.

Maymunların taklit yetenekleri gelişmiştir. Maymunlar oldukça meraklı hayvanlardır. Yüksek bir yerde bulunan bir yiyeceğe ulaşmak için bir kaç eşyayı üst üste koyabilirler. Hayvanlar arasındaki en zeki türlerdendir.

**Not:** İlk 3 soruyu metne göre cevaplayınız.

1) Aşağıdakilerden hangisi maymunların özelliklerinden birisi **değildir**?

- A) Zeki hayvanlardır.
- B) Meraklı hayvanlardır.
- C) Çelimsiz bir yapıya sahiptirler.


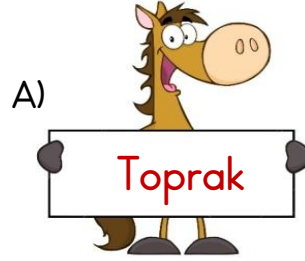
2) Maymunlar **hangi** organları sayesinde bir daldan başka bir dala atlayabilir?

- A) Kolları
- B) Kuyrukları
- C) Ayakları

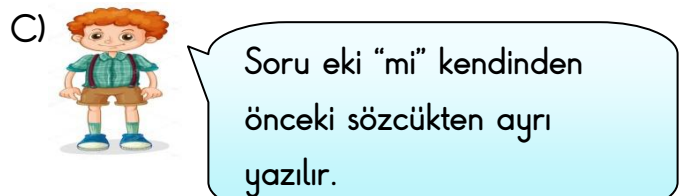
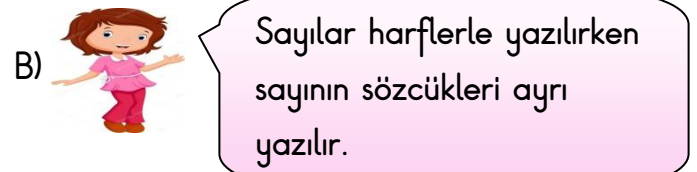
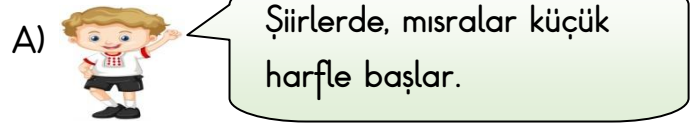
3) "Maymunlar yüksek bir yerde bulunan bir yiyeceğe ulaşmak için bir kaç eşyayı üst üste koyabilirler." Bu durum maymunların **hangi özelliğini** gösterir?

- A) Zeki olduklarını
- B) Güçlü olduklarını
- C) Yetenekli olduklarını

4) Aşağıda verilen sözcüklerin hangisinin yazımında **yanlışlık** yapılmıştır?



5) Aşağıdaki hangi öğrencinin söylediği ifade **yanlıştır**?



6) Sergiye Cuma günümü gideceksiniz?

Yukarıdaki cümlede yazım yanlışı yapılmıştır. Cümlenin **doğru yazılmış hali** aşağıdakilerden hangisidir?






- A) Sergiye Cuma günümü gideceksiniz?
- B) Sergiye cuma günümü gidecek siniz?
- C) Sergiye cuma günü mü gideceksiniz?

7) Aşağıdaki cümlelerin hangisinde yazım yanlışı **yapılmıştır**?

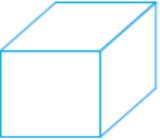

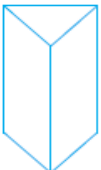
- A) Tatilde kitap okuyacak mısın?
- B) Köpeği mi gezdireceğim.
- C) Bu güzel resmi sen mi yaptın?

8)  yalnız  kibrit  
 perşembe  film



Tablodaki sözcüklerden hangi ikisi **yanlış** yazılmıştır?

- A)  
- B)  
- C)  


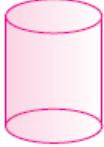
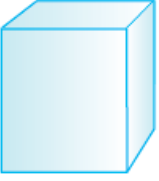
9) Aşağıdaki geometrik cisimlerin hangisinin yüzeyi ile **kare** çizilebilir?

- A) 
- B) 
- C) 

10) Aşağıdaki cisimlerden hangi **küreye** örnektir?

- A) 
- B) 
- C) 

11) Aşağıda verilen geometrik cisimlerden hangisinin yüzeyi **eğridir**?

- A) 
- B) 
- C) 

12)



Yandaki evin çatısı hangi **geometrik cisime** benzemektedir?

- A) Üçgen prizma
- B) Küre
- C) Dikdörtgen prizma

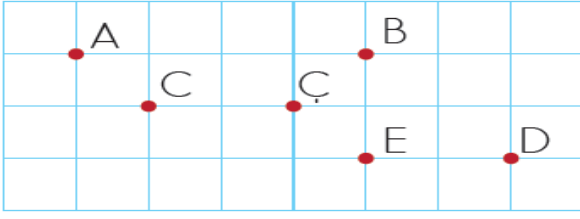
13)



Kırmızı araba **otele gidebilmek** için nasıl bir yol izlemelidir?

- A) Önce sola daha sonra sağa dönmeli
- B) Düz ilerleyerek sağa dönmeli
- C) Düz ilerleyip önce sağa, sonra sola dönmeli

Not: 14 ve 15. soruyu aşağıda verilen şekle göre cevaplayınız.



14) Yukarıda verilen kareli kâğıtta A noktasından, E noktasına gidebilmek için nasıl bir yol izlenmelidir?

- A) 2 birim aşağıya, 4 birim sola gitmeli  
B) 4 birim sağa, 2 birim aşağıya gitmeli  
C) 2 birim yukarıya, 4 birim sağa gitmeli

15) C noktasından 3 birim sağa, daha sonra 1 birim yukarıya gidersek hangi **harfe ulaşırız?**

- A) B      B) E      C) D

16) Aşağıdakilerden hangisi vitamin deposu olup vücudumuzun hastalıklara karşı dirençli olmasını sağlayan **kış meyvesidir?**



17) Aşağıdaki meyvelerden hangisini **yaz mevsiminde** tüketmek daha doğrudur?



18)



Yukarıda verilen kıyafetlerin kaç tanesini **yaz mevsiminde** giyebiliriz?

- A) 3      B) 5      C) 4

19)



Yaz gelince vücudumuzun su ihtiyacı artar. Karpuz, şeftali üzüm gibi meyveler yerim.

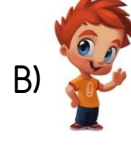


Soğuk algınlığına yakalanmamak için greyfurt, muz, portakal yerim.



Kış aylarında bizleri serinletecek karpuz, kavun ve üzüm yeriz.

Hangi çocuk mevsimine göre **yanlış** beslenmektedir?



20) Aşağıdaki kıyafetlerden hangisini **yaz mevsiminde** giymek daha doğrudur?



## Cevap Anahtarı

1)C 2)B 3)A 4)B 5)A  
6)C 7)B 8)C 9)A 10)C  
11)B 12)A 13)C 14)B 15)A  
16)B 17)B 18)C 19)C 20)A