

HAYAT BİLGİSİ MEVSİMİNE UYGUN BESLENELİM

Aşağıdaki cümlelerde boş bırakılan yerleri verilen kelimelerle uygun olacak şekilde tamamlayınız.

portakal

mevsim

doğal

sağlıklı

para

meyveler

kış

yaz

- Mevsiminde yetişen sebze ve meyveler daha dır
- Her sebze ve meyvenin yetiştiği bir vardır.
- Mevsimine uygun sebze ve meyve alırsak daha az harcarız.
- kış mevsiminde yetişen bir meyvedir.
- Meyve ve sebzeler mevsimde yollarla yetişir.
- Çilek ve eriği mevsiminde tüketmeliyiz.
- Mevsiminde yetişen daha lezzetlidir.

Görselleri verilen sebze ve meyveleri yetiştikleri mevsimlere göre gruplayıp tablolara yazınız.



İLKBAHAR

YAZ

SONBAHAR

KIŞ

DAĞINIK ÇOCUK

Bir zamanlar çok dağınık bir çocuk varmış. Eşyalarını sürekli dağıtır, odasını hiç toplamazmış. Bir gün çocuk okula gittikten sonra odadaki eşyalar arasında konuşmaya başlamış. Ceket, ders kitabına "Sen neden yerdesin?" diye sormuş. Ders kitabı, "Dağınık çocuk beni okula giderken aradı ama bulamadı. Bulamayınca fark etmeden üzerime basıp gitti." demiş.

Çorap, "Ben üç gündür buradayım. Yatağın altında sıkışıp kaldım. Kimse beni görmüyor." diye yakınıp durmuş. Gömlek ise "Ben de dolaptaydım ama beni dolaptan çıkarttı sonra yere attı. Üstelik sürekli üstüme basıyor. Bu yüzden her yerim buruştu." demiş.



Pantolon bütün eşyalara, "Dağınık çocuk benim cebimde bir otobüs bileti unutmuş. Haydi, hep birlikte otobüse binip gidelim." demiş. Bu fikir, dağılan eşyaların çok hoşuna gitmiş ve yola koyulmuş.

Otobüs onları güzel, yemyeşil bir kıra götürmüş. Eşyalar burada oynayıp hiç umursamadan çamurda kirlenmişler. Daha sonra eve dönmüşler. Okuldan gelen dağınık çocuk eşyalarını eskisinden daha kötü, yıpranmış ve kirli görünce odasını dağıttığı için çok pişman olmuş.

A-) Aşağıda verilen soruları metne göre cevaplayınız.

1-) Dağınık çocuk okula gittikten sonra ne olmuş?

2-) "Ben üç gündür buradayım, yatağında altında sıkışıp kaldım." diyen eşya kimdir?

3-) Otobüs eşyaları nereye götürmüş?

4-) Okuldan gelen dağınık çocuk, eşyaları eskisinden daha kötü görünce ne yapmış?

www.mebders.com

1) Dağınık çocuk hangisini yapmamış?

- A) Eşyalarını dağıtır.
- B) Odasını toplamazmış.
- C) Eşya ve odasını düzenli kullanırmış.

B-) Doğru olanı işaretleyelim.

2) Otobüs bileti hangi eşyanın cebinden çıkmıştır?

- A) Ceket
- B) Pantolon
- C) Gömlek

3) Yemyeşil bir kırdaki eşyalar ne yapmamış?

- A) Oynamışlar
- B) Kendilerini temizlemişler.
- C) Çamurda kirlenmişler.

HAYAT BİLGİSİ MEVSİMİNE UYGUN KIYAFET SEÇERİM

Aşağıdaki cümlelerden doğru olanların başına "D", yanlış olanların başına "Y" yazınız.

D	Y	İFADELER
		Yaz mevsiminde teri emen pamuklu kumaştan yapılmış giysiler giyilmelidir.
		Kışın bizi serin tutan kıyafetler tercih etmeliyiz.
		Arkadaşlarımızın beğendiği giysileri her mevsimde tercih edebiliriz.
		Şort, tişört yaz mevsiminde giydiğimiz giysilerdir.
		Kışın soğuk havalarda parmaklarımızın üşümemesi için eldiven giyeriz.
		Atkı ve palto her mevsim giyebileceğimiz kıyafetlerdendir.
		Yünlü giysiler yazın sıcaklardan daha az etkilenmemizi sağlar.
		Kış mevsiminde spor yaparken vücut ısımız artacağından ince ve kat kat giyinmeliyiz.

Aşağıda görselleri verilen kıyafetleri, giyilebileceği uygun mevsimlerle eşleştiriniz.



Yazılışında ve Söylenişinde Hata Yapılan Kelimeler

Aşağıda yazılış ve söylenişinde hata yapılan kelimelerin doğru halini okuyunuz.

Yanlış Hali	Doğru Hali	★	Yanlış Hali	Doğru Hali
traş	tıraş	★	gırvat	kravat
meyva	meyve	★	tıraktör	traktör
torpak	toprak	★	buyday	buğday
yanlız	yalnız	★	sipor	spor
domatez	domates	★	filim	film
kıral	kral	★	perşenbe	perşembe
yalnış	yanlış	★	erezyon	erozyon
eşortman	eşofman	★	şarz	şarj
kirbit	kibrit	★	makina	makine
herkez	herkes	★	klavuz	kılavuz
şöför	şoför	★	candarma	jandarma
süpriz	sürpriz	★	sitres	stres
tiren	tren	★	dersane	dershane
kiprik	kirpik	★	penbe	pembe
öretmen	öğretmen	★	zebze	sebze

Yazılışında ve Söylenişinde Hata Yapılan Kelimeler

Aşağıda yazılış ve söylenişinde hata yapılan kelimelerin doğru halini yazınız.

Yanlış Hali	Doğru Hali	★	Yanlış Hali	Doğru Hali
traş		★	gırvat	
meyva		★	tıraktör	
torpak		★	buyday	
yanlız		★	sipor	
domatez		★	filim	
kıral		★	perşembe	
yalnış		★	erezyon	
eşortman		★	şarız	
kirbit		★	makina	
herkez		★	klavuz	
şöför		★	candarma	
süpriz		★	sitres	
tiren		★	dersane	
kiprik		★	penbe	
öretmen		★	zebze	

YAZIM YANLIŞLIKLARI

Görsellerdeki sözcüklerin doğru yazıldığı kutucuğu işaretleyiniz.



kalem tıraş

kalemtraş


kalemtırtaş



kipri

kirpi

kirpik



karnabahar

karnıbahar

karna bahar



tiren

tiren

tren



çukolata

çikolata

çikilata



traktör

tıraktör

traktor

Aşağıdaki cümlelerde boş bırakılan yerlere yazımı doğru olan sözcüklerle tamamlayınız. Doğru yazılmış sözcükleri işaretleyiniz.

Anayolun kenarında polisini gördük.

tırafık

trafik

..... günü dayım gelecek.

Perşembe

Perşenbe

Çok güzel bir çizgi izledim.

filim

film

Ödevlerimi yapmışım.

yalnış

yanlış

YAZIM YANLIŞLIKLARI

Aşağıdaki cümlelerde bulunan yazım ve noktalama yanlışlıklarını bularak altlarını çiziniz. Cümleleri yazım ve noktalama kurallarına uygun şekilde yeniden yazınız.

Efe matematik pıroblemi çözmeyi çok seviyor !

Kirpitle oynamak çok tehlikelidir ?

Annem salata yapmak için domatez aldı.

Çanakkale şehitliğine gezmeye gittin mi.

Üç kenarı olan geometrik şekle üçken denir ?

Akşam bize ayşe'ler misafirliğe geldi.

Pazardan, sovan ile meyva aldınız mı.

Tenefüste kar topu oynamayı seviyorum.

Kaplunbağalar çok yavaş harket ederler.

Babanız kırkiki yaşında mı.

YAZIM YANLIŞLIKLARI

Soru Eki "mi" nin Yazılışı

★ Soru eki olan "mi" kendisinden önce gelen sözcükten ayrı yazılır.

Baba, dedem geldi **mi** ? Okula gidecek **misin** ?

★ "mi" soru eki, eklendiği sözcüğün son hecesindeki sesli harfe göre "mı,mu,mü" olarak yazılabilir.

Parka gidelim **mi** ? Hikayeni okudun **mu** ?
Aslı'yı gördün **mü** ? Ekmek aldın **mı** ?

Aşağıdaki cümlelerde soru eki "mi" nin yazımı ile ilgili yanlışlıkları bulup düzelterek verilen cümlenin altına yeniden yazınız.

Bu soruyu senmi çözdün?

.....

Pencereyi açalım mı ?

.....

Bu soruyu senmi çözdün?

.....

Akşam bize gelecekmisiniz?

.....

Meyve ve sebze sağlıklı mıdır?

.....

Yaşlılara yardım ediyormusun?

.....

Ahmet artık okula gelecek mi?


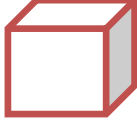
.....

GEOMETRİK CİSİMLER

1-)



Aşağıdaki verilen geometrik cisimlerin adlarını altına yazınız.



2-)



Aşağıdaki açıklamaların hangi geometrik cisme ait olduğunu eşleştiriniz.

İki yüzüm var. 1 yüzüm düz diğer yüzüm eğridir.

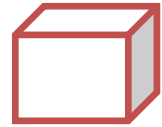
8 köşem var. Birbirine eşit kare şeklinde 6 düz yüzüm var.

Köşem yoktur. 1 eğri yüzüm var.

8 köşem var. Yüzeylerim düzdür. 6 yüzüm var. Yüzeylerim dikdörtgen şeklindedir.

6 köşem var. Yüzeylerim düzdür. 5 yüzeyimin 2 tanesi üçgen, 3 tanesi dikdörtgen şeklindedir.

Köşem yoktur. 3 yüzüm var. 1 yüzüm eğridir, diğer 2 yüzüm düz ve daire şeklindedir.



GEOMETRİK CİSİMLER

1-)



Aşağıdaki verilen geometrik cisimlerin adlarını yanına yazınız.

İki yüzüm var. 1 yüzüm düz diğer yüzüm eğridir.



.....

8 köşem var. Birbirine eit 6 eşit düz yüzüm var.



.....

Köşesi ve kenarı yoktur. 1 eğri yüzüm var.



.....

8 köşem var. Yüzeylerim düzdür. 6 yüzüm var.
Yüzeylerim dikdörtgen şeklindedir.



.....

6 köşem var. Yüzeylerim düzdür. 5 yüzeyimin 2
tanesi üçgen, 3 tanesi dikdörtgen şeklindedir.




.....

2-)

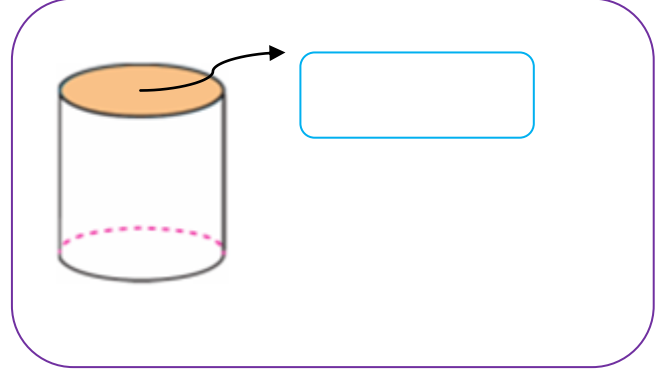
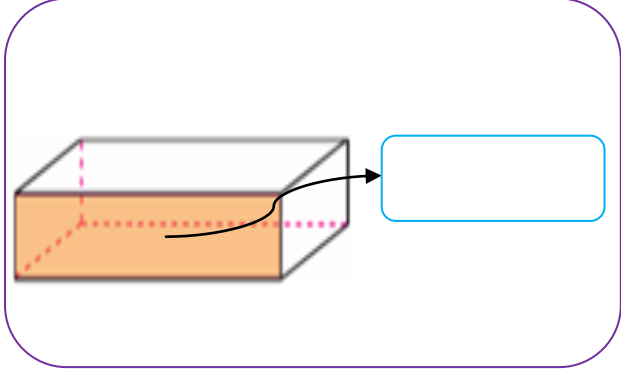
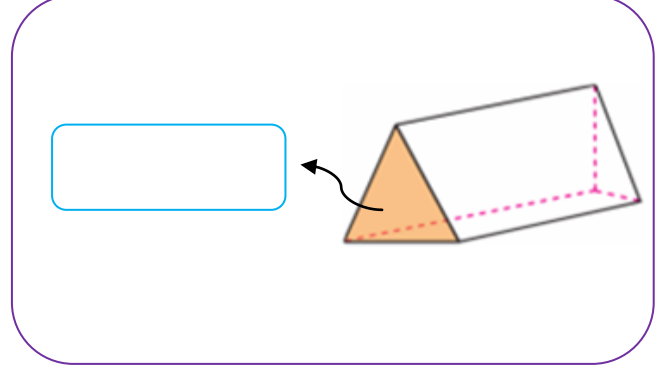
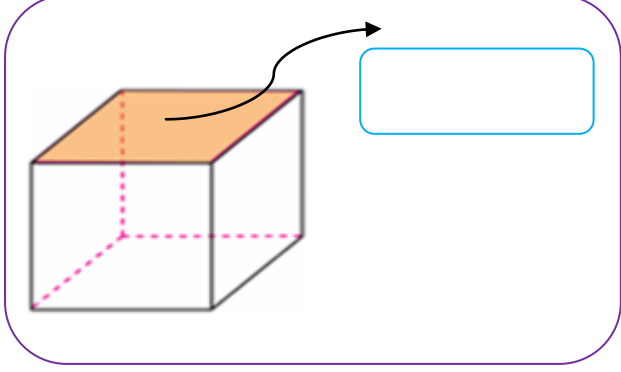


Aşağıdaki varlıkların altına, hangi geometrik cisme benzediğini yazınız.

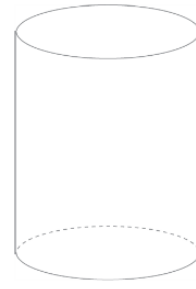
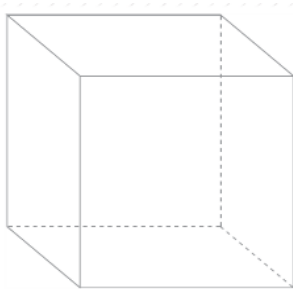
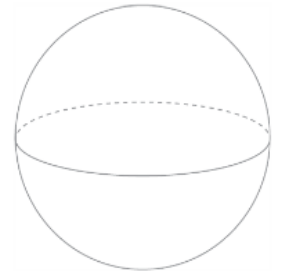
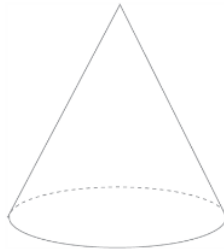
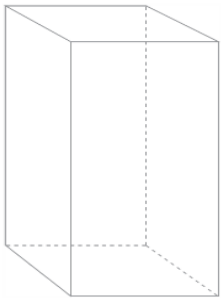


GEOMETRİK CİSİMLER

Aşağıdaki geometrik cisimlerin oklarla gösterilen yüzeylerini inceleyelim. Bu yüzeylerin hangi geometrik şekiller olduğunu yazalım.


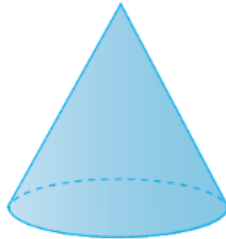
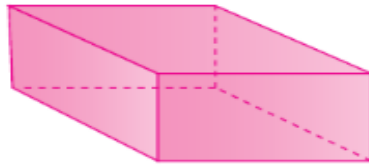
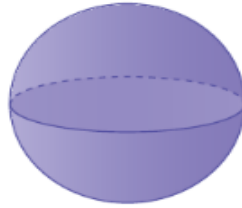
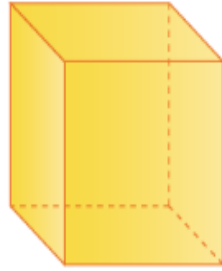
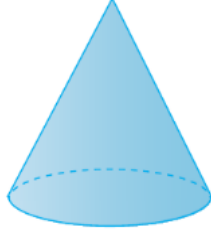



Aşağıdaki geometrik cisimlerin köşesi olanların köşelerini işaretleyiniz. Cisimlerin adlarını altına yazınız.




GEOMETRİK CİSİMLER

Aşağıdaki nesnelere benzedikleri geometrik cisimlerle eşleştiriniz.



YER YÖN HAREKET

Verilen soruları sırasıyla aşağıdaki görsele göre cevaplayınız.



1-) Elmanın 3 birim sağında hangi nesne vardır?

2-) Elma 4 birim yukarıya doğru hareket ettirilirse hangi nesneye ulaşılır?

3-) Arı 1 birim sağa, 3 birim yukarıya doğru hareket ettirilirse hangi nesneye ulaşılır?

4-) Muz 4 birim aşağıya, 2 birim sola hareket ettirilirse hangi nesneye ulaşılır?

5-) Köpek 5 birim aşağıya, 2 birim sağa hareket ettirilirse hangi nesneye ulaşılır?

6-) Tavuk 3 birim aşağıya, 2 birim sağa hareket ettirilirse hangi nesneye ulaşılır?

7-) Çilek 3 birim sola, 2 birim yukarıya hareket ettirilirse hangi nesneye ulaşılır?

8-) Köpek 5 birim aşağıya, 2 birim sağa hareket ettirilirse hangi nesneye ulaşılır?

YER YÖN HAREKET

Aşağıda verilen sorularda noktalı yerlere yön pusulasına göre "yukarısında", "aşağısında", "solunda", "sağında" ifadelerinden uygun olanları yazınız.



Alı'nın evi



Market



Elif'in evi



Park



Kirtasiye



Okul



Kütüphane



Hastane



Onur'un evi



Sıla'nın evi



Manav



Nurcan'ın evi

Ahmet'in evi, okulundır.

Sıla'nın evi, manavındır.

Kütüphane, parkındır.

Kirtasiye, parkındır.

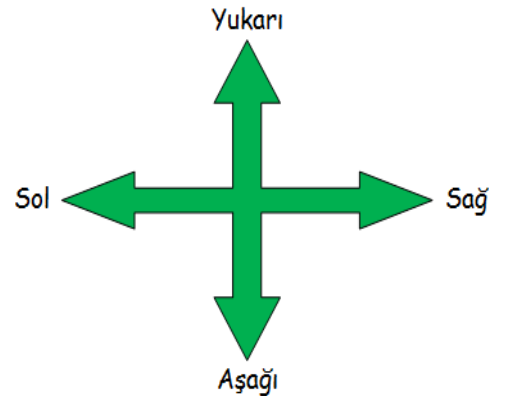
Market, Elif'in evinindır.

Nurcan'ın evi, hastanenindır.

Okul, Onur'un evinindır.

Hastane, okulundır.

Park, marketindır.





MAYMUNLAR

Maymunlar ağaçlarda yaşarlar. Çok çevik ve zeki bir yapıya sahip hayvanlardır. Uzun kuyrukları sayesinde ağaç dallarına tutunabilirler. Bir daldan diğerine zıplayabilirler. Ailesi ve kendisi güçlü yetişmiş bir maymun 60 yıl kadar yaşayabilir.

Maymunların taklit yetenekleri gelişmiştir. Maymunlar oldukça meraklı hayvanlardır. Yüksek bir yerde bulunan bir yiyeceğe ulaşmak için bir kaç eşyayı üst üste koyabilirler. Hayvanlar arasındaki en zeki türlerdendir.

Not: İlk 3 soruyu metne göre cevaplayınız.

1) Aşağıdakilerden hangisi maymunların özelliklerinden birisi **değildir**?

- A) Zeki hayvanlardır.
- B) Meraklı hayvanlardır.
- C) Çelimsiz bir yapıya sahiptirler.


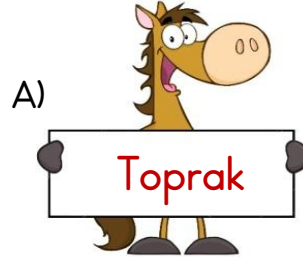
2) Maymunlar **hangi** organları sayesinde bir daldan başka bir dala atlayabilir?

- A) Kolları
- B) Kuyrukları
- C) Ayakları

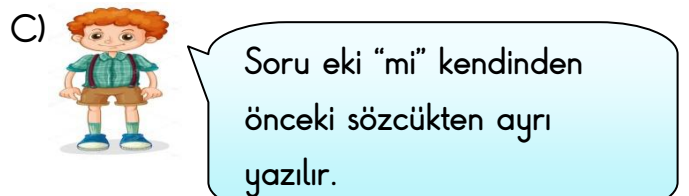
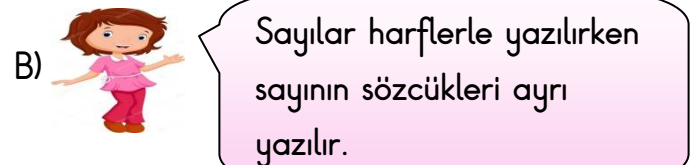
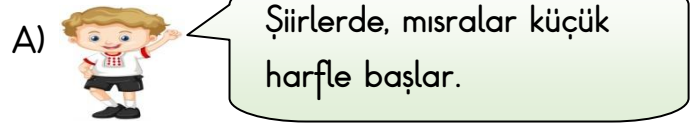
3) "Maymunlar yüksek bir yerde bulunan bir yiyeceğe ulaşmak için bir kaç eşyayı üst üste koyabilirler." Bu durum maymunların **hangi özelliğini** gösterir?

- A) Zeki olduklarını
- B) Güçlü olduklarını
- C) Yetenekli olduklarını

4) Aşağıda verilen sözcüklerin hangisinin yazımında **yanlışlık** yapılmıştır?



5) Aşağıdaki hangi öğrencinin söylediği ifade **yanlıştır**?



6) Sergiye Cuma günümü gideceksiniz?

Yukarıdaki cümlede yazım yanlışı yapılmıştır. Cümlenin **doğru yazılmış hali** aşağıdakilerden hangisidir?






- A) Sergiye Cuma günümü gideceksiniz?
- B) Sergiye cuma günümü gidecek siniz?
- C) Sergiye cuma günü mü gideceksiniz?

7) Aşağıdaki cümlelerin hangisinde yazım yanlışı **yapılmıştır**?

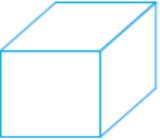

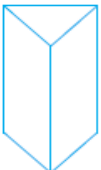
- A) Tatilde kitap okuyacak mısın?
- B) Köpeği mi gezdireceğim.
- C) Bu güzel resmi sen mi yaptın?

8)  yalnız  kibrit
 perşembe  film


Tablodaki sözcüklerden hangi ikisi **yanlış** yazılmıştır?

- A)  
- B)  
- C)  


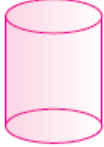
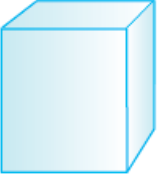
9) Aşağıdaki geometrik cisimlerin hangisinin yüzeyi ile **kare** çizilebilir?

- A) 
- B) 
- C) 

10) Aşağıdaki cisimlerden hangi **küreye** örnektir?

- A) 
- B) 
- C) 

11) Aşağıda verilen geometrik cisimlerden hangisinin yüzeyi **eğridir**?

- A) 
- B) 
- C) 

12)



Yandaki evin çatısı hangi **geometrik cisime** benzemektedir?

- A) Üçgen prizma
- B) Küre
- C) Dikdörtgen prizma

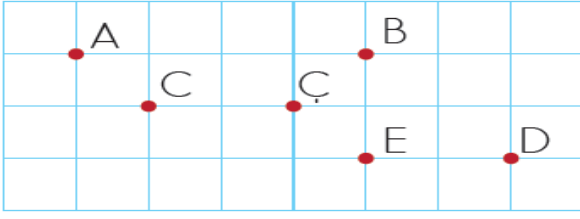
13)



Kırmızı araba **otele gidebilmek** için nasıl bir yol izlemelidir?

- A) Önce sola daha sonra sağa dönmeli
- B) Düz ilerleyerek sağa dönmeli
- C) Düz ilerleyip önce sağa, sonra sola dönmeli

Not: 14 ve 15. soruyu aşağıda verilen şekle göre cevaplayınız.



14) Yukarıda verilen kareli kâğıtta A noktasından, E noktasına gidebilmek için nasıl bir yol izlenmelidir?

- A) 2 birim aşağıya, 4 birim sola gitmeli
B) 4 birim sağa, 2 birim aşağıya gitmeli
C) 2 birim yukarıya, 4 birim sağa gitmeli

15) C noktasından 3 birim sağa, daha sonra 1 birim yukarıya gidersek hangi **harfe ulaşırız?**

- A) B B) E C) D

16) Aşağıdakilerden hangisi vitamin deposu olup vücudumuzun hastalıklara karşı dirençli olmasını sağlayan **kış meyvesidir?**



17) Aşağıdaki meyvelerden hangisini **yaz mevsiminde** tüketmek daha doğrudur?



18)



Yukarıda verilen kıyafetlerin kaç tanesini **yaz mevsiminde** giyebiliriz?

- A) 3 B) 5 C) 4

19)



Yaz gelince vücudumuzun su ihtiyacı artar. Karpuz, şeftali üzüm gibi meyveler yerim.




Soğuk algınlığına yakalanmamak için greyfurt, muz, portakal yerim.




Kış aylarında bizleri serinletecek karpuz, kavun ve üzüm yeriz.

Hangi çocuk mevsimine göre **yanlış** beslenmektedir?



20) Aşağıdaki kıyafetlerden hangisini **yaz mevsiminde** giymek daha doğrudur?



Cevap Anahtarı

1)C 2)B 3)A 4)B 5)A
6)C 7)B 8)C 9)A 10)C
11)B 12)A 13)C 14)B 15)A
16)B 17)B 18)C 19)C 20)A