






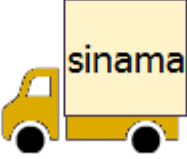

- 1)  Galiba kazanamıyorum ben bu oyunu.

Üstteki cümleyle ilgili aşağıdaki bilgilerden hangisi **yanlıştır**?

- A) On dört heceden oluşan bir cümledir.
B) Devrik bir cümledir.
C) Olumlu bir cümledir.
D) Beş kelimedenden oluşan bir cümledir.

- 2) Aşağıdaki cümlelerden hangisinde altı çizili sözcük **farklı** bir anlamda kullanılmıştır?

- A) Söylediği sözler cesaretimi kırdı.
B) Beni unutması kalbimi kırdı.
C) Çocuğun vurduğu top camı kırdı.
D) Yağan kar soğukları kırdı.

- 3)  1.  2.  3.
 4.  5.  6.

Yukarıdaki **kamyonetlerden** hangileri, doğru yazılmış kelimeleri taşımaktadırlar?

- A) 2. ve 5. B) 3. ve 4.
C) 1. ve 6. D) 4. ve 1.

- 4) Aşağıdaki deyimlerden hangisi "**yarışmak**" anlamına gelir?

- A) boy ölçüşmek B) dört dönmek
C) nefesi kesilmek D) rengi atmak

- 5)



Sözlük sırasına göre **2. sırada** olan kelimenin yazılı olduğu kulübe, köpeğin kulübesidir. Buna göre köpeğin kulübesinde hangi kelime yazmaktadır?

- A) odak B) uyku
C) uyum D) oda

- 6) Aşağıdaki cümlelerin hangisinde noktalama işareti **yanlış** kullanılmıştır?

- A) Hayır, yalan söylüyorsun!
B) Eve geldi, yemeğini yedi.
C) Hatalarının farkında mısın?
D) Takımımız 2.nci sırada bulunuyor.

- 7) Aşağıdaki cümlelerin hangisinde "**ki**" eki **doğru** yazılmıştır?

- A) Anladımki yalnızlık güzel değil.
B) Benim resmim onunkinden güzel.
C) Babam köyde ki arsayı satmış.
D) Yavaş gitki kaza olmasın.

- 8)




Yukarıdaki **rakamları** birer kez kullanarak yazılabilecek, dört basamaklı en **küçük** ve üç basamaklı en **büyük** sayıların toplamı kaçtır?


- A) 9270 B) 6820
C) 4780 D) 2890

- 9) $5000 - 1650 < A$
Yukarıdaki sıralamada **A** yerine yazılabilecek **en küçük** sayı kaçtır?

A) 3349 B) 3350
C) 3351 D) 3360

- 10)  Her bir taksiti **95** lira olacak şekilde **24** taksitle aldığım **kulaklığın** **7** taksitini ödedim.
Kulaklık için kaç lira daha ödeyeceğim?

A) 2185 lira B) 1615 lira
C) 1805 lira D) 1235 lira

- 11)  **6 kişi**, eşit para katarak, sınıf arkadaşları için **552** liralık hediye aldılar.
Buna göre **2 kişi** kaç lira ödemiştir?



A) 92 lira B) 276 lira
C) 368 lira D) 184 lira


- 12) $11 \times 6 \neq 105 - 38$
Yukarıdaki eşitsizliğin eşit hale gelmesi için aşağıdakilerden hangisi **yapılmalıdır**?

A) 38 yerine 39 yazılmalıdır.
B) 105 yerine 107 yazılmalıdır.
C) 6 yerine 7 yazılmalıdır.
D) 11 yerine 12 yazılmalıdır.

- 13) 
Yukarıda **modelle** gösterilen kesrin okunuşu **hangisidir**?

A) Sekizde on beş B) İki tam sekizde dört
C) Onda dört D) Üç tam dörtte sekiz

- 14)  kağıt  süt

 hava

Yukarıdaki maddelerin doğada buldukları **halleri** hangi seçenekte doğru verilmiştir?

  
A) sıvı - gaz - katı
B) gaz - katı - sıvı
C) katı - sıvı - gaz
D) katı - gaz - sıvı

- 15) Maddenin halleri ile ilgili aşağıdakilerden hangisi **yanlıştır**?

A) Gazlar bulunduğu ortama yayılırlar.
B) Zeytinyağı sıvı bir maddedir.
C) Su buharı, suyun gaz halidir.
D) Sıvıların belirli bir şekli vardır.

- 16) elektrik akımının ses titreşimlerinin etkisiyle **değiştiğini** keşfetti. Bu keşiften yola çıkarak **1876**'da sesin teller aracılığıyla iletilmesini sağlayan **telefonu** icat etti.

Yukarıdaki **noktalı alana** yazılması gereken **mucit** hangisidir?

A) A. Graham Bell B) Thomas Edison
C) Samuel Morse D) Wright Kardeşler

- 17) **Teknoloji** ile ilgili aşağıdaki ifadelerden hangisi **yanlıştır**?

A) Teknoloji zamandan tasarruf ettirebilir.
B) Teknolojik ürünlerin hiçbir zararı yoktur.
C) Teknoloji insan hayatını kolaylaştırır.
D) Teknolojinin çevreye zararı olabilir.

CEVAP ANAHTARI

- | | |
|------|-------|
| 1) C | 10) B |
| 2) C | 11) D |
| 3) B | 12) A |
| 4) A | 13) B |
| 5) A | 14) C |
| 6) D | 15) D |
| 7) B | 16) A |
| 8) D | 17) B |
| 9) C | |