

3. SINIF YARIYIL TATİLİ TEKRAR ETKİNLİKLERİ



10 GÜN
10 SAYFA



23 Ocak 2023 - Pazartesi

TÜRKÇE



Alfabetik sıraya göre eksik harfleri ok yönünde yazalım.

→	A	B			D			G	
H				K					Ö
	R					Ü			

Verilen sözcükleri sözlük sırasına göre dizelim.

sal - bal - dal :

sıcak - serin - soğuk :

sevgi - saygı - sadakat :

gemi - gazi - güz :

güzel - gazoz - gofret :

gurur - gazete - gazi :

MATEMATİK

Sayıları okunuşları ile eşleştirelim.

402	iki yüz dört
420	dört yüz iki
240	dört yüz yirmi iki
204	dört yüz yirmi
422	iki yüz kırk
442	iki yüz kırk dört
244	dört yüz kırk iki

İstenen sayıları yazalım.

Üç basamaklı en küçük sayı:

Üç basamaklı en büyük sayı:

Üç basamaklı en küçük tek sayı:

Üç basamaklı en büyük çift sayı:

Üç basamaklı en küçük çift sayı:

Üç basamaklı en büyük tek sayı:



HAYAT BİLGİSİ

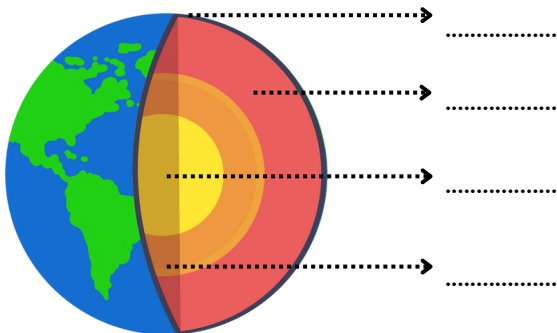
Verilen ifadelerden doğru olanların başına "D" yanlış olanların başına "Y" yazalım.

- () Her insanın hoşlandığı şey farklı olabilir.
- () Güçlü yönlerimiz bizi günlük hayatta ön plana çıkarmaz.
- () Güçlendirmek istediğimiz yönlerimizi planlı ve düzenli çalışarak geliştirebiliriz.
- () Yaptığımız olumlu veya olumsuz davranışlar yaşadığımız çevreyi etkilemez.
- () Olumlu davranışlarda bulunan insanlar çevreleri ile daha rahat ve kolay iletişim kurarlar.
- () Yerlere çöp atmak, çevreyi kirletmek, kavga etmek gibi davranışlar olumlu davranışlardır.



FEN BİLİMLERİ

Okların gösterdiği yerlere dünyamızın katmanlarını yazalım.



Verilen soruları cevaplayalım.

Hava katmanının diğer adı nedir? ---->

Dünyamızın şekli neye benzer? ---->

Üzerinde yaşadığımız katmanın adı nedir?---->

Denizlerin bulunduğu katman nedir? ---->




24 Ocak 2023 - Salı

TÜRKÇE

Verilen sözcüklerini hecelerine doğru biçimde, aralarına kısa çizgi koyarak ayıralım.

bilgisayar :
internet :
Atatürk :
cumhuriyet :
istiklal :

Keloğlan :
huzurevi :
kardanadam :
trafik :
ilköğretim :



Verilen heceleri birleştirerek anlamlı kelimeler oluşturalım.

be - fa - al :
pu - av - ru :
a - let - da :

dar - hü - küm :
yet - mi - ha - ki :
yon - te - viz - le :

MATEMATİK

Verilen sayıların basamak değerlerini yazalım.

2 4 6
┌───┐
├───┤
└───┘

9 0 8
┌───┐
├───┤
└───┘

5 2 0
┌───┐
├───┤
└───┘

3 7 4
┌───┐
├───┤
└───┘

6 0 2
┌───┐
├───┤
└───┘



Çözümlenmiş doğal sayıları yazalım.

1 yüzlük + 3 onluk + 5 birlik =

9 yüzlük + 9 onluk + 0 birlik =

2 onluk + 0 birlik + 8 yüzlük =

3 onluk + 0 birlik + 5 yüzlük =

6 yüzlük + 9 birlik + 0 onluk =

7 yüzlük + 3 birlik + 5 onluk =

HAYAT BİLGİSİ

Verilen ifadelerde boş bırakılan yerlere uygun kelimeleri yandaki tablodan bularak yazalım.

- Sabahları öğretmenimize ve arkadaşlarımıza demeliyiz.
- Yanlış davranışta bulunan arkadaşımızı
- Hatalı bir davranışta arkadaşımızdan
- Arkadaşlarımızın araç gereçlerini kullanmamalıyız.
- Sınıfta, okulda, toplumda kısacası her yerde uymalıyız.

- kurallara
- günaydın
- izinsiz
- uyarmalıyız
- özür dilemeliyiz

FEN BİLİMLERİ

Verilen ifadelerden doğru olanların başına "D" yanlış olanların başına "Y" yazalım.

- () Yağmur, kar, sis gibi olaylar hava katmanında gerçekleşir.
- () İnsanlar nefes alırken kullandıkları oksijeni kara katmanından sağlarlar.
- () Toprak ve suda da hava vardır.
- () Dünyanın büyük çoğunluğu karalarla kaplıdır.
- () Üzerinde yaşadığımız katman kara katmanıdır.
- () Dünyanın dış katmanlarından biri de mantodur.



25 Ocak 2023 - Çarşamba

TÜRKÇE

Verilen sözcüklerin zıt anlamlarını karşılarına yazalım.

kısa : bayat :
yaşlı : ıslak :
zengin : zarar :
gündüz : basit :
sığ : yaramaz :

Verilen sözcüklerin eş anlamlarını karşılarına yazalım.

ev : öğrenci :
okul : sonbahar :
anı : cevap :
misafir : uzak :
kolay : kuvvet :

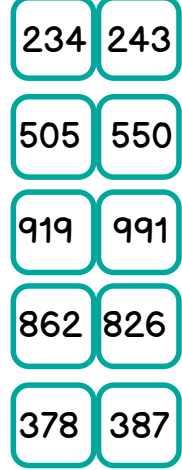


MATEMATİK

Verilen sayıları küçükten büyüğe sembol kullanarak sıralayalım.

234, 428, 354, 165 =
505, 698, 444, 689 =
417, 714, 471, 741 =
165, 158, 149, 166 =
101, 999, 100, 998 =

Sayı çiftlerinden büyük olanın yazılı olduğu kutuyu boyayalım.

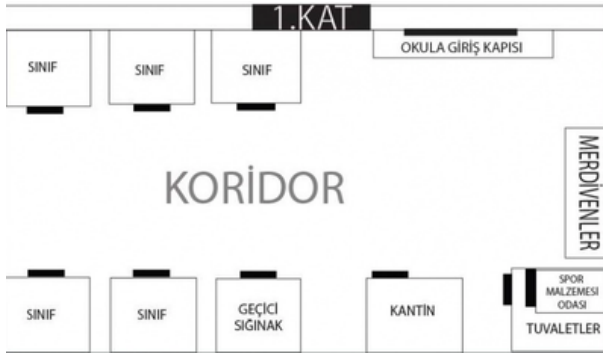


Verilen sayıları büyükten küçüğe sembol kullanarak sıralayalım.

369, 378, 385, 379 =
770, 680, 230, 550 =
882, 895, 854, 861 =
165, 615, 516, 156 =
582, 351, 131, 392 =



HAYAT BİLGİSİ




Krokiye göre boşlukları dolduralım.

- Krokiye göre tane sınıf gözükmektedir.
- Geçici sığınağın karşısında vardır.
- Kantinin karşısında vardır.
- Merdivenlerin hemen yanında vardır.
- Kantin ve sınıfın arasında vardır.
- Kroki okulun kat krokisidir.

FEN BİLİMLERİ

Öğrencilerin gösterdikleri duyu organlarını alta yazalım.



Duyu organlarının görevlerinin hangi duyu organı ile ilgili olduğunu karşısına yazalım.

Tat alma -->
İşitme -->
Koklama -->
Hissetme -->
Görme -->



26 Ocak 2023 - Perşembe

TÜRKÇE



Karışık olarak verilen sözcükler ile anlamlı ve kurallı cümleler oluşturalım.

ekranı - için - kırıldığı - Burcu - telefonunun - üzgündü - çok

okulda - tarafından - bir - Kemal - çocuğu - arkadaşları - sevilen

oynanmış - kazanan - bizim - beklenen - maç - büyük - ve - olmuştu - takım

uçtu - muhabbet - özgürlüğe - kapısını - açan - kafesin - kuşu

planlıyoruz - gitmeyi - Bodrum'a - tatilinde - yaz

MATEMATİK

Aşağıda verilen sayıları
romen rakamları ile yazalım.

11 -->

5 -->

15 -->

14 -->

20 -->

9 -->

13 -->

3 -->

7 -->

8 -->

12 -->

2 -->

6 -->

4 -->

17 -->

1 -->

19 -->

16 -->



Aşağıda verilen Romen rakamlarının
karşılığı olan sayıları yazalım.

VI -->

XIV -->

IV -->

XX -->

XVII -->

IX -->

II -->

XIII -->

III -->

XV -->

VIII -->

XI -->

VII -->

XIX -->

V -->

XII -->

I -->

XVI -->

HAYAT BİLGİSİ

Aşağıdaki boşluğa, okulunuzda olmasını, bulunmasını istediğiniz bir şey için okul idarenize kurallara uygun bir dilekçe yazınız.



.....

.....

.....

.....

.....

FEN BİLİMLERİ

Boşlukları tablodaki uygun hareket türleri ile dolduralım.

- Durağa yaklaşan bir otobüs hareketi yapar.
- Duvardaki guguklu saatin sarkacı hareketi yapar.
- Lunaparktaki atlı karınca hareketi yapar.
- Pistten havalanmaya başlayan bir uçak hareketi yapar.
- Tenis oyuncusunun gelen topa vurması hareketine örnektir.



*dönme

*hızlanma

*yön değiştirme


*yavaşlama

*sallanma



27 Ocak 2023 - Cuma

TÜRKÇE



Metinde ● ile gösterilen yerleri uygun noktalama işaretleri ile dolduralım.

TOPKAPI SARAYI

Bahar gelmişti. Havalarda yavaş yavaş ısınmaya başlamıştı. Derslerin de sonlarına yaklaşmıştık. Bir gün öğretmenimiz bize müjde verdi.

İki gün sonra sınıfı İstanbul'a Topkapı Sarayına geziye gidecektik. Hepimiz havalara uçtuk. İki gün nasıl geçecekti. Hepimiz bahçede toplandık. Öğretmenimiz gezide nelere dikkat etmemiz gerektiğini anlattı. Gezi sırasında sorun yaşatmayacağımıza dair öğretmenimize söz verdik. Otobüs Topkapı Sarayına yaklaştığında hepimiz sevinç çığlıkları attık. Defalarca gezdiği için rehberliğimizi öğretmenimiz yapacaktı.

MATEMATİK

Aşağıda verilen toplama işlemlerini yapalım.


$$\begin{array}{r} 216 \\ +413 \\ \hline \end{array} \quad \begin{array}{r} 375 \\ +256 \\ \hline \end{array} \quad \begin{array}{r} 428 \\ +392 \\ \hline \end{array} \quad \begin{array}{r} 515 \\ +375 \\ \hline \end{array} \quad \begin{array}{r} 694 \\ +299 \\ \hline \end{array} \quad \begin{array}{r} 702 \\ +198 \\ \hline \end{array} \quad \begin{array}{r} 873 \\ +117 \\ \hline \end{array} \quad \begin{array}{r} 529 \\ +378 \\ \hline \end{array}$$

Aşağıda verilen çıkarma işlemlerini yapalım.

$$\begin{array}{r} 852 \\ -341 \\ \hline \end{array} \quad \begin{array}{r} 925 \\ -207 \\ \hline \end{array} \quad \begin{array}{r} 704 \\ -415 \\ \hline \end{array} \quad \begin{array}{r} 630 \\ -288 \\ \hline \end{array} \quad \begin{array}{r} 581 \\ -372 \\ \hline \end{array} \quad \begin{array}{r} 401 \\ -175 \\ \hline \end{array} \quad \begin{array}{r} 321 \\ -134 \\ \hline \end{array} \quad \begin{array}{r} 700 \\ -250 \\ \hline \end{array}$$

HAYAT BİLGİSİ

Görselleri verilen meslekleri altlarına yazalım.



FEN BİLİMLERİ

Görselleri verilen kuvvet türlerini altlarına yazalım. (itme-çekme)



30 Ocak 2023 - Pazartesi

TÜRKÇE

Aşağıda nedenleri verilmiş cümleleri uygun sonuçlar ile tamamlayalım.

- Uyuya kaldığı için
- Yağmur yağdığı için
- Ödevlerini yapmadığı için
- Karnı ağrıdığı için



Aşağıda sonuçları verilmiş cümleleri uygun nedenler ile tamamlayalım.

- yarışmayı kazandım.
- gözleri çok ağrıdı.
- çok terledi.
- okulun bahçesine çıkamadık.

MATEMATİK

Aşağıdaki problemleri çözelim.

Bir sinema salonunda 148 kadın, kadınlardan 42 fazla erkek seyirci vardır. Salonda toplam kaç seyirci vardır?

Bir fırında 1. gün 235 poğaçaya, 2. gün birinci günden 125 fazla poğaçaya satılmıştır. İki günde toplam kaç poğaçaya satılmıştır?

Üç basamaklı en büyük çift doğal sayı ile iki basamaklı en küçük tek doğal sayının farkı kaçtır?

Bir ormana dikilen 712 ağaçtan, önce 278 çam, sonra da 109 kavak ağacı kurudu. Ormanda kaç ağaç kaldı?


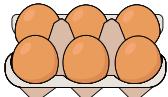

HAYAT BİLGİSİ

Aşağıdaki görsellerden hangileri geçmişte büyüklerimizin zamanında oynadığı oyunlardan, oyuncaklardan veya kullandığı eşyalardandır, işaretleyelim.



FEN BİLİMLERİ

Maddelerin adlarını özelliklerine göre ilgili kutulara yazalım.



optimistogretmen

Sert

Yumuşak

Esnek

Kırılgan

31 Ocak 2023 - Salı

TÜRKÇE

Yan tarafta verilen görselleri kullanarak kısa bir hikaye yazalım.

.....

.....

.....


.....

.....

.....

.....

.....



MATEMATİK

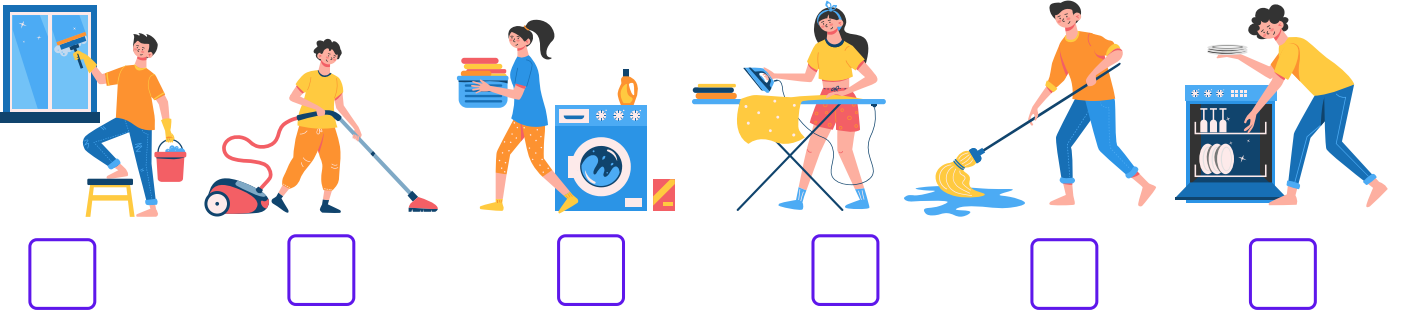
Grafiğe göre soruları cevaplayalım.



1. En çok kitap okuyan öğrenci kimdir?
2. En az kitap okuyan öğrenci kimdir?
3. Beş öğrenci toplam kaç kitap okumuştur?
4. Yağmur, Tolga'dan kaç fazla kitap okumuştur?
5. Kutay'ın okuduğu kitap sayısının Beril ile eşit olması için Kutay'ın kaç kitap daha okuması gerekir?
6. Masal'ın okuduğu kitap sayısı, hangi iki arkadaşın okuduğu kitap sayılarının toplamı kadardır?
7. Bu beş arkadaşın okudukları toplam kitap sayısının 100 olması için kaç kitap daha okumaları gerekir?

HAYAT BİLGİSİ

Aşağıda verilen görev ve sorumlulardan hangileri bizler tarafından yapılabilir, işaretleyelim.



FEN BİLİMLERİ

Maddelerin adlarını hallerine göre ilgili kutucuklara yazalım.



Katı

-
-
-

Sıvı

-
-
-

Gaz


-
-
-

optimistogretmen

1 Şubat 2023 - Çarşamba

TÜRKÇE

Görsellerin bizlere çağrıştırdığı dört adet sözcük yazalım.



MATEMATİK

Verilen çarpma işlemlerini dikkatlice yapalım.



$$\begin{array}{r} 28 \\ \times 3 \\ \hline \end{array}$$

$$\begin{array}{r} 192 \\ \times 5 \\ \hline \end{array}$$

$$\begin{array}{r} 16 \\ \times 24 \\ \hline \end{array}$$

$$\begin{array}{r} 38 \\ \times 15 \\ \hline \end{array}$$

$$\begin{array}{r} 40 \\ \times 23 \\ \hline \end{array}$$

$$\begin{array}{r} 56 \\ \times 16 \\ \hline \end{array}$$

$$\begin{array}{r} 18 \\ \times 45 \\ \hline \end{array}$$

HAYAT BİLGİSİ

Aşağıdaki görsellerin adlarını ilgili kutulara yazalım.



İSTEK



İHTİYAÇ



FEN BİLİMLERİ

Verilen ifadelerden doğru olanların başına "D" yanlış olanların başına "Y" yazalım.

- () Katı maddelerin belirli bir şekli vardır.
- () Sıvı maddeler konuldukları kabın şeklini alır.
- () Gazların belirli bir şekli vardır.
- () Katı maddeler yeterli kuvvet uygulanırsa şekil değiştirebilir.
- () Buz suyun katı haline, buhar ise gaz haline örnektir.



2 Şubat 2023 - Perşembe

TÜRKÇE

Verilen eş sesli kelimeleri, farklı anlamları ile cümle içinde kullanalım.

gül:

kaz:

gül:

kaz:

dal:

düş:

dal:

düş:

yaz:

bağ:

yaz:

bağ:

bin:

diz:

bin:

diz:

MATEMATİK

Verilen bölme işlemlerini dikkatlice yapalım.

$$\begin{array}{r} 54 \quad | \quad 9 \\ \hline \end{array}$$

Bölünen:
Bölen:
Bölüm:
Kalan:

$$\begin{array}{r} 58 \quad | \quad 3 \\ \hline \end{array}$$

Bölünen:
Bölen:
Bölüm:
Kalan:

$$\begin{array}{r} 26 \quad | \quad 5 \\ \hline \end{array}$$

Bölünen:
Bölen:
Bölüm:
Kalan:

$$\begin{array}{r} 67 \quad | \quad 6 \\ \hline \end{array}$$

Bölünen:
Bölen:
Bölüm:
Kalan:

$$\begin{array}{r} 79 \quad | \quad 4 \\ \hline \end{array}$$

Bölünen:
Bölen:
Bölüm:
Kalan:

$$\begin{array}{r} 61 \quad | \quad 5 \\ \hline \end{array}$$

Bölünen:
Bölen:
Bölüm:
Kalan:

$$\begin{array}{r} 43 \quad | \quad 4 \\ \hline \end{array}$$






Bölünen:
Bölen:
Bölüm:
Kalan:

$$\begin{array}{r} 86 \quad | \quad 7 \\ \hline \end{array}$$

Bölünen:
Bölen:
Bölüm:
Kalan:

HAYAT BİLGİSİ



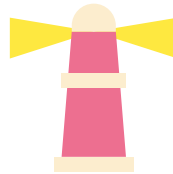
Aşağıdaki meyve-sebzeleri mevsimlerine göre ilgili kutulara yazalım.



İlkbahar	Yaz
Sonbahar	Kış

FEN BİLİMLERİ

Işık kaynaklarının altlarına doğal ya da yapay olarak yazalım.



3 Şubat 2023 - Cuma

Bugün bir hikaye kitabı okumanı ve aşağıdaki hikaye unsurlarını okuduğun kitaba göre doldurmanı istiyorum.

KİTAP ÖZETİM

Kitabın Adı: _____
Yazarı : _____

Kitap için
Yıldızlarım: ☆☆☆☆☆

Kahramanlar

.....
.....

Yer

.....
.....

Zaman

.....
.....

Özet (Olay)

.....
.....
.....
.....
.....
.....
.....
.....
.....
.....
.....
.....
.....
.....
.....
.....
.....
.....
.....
.....
.....

