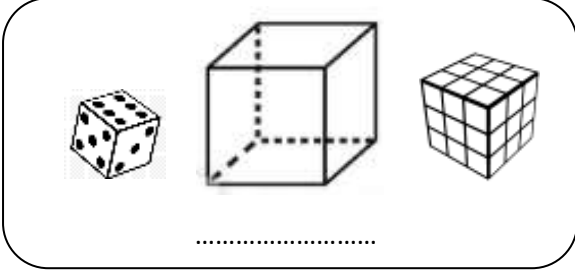
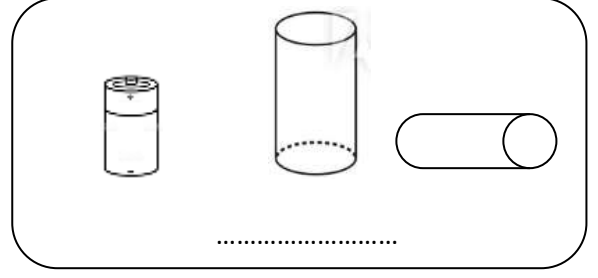


GEOMETRİK CİSİMLER

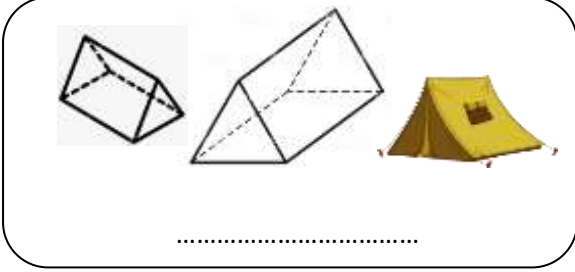
1.Etkinlik: Aşağıda verilen geometrik cisimlerin isimlerini yazınız. Cümlelerde boş bırakılan yerleri uygun şekilde doldurunuz.



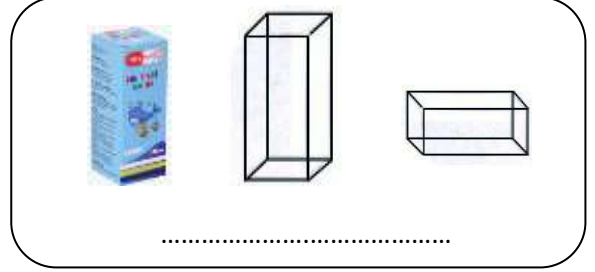
..... tane yüzü vardır. Yüzlerin hepsi dedir. tane köşesi vardır.



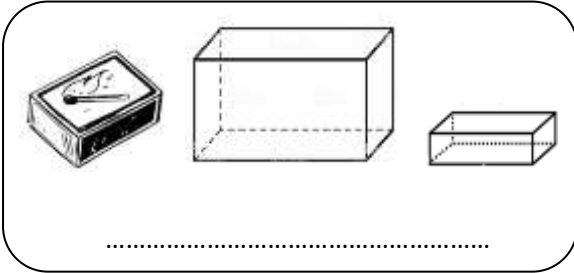
..... tane yüzü vardır. Yüzlerin 2 tanesi , tanesi dikdörtgendir. yoktur.



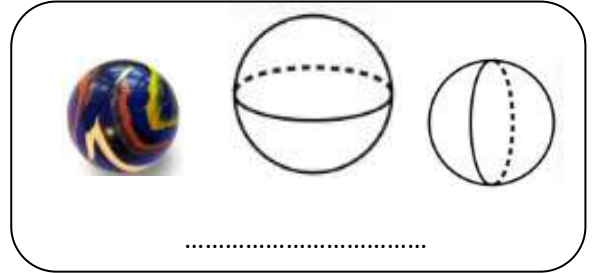
..... tane yüzü vardır. Yüzlerin 2 tanesi , tanesi dikdörtgendir. tane köşesi vardır.



..... tane yüzü vardır. Yüzlerin 2 tanesi , tanesi dikdörtgendir. tane köşesi vardır.



..... tane yüzü vardır. Yüzlerin hepsidir. tane köşesi vardır.



..... tane yüzü vardır. yoktur.

