

1) Aşağıdaki verilenlerden hangisi yanlıştır?

- A) Temizlik kurallarına uymak sadece bizim görevimizdir.
- B) Hastane, okul, park gibi yerler ortak kullanım alanlarıdır.
- C) Çöpler her zaman çöp kutusuna atılmalıdır.

2) Ortak kullanım alanlarında temizliğe dikkat edilmediği zaman aşağıdaki sorunlardan hangisi yaşanabilir?

- A) Toplum sağlığı korunmuş olur.
- B) Çevremiz çok temiz ve sağlıklı olur.
- C) Mikroplar yayılıp insanlara bulaşır.

- 3) Tuvaleti kullandıktan sonra eller yıkanmalıdır.
 Kullanılan peçeteler lavaboda bırakılmalıdır.
 Kapalı alanlarda koşmamalıyız.

Yukarıdaki ifadeler doğru-yanlış diye sıralanırsa görünüm nasıl olur?

- A)


D
Y
Y

 B)

D
Y
D

 C)




D
D
Y

4)  Tuvaletleri temiz.....veolarak bırakmalıyız.
Merve

Merve'nin cümlesindeki boş alanlara aşağıdakilerden hangisi yazılmalıdır?

- A) bırakmalı-pis
- B) kullanmalı-temiz
- C) kullanmamalı-çevre

5) Aşağıdaki öğrencilerden hangisinin söylediği yanlıştır?

- A)  Dışarıda kullandığımız giysileri evde de giyebiliriz.
- B)  Ortak kullanılan alanların temizliği hepimiz için önemlidir.
- C)  Dışarıdan gelince el ve vücut temizliği yapmalıyız.

6) Tuvaleti kullandıktan sonra aşağıdakilerden hangisini yapmak sağlığımız için önemlidir?

- A) Kapıyı kapatmak
- B) Ellerimizi yıkamak
- C) Musluğu kapatmak

- 7) 1. Spor salonu
2. Oyun parkları
3. Sınıf
4. Kütüphane
5. Hastane

Yukarıda verilen yerlerden kaç tanesi ortak kullanılan alanlardandır?

- A) 3 B) 4 C) 5

- 8) Aşağıdakilerden hangisi yaşadığımız çevreyi temiz tutmak için yapmamız gerekenlerden birisi değildir?

- A) Ormanları korumak
B) Denizleri kirletmek
C) Yerlere çöp atmamak

- 9) Aşağıdaki yerlerden hangisi ortak kullanılan yerlerden değildir?

- A) Spor salonu B) Piknik alanları
C) Çalışma odamız

- 10) 1. Ellerinizi sabunla iyice köpürtün.
2. Ellerinizi 20 saniye boyunca ovalayın.
3. Ellerinizi su ile ıslatın.
4. Ellerinizi iyice durulayın.

Ellerimizin yıkanması ile ilgili verilenlerin oluş sırası nasıl olmalıdır?

- A) 3-1-2-4 B) 1-3-2-4 C) 4-2-1-3

- 11) Aşağıdakilerden hangisi mikropların en çok bulunduğu ve çoğaldığı yerlerden değildir?

- A) Kirli sular
B) Kapalı ortamlar
C) Ev

- 12) Okulda yapılan aşağıdaki davranışlardan hangisi toplum sağlığına zarar verir?

- A) Sıraları düzeltmek
B) Yere çöp atmak
C) Bahçede oynamak

- 13) Hapşırırken veya öksürürken ağızımızı mendil ile kapatmamızın sebebi aşağıdakilerden hangisi değildir?

- A) Çevremizdekilere mikrop bulaştırmamak
B) Mikrobun yayılmasını önlemek
C) Ses çıkmasını önlemek

- 14) Aşağıdakilerden hangisi mikrobun en çok olduğu yerlerdendir?

- A) tuvaletler
B) çantamız
C) sıramız

- 15) Çevre temizliği neden önemlidir?

- A) Sağlığımız için
B) Büyüklerimiz istediği için
C) Ailemiz istediği için