

Adı Soyadı:

Not:

3. SINIF

18. HAFTA KAZANIM DEĞERLENDİRME

FUNDA VE AİLESİ

Funda'nın annesi hemşire, babası ise çocuk doktoruydu. Funda okuldan çıkınca babaannesinin yanına gider anne ve babasının işten gelmesini beklerdi. Funda bazen hastaneye anne ve babasını ziyarete giderdi.

Hastanede birçok hasta vardı. Funda onları görünce çok üzülürdü. Bu yüzden Funda büyüyünce doktor olmak istiyordu. Çünkü başkalarına yardım etmeyi çok seviyordu.



1, 2 ve 3. sorular metne göre cevaplandırılacaktır.

1. Aşağıdakilerden hangisi Funda'nın okuldan çıktuktan sonra gittiği yerlerden biri değildir?

- A) Babaannesinin yanı
- B) Hastane
- C) Oyun parkı

2. Funda'nın üzüntüsünün sebebi nedir?

- A) Ailesi ile uzun süre görüşmemesi
- B) Hastanedeki hastalar
- C) İnsanların yardıma muhtaç olması

3. Funda büyüyünce ne olmak istiyormuş?

- A) Doktor
- B) Hemşire
- C) Eczacı

4. "Derslerine çalışmadığı için" cümlesinin sonuna hangisi getirilirse cümle anlamsız olur?

- A) sınavda başarısız oldu.
- B) öğretmeni tarafından ödüllendirildi.
- C) arkadaşlarından geri kaldı.

5. Aşağıdaki cümlelerin hangisinde büyük harflerin yazımı ile ilgili bir yanlışlık yapılmıştır?

- A) Ayşe teyze çok güzel kek yapar.
- B) Yazın Van Gölü'ne gideceğiz.
- C) Aylin İngilizce dersini çok seviyordu.

6. Aşağıda verilen 10 ile kısa yoldan bölme işlemlerinden yanlış olan hangisidir?

- A) $550 \div 10 = 50$
- B) $80 \div 10 = 8$
- C) $10 \div 10 = 1$

7. Aşağıdaki bölme işlemlerinden hangisinin kalanı en büyüktür?

A) $85 \overline{) 6}$ B) $73 \overline{) 5}$ C) $62 \overline{) 6}$

8. Yandaki bölme işlemine göre kalanın alabileceği en büyük değer kaç olabilir?

- A) 1
- B) 4
- C) 7

$$\begin{array}{r} \dots \overline{) 8} \\ \underline{} \\ ? \end{array}$$

9. Yandaki bölme işleminde bölünen kaçtır?

- A) 80
- B) 82
- C) 84

$$\begin{array}{r} ? \overline{) 4} \\ \underline{} \\ 20 \end{array}$$

10. Kalanlı bir bölme işleminde bölen 5, bölüm 12 olduğuna göre bölünen en çok kaç olabilir?

- A) 66
- B) 65
- C) 64



11. Evimizin dışında kalan, diğer tüm insanlarla birlikte kullandığımız alanlara ne ad verilir?


- A) Ortak kullanım alanları
- B) Güvenli alanlar
- C) Oyun alanları



12. Aşağıdaki davranışlardan hangisi yanlıştır?

- A) Hapşırırken ağızımızı kapatmalıyız.
- B) Okuldaki tuvaletleri temiz bırakmalıyız.
- C) Kirli suları sokağa caddeye dökmeliyiz.


13. Görsellerdeki hangi davranış yanlıştır?



14. "Bulaşıcı hastalıklarda takmak çevremizdeki insanlara karşı bir sorumluluktur." cümlesinde boş bırakılan yere hangisi gelmelidir?

- A) gözlük
- B) maske
- C) ilaç

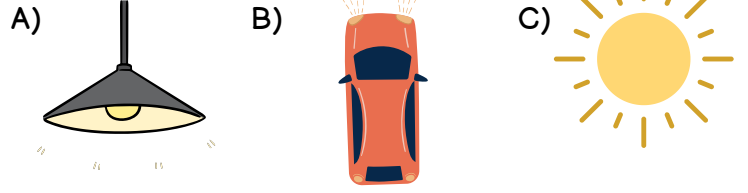
15. Aşağıdaki öğrencilerden hangisi ortak kullanım alanlarında temizlik ve hijyene önem vermektedir?



16. Işık yayarak çevresini aydınlatan ve görmemizi sağlayan varlıklara ne ad verilir?

- A) parlak cisimler
- B) aydınlık
- C) ışık kaynağı

17. Aşağıdaki ışık kaynaklarından hangisi doğal ışık kaynağıdır?



18. İnsanlar tarafından üretilmiş ışık kaynaklarına ne ad verilir?

- A) Yapay ışık kaynakları
- B) Doğal ışık kaynakları
- C) Canlı ışık kaynakları

19. Ampul yapay bir ışık kaynağıdır. Buna göre aşağıdaki varlıklardan hangisi bu yönüyle ampule benzer?

- A) güneş
- B) el feneri
- C) yıldız



20. Yukarıda görselleri verilen varlıklardan kaç tanesi ışık kaynağıdır?

- A) 3
- B) 4
- C) 5

CEVAPLAR

- 1 A B C
- 2 A B C
- 3 A B C
- 4 A B C
- 5 A B C
- 6 A B C
- 7 A B C
- 8 A B C
- 9 A B C
- 10 A B C

- 11 A B C
- 12 A B C
- 13 A B C
- 14 A B C
- 15 A B C
- 16 A B C
- 17 A B C
- 18 A B C
- 19 A B C
- 20 A B C



18. HAFTA
KAZANIM
DEĞERLENDİRME
CEVAP ANAHTARI

1.	C	11.	A
2.	B	12.	C
3.	A	13.	A
4.	B	14.	B
5.	C	15.	B
6.	A	16.	C
7.	B	17.	C
8.	C	18.	A
9.	B	19.	B
10.	C	20.	C