

ADI SOYADI:.....



DOĞRU
YANLIŞ

2. SINIF 18. HAFTA KAZANIM DEĞERLENDİRME ETKİNLİĞİ

1. Aşağıdaki sözcüklerden hangisi tek heceli değildir?

- A) sert B) kurt C) ara

YORGAN GİTTİ,
KAVGA BİTTİ.

Yukarıdaki Nasrettin Hoca'nın cümlesi kaç heceden oluşmuştur?

- A) 4
B) 8
C) 12



3. Aşağıdaki sözcüklerden hangisi ünsüz bir harfle başlayıp ünlü bir harfle bitmiştir?

- A) para B) alışveriş C) toplam

4. "Sağlıklı olmak dengeli ve düzenli beslenmeli, spor yapmalıyız." cümlesinde boşluğa hangi sözcük gelmelidir?




- A) çünkü B) için C) fakat

5. **eylence** **tiren** **spor** **plan**
soğan **üçgen** **şöför** **kiprik**

Yukarıdaki sözcüklerden kaç tanesi yanlış yazılmıştır?

- A) 2 B) 3 C) 4

6. Aşağıdaki cisimlerden hangisi küreye benzer ?

- A)  B)  C) 

7. Yan tarafta verilmiş olan görsel hangi geometrik cisme örnek olarak verilebilir?

- A) Silindir
B) Küp
C) Üçgen prizma



8. Tüm yüzeyleri dikdörtgen olan geometrik cisme ne ad verilir?

- A) küp B) küre C) dikdörtgen prizma


9. Yanda görseli verilen varlık hangi geometrik cisme örnektir?

- A) küre
B) silindir
C) küp



10. Yandaki görsel, hangi geometrik cisme örnektir?

- A) silindir
B) kare prizma
C) üçgen prizma



11. Aşağıdakilerden hangisi bir yaz meyvesidir?

- A)  B)  C) 

12. Verilen ifadelerden doğru olan hangisidir?

- A) Mevsimi dışında tüketilen meyve ve sebzeler daha lezzetlidir.
B) Tarım ilaçları sağlığımız için zararsızdır.
C) Mevsimine uygun meyve sebzeleri tüketmeliyiz.

13. Hangi seçenekteki sebze yaz mevsiminde tüketilmelidir?

- A)  B)  C) 

14. Aşağıdaki ifadelerden yanlış olan hangisidir?

- A) Üzüm bir yaz meyvesidir.
B) Şeftali bir kış meyvesidir.
C) Bal kabağı bir kış meyvesidir.

15. Turp, hangi mevsim tüketmemiz gereken bir sebzedir?

- A) yaz
B) kış
C) ilkbahar



2. SINIF 18. HAFTA KAZANIM DEĞERLENDİRME ETKİNLİĞİ

CEVAP ANAHTARI

1. Aşağıdaki sözcüklerden hangisi tek heceli değildir?

- A) sert B) kurt ara

YORGAN GİTTİ,
KAVGA BİTTİ.

2. Yukarıdaki Nasrettin Hoca'nın cümlesi kaç heceden oluşmuştur?

A) 4

8

C) 12

3. Aşağıdaki sözcüklerden hangisi ünsüz bir harfle başlayıp ünlü bir harfle bitmiştir?

- para B) alışveriş C) toplam

4. "Sağlıklı olmak dengeli ve düzenli beslenmeli, spor yapmalıyız." cümlesinde boşluğa hangi sözcük gelmelidir?




- A) çünkü için C) fakat

5. **eylence** **tiren** **spor** **plan**
soğan **üçgen** **şöför** **kiprik**

Yukarıdaki sözcüklerden kaç tanesi yanlış yazılmıştır?

- A) 2 B) 3 4

6. Aşağıdaki cisimlerden hangisi küreye benzer ?

-  B)  C) 

7. Yan tarafta verilmiş olan görsel hangi geometrik cisme örnek olarak verilebilir?

- A) Silindir
 Küp
C) Üçgen prizma



8. Tüm yüzeyleri dikdörtgen olan geometrik cisme ne ad verilir?

- A) küp B) küre dikdörtgen prizma


9. Yanda görseli verilen varlık hangi geometrik cisme örnektir?

- A) küre
 silindir
C) küp



10. Yandaki görsel, hangi geometrik cisme örnektir?

- A) silindir
B) kare prizma
 üçgen prizma



11. Aşağıdakilerden hangisi bir yaz meyvesidir?

-  B)  C) 

12. Verilen ifadelerden doğru olan hangisidir?

- A) Mevsimi dışında tüketilen meyve ve sebzeler daha lezzetlidir.
B) Tarım ilaçları sağlığımız için zararsızdır.
 Mevsimine uygun meyve sebzeleri tüketmeliyiz.

13. Hangi seçenekteki sebze yaz mevsiminde tüketilmelidir?

-  B)  C) 

14. Aşağıdaki ifadelerden yanlış olan hangisidir?

- A) Üzüm bir yaz meyvesidir.
 Şeftali bir kış meyvesidir.
C) Bal kabağı bir kış meyvesidir.

15. Turp, hangi mevsim tüketmemiz gereken bir sebzedir?

- A) yaz
 kış
C) ilkbahar

