




Verilen **nesnelerin** belirtilen **kesir** kadarını **boyayınız.**

Sandalyelerin $\frac{2}{8}$ 'sini boya.



Elmaların $\frac{4}{6}$ 'ünü boya.




Şapkaların $\frac{3}{5}$ 'ünü boya.



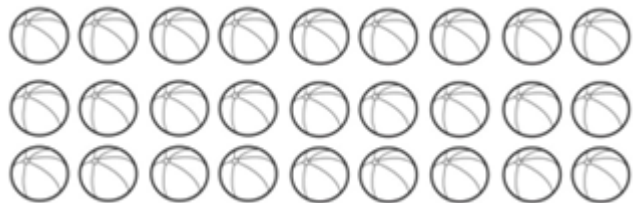
Gezegenlerin $\frac{2}{4}$ 'sini boya.



Kurbağaların $\frac{7}{10}$ 'sini boya.



Topların $\frac{5}{9}$ 'ini boya.





Aşağıda verilen **problemleri** çözünüz.



1) Bir çiftlikteki **125** hayvanın $\frac{2}{5}$ ' si tavuktur. Buna göre çiftlikte kaç **tavuk** vardır?

Çözüm:



2) 1 yılda okuduğum **72** kitabın $\frac{3}{6}$ ' ü masal kitabıdır. 1 yılda kaç **masal** kitabı okudum?

Çözüm:



3) Törende asılan **216** balonun $\frac{4}{9}$ ü kırmızı, geri kalanı beyazdır. Kaç **beyaz** balon kullanılmıştır?

Çözüm:



4) Zeynep'in dedesi **77** yaşında, Zeynep'in yaşı ise dedesinin yaşının $\frac{1}{7}$ i kadardır. **Zeynep** kaç yaşındadır?

Çözüm:



5) Bir köydeki **488** çocuğun $\frac{2}{8}$ si gözlük kullanmaktadır. Kaç çocuk **gözlük** kullanmaktadır?

Çözüm:



6) Mert cebindeki **500** liranın $\frac{4}{10}$ ünü markette harcadı. Geriye kaç **lirası** kalmıştır?

Çözüm: