

Adı : .....  
Soyadı: .....

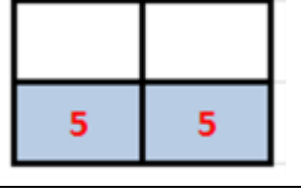
4. Sınıf  
Matematik

Kesirler  
Birim Miktarını Bulma-2

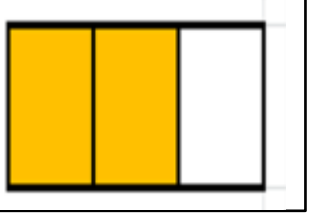
Verilen kesirlerin miktarlarını bulunuz.

20 cevizin  $\frac{2}{4}$  ' si kaç  
ceviz eder?

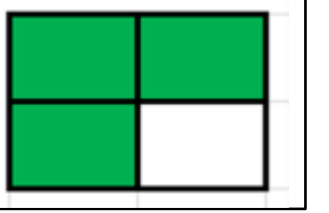
Önce birim kesrinin miktarını  
bulalım.  
 $20 \div 4 = 5$  (birim miktarı)  
 $5 \times 2 = 10$



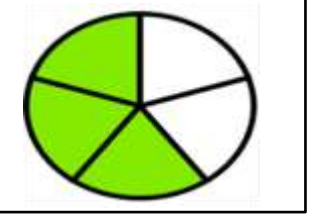
36 kitabın  $\frac{2}{3}$  ' si kaç  
kitap eder?




48 fındığın  $\frac{3}{4}$  ' ü kaç  
fındık eder?



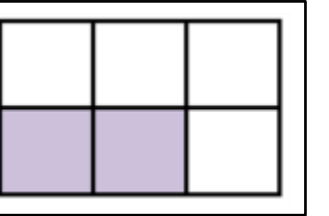
45 ağacın  $\frac{3}{5}$  ' ü kaç  
ağaç eder?



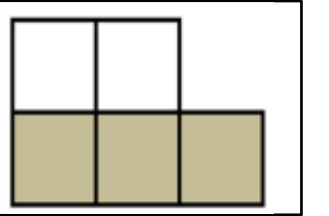
91 kalemin  $\frac{4}{7}$  ' ü kaç  
kalem eder?



42 çiçeğin  $\frac{2}{6}$  ' si kaç  
çiçek eder?



330 lira paranın  $\frac{3}{5}$  ' ü  
kaç lira eder?



Adı : .....  
Soyadı: .....

4. Sınıf  
Matematik

Kesirler  
Birim Miktarını Bulma-2

35 ekmeğin  $\frac{3}{5}$ ' ünü  
yedik. Kaç tane ekmek  
yedik?

91 kalemin  $\frac{4}{7}$ ' ünü  
sattık. Kaç kalem sattık?

96 TL paranın  $\frac{5}{8}$ ' ini  
harcadım. Kaç lira para  
harcadım?

72 sayısının  $\frac{4}{6}$ ' ü kaç  
eder?

65 kg şekerin  $\frac{3}{5}$ ' ü kaç  
kg şeker eder?

56 sayfalık kitabın  $\frac{3}{4}$ ' ünü  
okudum. Kaç sayfa  
okudum?

168 sayısının  $\frac{3}{8}$ ' ü kaç  
eder?