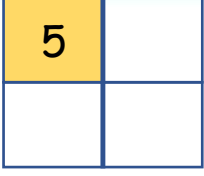


Adı :
Soyadı:

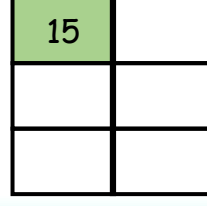
4. Sınıf
Matematik

Kesirler
Birim Miktarını Bulma-4

Kesir miktarı verilen sayının bütününü bulunuz.



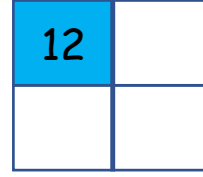
$\frac{1}{4}$ ' i 5 olan sayının
tamamı kaçtır?



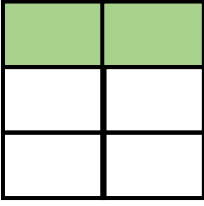
$\frac{1}{6}$ ' i 15 olan sayının
tamamı kaçtır?



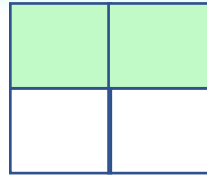
$\frac{1}{5}$ ' i 20 olan sayının
tamamı kaçtır?




$\frac{1}{4}$ ' i 12 olan sayının
tamamı kaçtır?




$\frac{2}{6}$ ' si 10 olan sayının
tamamı kaçtır?



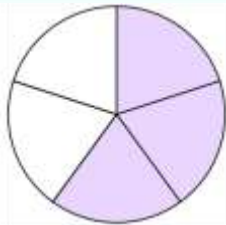
$\frac{2}{4}$ ' si 8 olan sayının
tamamı kaçtır?



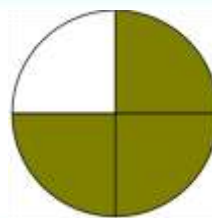
$\frac{3}{8}$ ' ü 15 olan sayının
tamamı kaçtır?



$\frac{5}{8}$ ' i 40 olan sayının
tamamı kaçtır?



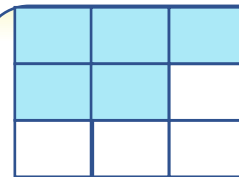
$\frac{3}{5}$ ' ü 30 olan sayının
tamamı kaçtır?



$\frac{3}{4}$ ' ü 12 olan sayının
tamamı kaçtır?



$\frac{2}{3}$ ' si 40 olan sayının
tamamı kaçtır?



$\frac{5}{9}$ ' i 50 olan sayının
tamamı kaçtır?

Adı :
Soyadı:

4. Sınıf
Matematik

Kesirler
Birim Miktarını Bulma-4

Kesir miktarı verilen sayının bütününü bulunuz.



$$\frac{1}{8} = \dots$$

$$\frac{5}{8} = \dots$$

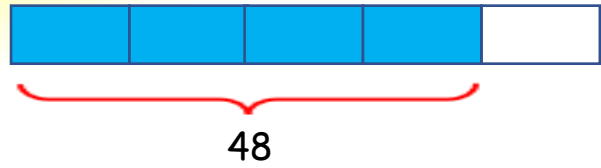
$$\frac{8}{8} = \dots$$



$$\frac{1}{6} = \dots$$

$$\frac{3}{6} = \dots$$

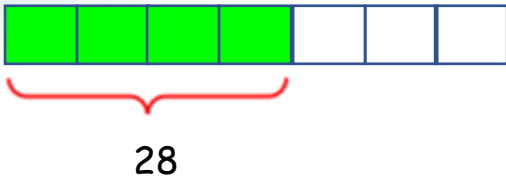
$$\frac{6}{6} = \dots$$



$$\frac{1}{4} = \dots$$

$$\frac{2}{4} = \dots$$

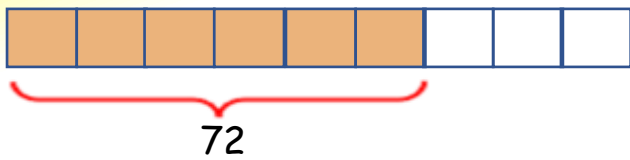
$$\frac{4}{4} = \dots$$



$$\frac{1}{7} = \dots$$

$$\frac{5}{7} = \dots$$

$$\frac{7}{7} = \dots$$



$$\frac{1}{9} = \dots$$

$$\frac{8}{9} = \dots$$

$$\frac{9}{9} = \dots$$



$$\frac{1}{8} = \dots$$

$$\frac{4}{8} = \dots$$

$$\frac{8}{8} = \dots$$