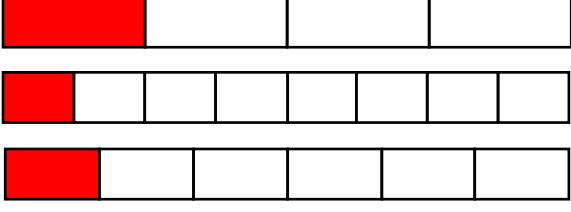


Adı :
Soyadı:

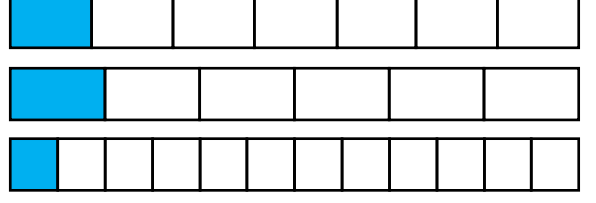
4. Sınıf
Matematik

Kesirler
Sıralama-Karşılaştırma-2

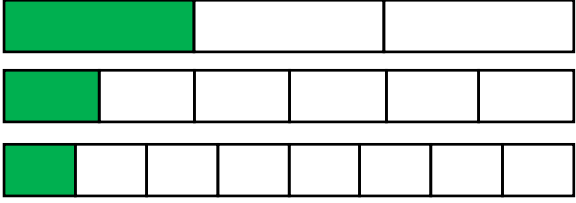
Birim kesirleri **büyükten küçüğe** doğru sıralayınız.



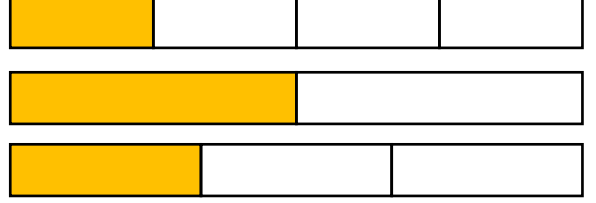
$\frac{1}{2}$ $\frac{1}{4}$ $\frac{1}{6}$
.....



$\frac{1}{2}$ $\frac{1}{4}$ $\frac{1}{6}$
.....

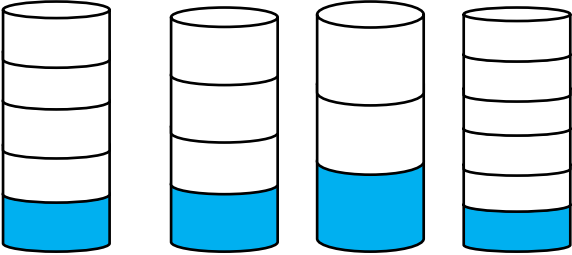


$\frac{1}{2}$ $\frac{1}{4}$ $\frac{1}{6}$
.....

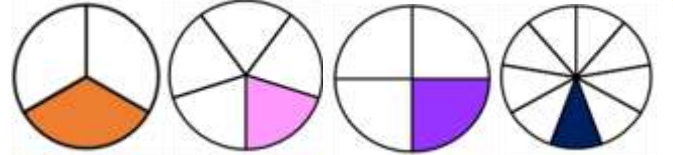


$\frac{1}{2}$ $\frac{1}{4}$ $\frac{1}{6}$
.....

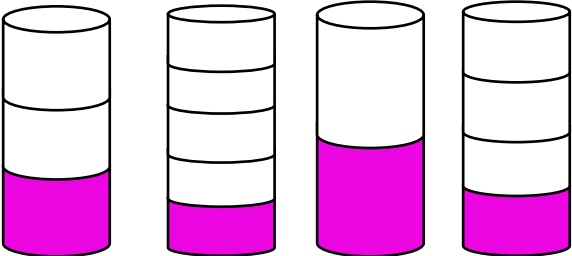
Birim kesirleri **küçükten büyüğe** doğru sıralayınız.



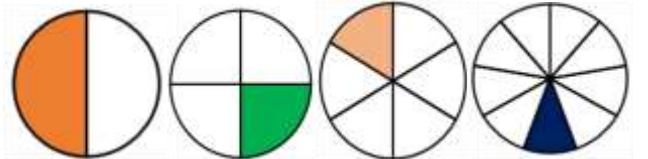
$\frac{1}{2}$ $\frac{1}{4}$ $\frac{1}{6}$ $\frac{1}{8}$
.....



$\frac{1}{3}$ $\frac{1}{5}$ $\frac{1}{4}$ $\frac{1}{8}$
.....



$\frac{1}{2}$ $\frac{1}{4}$ $\frac{1}{6}$ $\frac{1}{8}$
.....



$\frac{1}{2}$ $\frac{1}{4}$ $\frac{1}{6}$ $\frac{1}{8}$
.....

Adı :

Soyadı:

4. Sınıf
Matematik

Kesirler
Sıralama-Karşılaştırma-2

Aşağıda verilen kesirlerin arasına uygun olan işareti yazınız. ($>$, $<$, $=$)

$$\frac{1}{3} \square \frac{1}{6}$$

$$\frac{1}{4} \square \frac{1}{2}$$

$$\frac{1}{6} \square \frac{1}{6}$$

$$\frac{1}{5} \square \frac{1}{10}$$

$$\frac{1}{9} \square \frac{1}{2}$$

$$\frac{1}{5} \square \frac{1}{6}$$

$$\frac{1}{4} \square \frac{1}{2}$$

$$\frac{1}{10} \square \frac{1}{20}$$

$$\frac{1}{15} \square \frac{1}{2}$$

$$\frac{1}{6} \square \frac{1}{7}$$

$$\frac{1}{9} \square \frac{1}{4}$$

$$\frac{1}{11} \square \frac{1}{18}$$

Sıralamalarda boş bırakılan yerlere uygun birim kesirleri yazınız.

$$\frac{1}{3} < \frac{\dots}{\dots} < \frac{1}{8}$$

$$\frac{1}{9} > \frac{\dots}{\dots} > \frac{1}{5}$$

$$\frac{\dots}{\dots} < \frac{\dots}{\dots} < \frac{1}{6}$$

$$\frac{1}{7} > \frac{\dots}{\dots} > \frac{\dots}{\dots}$$

$$\frac{\dots}{\dots} < \frac{1}{10} < \frac{\dots}{\dots}$$

$$\frac{\dots}{\dots} > \frac{1}{8} > \frac{\dots}{\dots}$$

Verilen birim kesirleri işaret kullanarak büyükten küçüğe sıralayınız.

$$\frac{1}{6}, \frac{1}{12}, \frac{1}{4}, \frac{1}{17}, \frac{1}{5}$$

$$\frac{1}{20}, \frac{1}{8}, \frac{1}{15}, \frac{1}{2}, \frac{1}{10}$$

Büyükten küçüğe sıralayınız.

Küçükten büyüğe sıralayınız.