

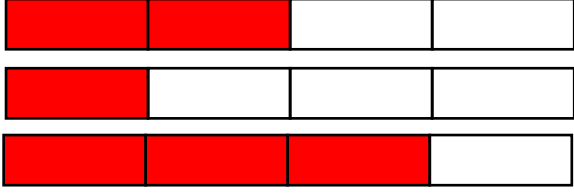
Adı :

Soyadı:

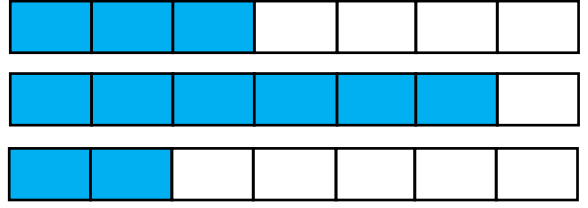
4. Sınıf
Matematik

Kesirler
Sıralama-Karşılaştırma-3

Basit kesirleri **büyükten küçüğe** doğru sıralayınız.



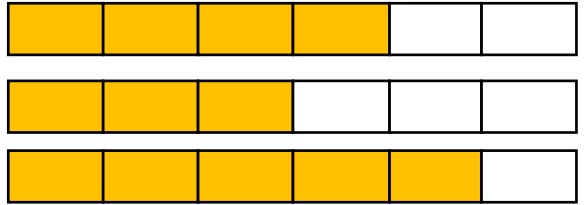
$\frac{2}{4}$ $\frac{1}{4}$ $\frac{3}{4}$
.....



$\frac{3}{6}$ $\frac{5}{6}$ $\frac{2}{6}$
.....

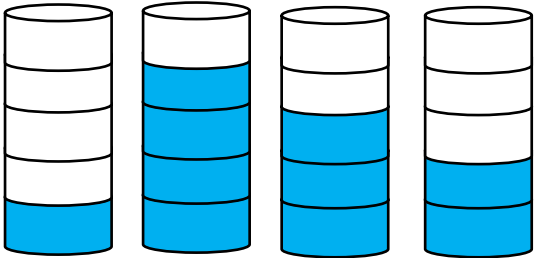


$\frac{1}{3}$ $\frac{2}{3}$ $\frac{3}{3}$
.....

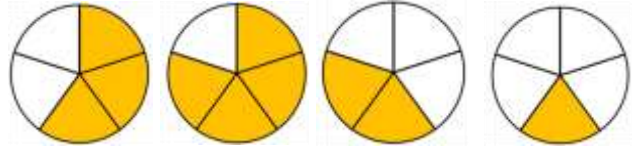


$\frac{4}{5}$ $\frac{3}{5}$ $\frac{4}{5}$
.....


Birim kesirleri **küçükten büyüğe** doğru sıralayınız.



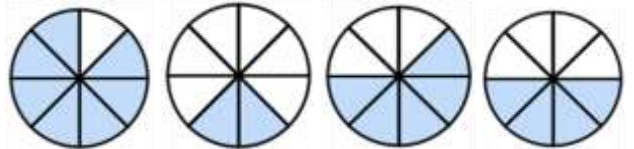
$\frac{1}{5}$ $\frac{4}{5}$ $\frac{3}{5}$ $\frac{2}{5}$
.....



$\frac{3}{5}$ $\frac{4}{5}$ $\frac{2}{5}$ $\frac{1}{5}$
.....



$\frac{2}{5}$ $\frac{4}{5}$ $\frac{3}{5}$ $\frac{4}{5}$
.....



$\frac{3}{8}$ $\frac{4}{8}$ $\frac{5}{8}$ $\frac{6}{8}$
.....

Adı :
Soyadı:

4. Sınıf
Matematik

Kesirler
Sıralama-Karşılaştırma-3

Aşağıda verilen **basit kesirlerin** arasına uygun olan işareti yazınız. (> , < , =)

$$\frac{1}{6} \square \frac{5}{6}$$

$$\frac{3}{4} \square \frac{1}{4}$$

$$\frac{3}{7} \square \frac{5}{7}$$

$$\frac{5}{10} \square \frac{2}{10}$$

$$\frac{3}{9} \square \frac{3}{9}$$

$$\frac{3}{5} \square \frac{5}{5}$$

$$\frac{4}{7} \square \frac{3}{7}$$

$$\frac{1}{10} \square \frac{1}{10}$$

$$\frac{7}{15} \square \frac{10}{15}$$

$$\frac{4}{8} \square \frac{7}{8}$$

$$\frac{3}{9} \square \frac{7}{9}$$

$$\frac{12}{18} \square \frac{10}{18}$$

Sıralamalarda boş bırakılan yerlere uygun **basit kesirleri** yazınız.

$$\frac{2}{8} < \frac{\dots}{\dots} < \frac{5}{8}$$

$$\frac{7}{9} > \frac{\dots}{\dots} > \frac{1}{9}$$

$$\frac{\dots}{\dots} < \frac{\dots}{\dots} < \frac{5}{8}$$

$$\frac{6}{9} > \frac{\dots}{\dots} > \frac{\dots}{\dots}$$

$$\frac{\dots}{\dots} < \frac{5}{10} < \frac{\dots}{\dots}$$

$$\frac{\dots}{\dots} > \frac{4}{6} > \frac{\dots}{\dots}$$

Verilen **basit kesirleri** işaret kullanarak büyükten küçüğe sıralayınız.

$$\frac{3}{7}, \frac{5}{7}, \frac{6}{7}, \frac{7}{7}, \frac{1}{7}$$

$$\frac{5}{20}, \frac{11}{20}, \frac{8}{20}, \frac{12}{20}, \frac{16}{20}$$

Büyükten küçüğe sıralayınız.

Küçükten büyüğe sıralayınız.