



DOKTOR TILKI

Tilkinin biri bir gün doktor kıyafetlerini giymiş. Köyün yolunu tutmuş. Niyeti tavukları kandırıp, yemekmiş. Kümese varınca tavuklara seslenmiş. Tavuk kardeşlerim. Hasta olduğunuzu duydum. Size ilaç getirdim. Kapıyı açın da vereyim, demiş.

Horoz, tilkinin hilesini anlamış. Ona, tilki kardeş, biz hasta değiliz. Hasta olan çiftliğin köpeği Karabaş. İstersen çağıralım da sen onu muayene et, demiş. Tilki, yok yok demiş. Bugün benim ziyaret edecek başka hastalarım da var. Gidip onları muayene edeyim, diyerek hızla oradan uzaklaşmış.

Not: İlk 3 soruyu metne göre cevaplayınız.

1) Köyün yolunu tutan, tilkinin niyeti nedir?

- A) Tavukları iyileştirmek.
- B) Hasta olan tavuklara ilaç vermek.
- C) Tavukları kandırıp, yemekmiş.


2) Tilkinin hilesini kim anlamış?

- A) Karabaş
- B) Horoz
- C) Tavuklar

3) Hikâye ile ilgili verilen bilgilerden hangisi yanlıştır?

- A) Tilki, Karabaş'ı muayene ederek oradan hızlıca uzaklaşmıştır.
- B) Tilki, doktor taklidi yaparak kümese gitmiş.
- C) Horoz, çiftliğin köpeği Karabaş'ın hasta olduğunu söylemişler.

4) Aşağıdaki varlıklardan hangisinin adında sessiz (ünsüz) harf sayısı daha fazladır?



5)



Yukarıdaki vagonlarda yazılan hecelerle aşağıdaki kelimelerden hangisi yazılamaz?

- A) Sucuk
- B) Suluk
- C) Sucu

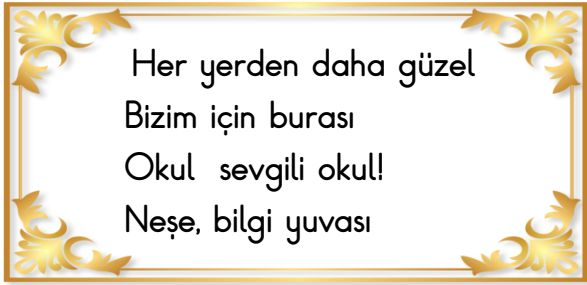
6) Aşağıdaki cümlelerden hangisinin sonuna soru işareti gelmelidir?

- A) Okulun bahçesinde bekliyordu
- B) Hangi dersi daha çok seviyorsun
- C) Eyvah, sular kesildi

7) Aşağıdaki cümlelerin hangisinde zıt anlamlı kelimeler bir arada kullanılmamıştır?

- A) Önce ellerimi, sonra yüzümü yıkadım.
B) Yaşlı adam yavaş yavaş yürüyordu.
C) Denizde sabahtan akşama kadar yüzdük.

8)



Yukarıdaki şiirin konusu nedir?

- A) Okul B) Bilgi C) Sevgi



9) "3 + 3 + 3 + 3 + 3" işleminin çarpma işlemiyle ifadesi aşağıdakilerden hangisidir?

- A) 3 x 3 B) 3 x 6
C) 5 x 3

10) "4 x 2" işleminin toplama işleminde gösterilişi aşağıdakilerden hangisidir?

- A) 4 + 4 + 4 + 4
B) 4 + 2 + 2
C) 2 + 2 + 2 + 2

11) "3 x 4" işleminin modelle gösterilişi aşağıdakilerden hangisidir?




12)



Yukarıdaki boncuk sayılarının toplamı hangi işlemlle bulunur?

- A) 3 + 5 B) 3 x 5 C) 5 + 3

13)



Yukarıdaki modele ait işlem aşağıdakilerden hangisi olamaz?

- A) 3 + 3 + 3 + 3
B) 3 x 5
C) 4 x 3

14)




3 kere 2, 6 eder.

İsmail'in ifadesi **tekrarlı toplama işlemi** şeklinde aşağıdakilerden hangisidir?

- A) $3 + 3 = 6$ B) $2 + 3 = 6$
C) $2 + 2 + 2 = 6$

15)




Toplam çiçek sayısını bulmak için hangi işlemi **yapmamalıyız**?

- A) $5 + 5 + 5 + 5 + 5$
B) 5×4
C) $4 + 4 + 4 + 4 + 4$

16) Aşağıdakilerden hangisi **ulaşım**da **güvenliğimizi** tehlikeye atar?

- A) Emniyet kemeri takmak
B) Araç durmadan kapıyı açmamak
C) Şoför ile sohbet etmek

17) Aşağıdaki görsellerin hangisinde güvenlik kurallarına **uygun davranılmıştır**?



18) Ulaşım araçlarıyla yolculuk yaparken aşağıdaki davranışlardan hangisini yapmak **yanlıştır**?

- A) Araç içinde ayakta dolaşmayalım.
B) Arka koltuktaysak kemer takmayalım.
C) Araç hareket halindeyken su içip yemek yemeyelim.

19) Aşağıdakilerden hangisi servis aracında **uymamız gereken güvenlik** kurallarından biridir?

- A) Araca biner binmez oturup kemer takmak
B) Servis aracı durmadan emniyet kemerini açıp ayağa kalkmak
C) Gürültü yaparak şoförün dikkatini dağıtmak.

20)

1 Servis aracına sırayla binmeliyiz.

2 Servis aracı hareket edince yerimizden kalkmamalıyız.

3 İnmek için servis aracının durmasını beklemeliyiz.

Güvenliğimiz için yukarıdakilerden hangilerini **yaparız**?

- A) 1 ve 2 B) 2 ve 3
C) 1, 2 ve 3

Cevap Anahtarı

1)C 2)B 3)A 4)C 5)A
6)B 7)B 8)A 9)C 10)C
11)A 12)B 13)B 14)C 15)A
16)C 17)B 18)B 19)A 20)C