



KERTENKELELER

Kertenkeleler, küçük ve çevik bir yapıya sahip sürüngen hayvanlardır. Güneşte ısınmaktan hoşlandıkları için kertenkelelere yaz mevsiminde rastlanmaktadır. Vücudu kuru bir deri ile örtülüdür. Kertenkelelerin boyu 15-20 santimetredir.

Kertenkelenin kuyruğu çok hareketlidir. Bu hayvan kuyruğundan yakalanacak olursa kuyruk kopar ve vücut, kuyruksuz olarak yoluna devam eder. Böylece kertenkele düşmanlarından korunmasını sağlar. Kopan kuyruğun yerine sonradan yenisi çıkar.

Not: İlk 3 soruyu metne göre cevaplayınız.

1) Kertenkelelerin vücudu **nasıl** bir yapıya sahiptir?

- A) Küçük ve çelimsiz
- B) Büyük ve güçlü
- C) Küçük ve çevik

2) Kertenkelelere daha çok **hangi** mevsimde rastlanmaktadır?

- A) Yaz
- B) Kış
- C) İlkbahar

3) Kertenkelelerle ilgili verilen bilgilerden hangisi **yanlıştır**?

- A) Kertenkelenin kuyruğu çok hareketlidir.
- B) Vücudu nemli bir deri ile örtülüdür.
- C) Kopan kuyruklarının yerine yenisi çıkar.

4) Aşağıdaki öğrencilerden hangisi, söylediği kelimeyi hecelerine **yanlış** ayırmıştır?

- A) Ar - ka - da- şım
- B) o - ku - lum- uz
- C) a - i - le- miz

5) matematik teneffüs

proplem

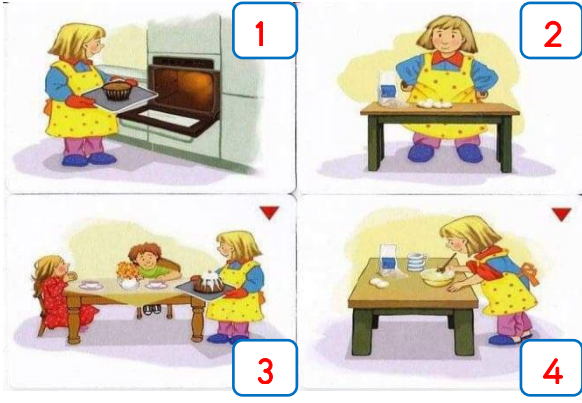
Yukarıdaki kelimelerden hangisinin yazımı **yanlıştır**?

- A)
- B)
- C)

6) “ Emel otobüse bindi () bize el salladı.”
Yukarıdaki cümlede parantez yerine, hangi noktalama işareti konulmalıdır?

- A) Virgül (,)
- B) Soru işareti (?)
- C) Nokta (.)

7)



Yukarıdaki olayın oluş sırası hangisidir?

- A) 4-2-1-3 B) 2-4-1-3
C) 2-3-4-1


8)

| | | | |
|---|-------|---|-------|
| 1 | soru | 2 | doğru |
| 3 | yanıt | 4 | cevap |

Yukarıdaki kelimelerle ilgili verilen bilgilerden hangisi yanlıştır?

- A) 2 ve 4 eş anlamlıdır.
B) 1 ve 4 zıt anlamlıdır.
C) 3 ve 4 eş anlamlıdır.

9)



Yukarıdaki modele ait işlem hangisidir?

- A) 5×4
B) 4×5
C) 4×4

10)



Sonucu 24 olan çarpma işlemini bulmak istiyorum.

Arda'nın bulmak istediği işlem hangisidir?

- A) $\begin{array}{r} 3 \\ \times 8 \\ \hline \end{array}$ B) $\begin{array}{r} 3 \\ \times 7 \\ \hline \end{array}$ C) $\begin{array}{r} 3 \\ \times 9 \\ \hline \end{array}$

11)



Yukarıdaki tavukların ayak sayılarını bulmak için aşağıdaki hangi işlem yapılmalıdır?

- A) 6×6 B) 6×4 C) 6×2

12)

$$3 \times 4 = \star$$

$$5 \times 6 = \heartsuit$$

Yukarıda verilen eşitliklere göre $\star + \heartsuit$ işleminin sonucu kaçtır?

- A) 32 B) 36 C) 42

13)

$$3 \times 10 = 10 \times \text{😊}$$

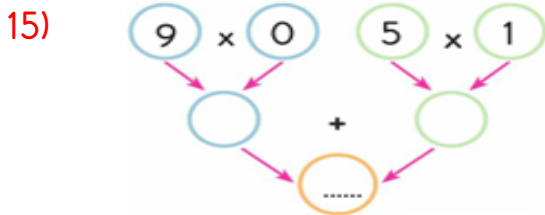
Yukarıdaki eşitlikte 😊 ile gösterilen sayı kaçtır?

- A) 3 B) 5 C) 10

| | Çarpma İşlemi | Sonuç |
|-------|---------------|-------|
| 14) 1 | 4×2 | 8 |
| 2 | 7×2 | 10 |
| 3 | 9×2 | 18 |
| 4 | 5×2 | 14 |

Yukarıdaki tabloda kaç numaralı işlemler yer değiştirirse tablodaki sonuç **doğru** olur?

- A) 1 ile 2 B) 2 ile 4 C) 3 ile 4



Yukarıdaki işlem salkımında **noktalı yere** hangi sayı gelmelidir?

- A) 14 B) 9 C) 5

16) Aile, kadın, çocuk, yaşlı ve engelli **sosyal destek hattına** ihtiyaç duyduğumuzda hangisini aramalıyız?

- A) 156 B) 183 C) 122

17) Trafikte yardıma ihtiyaç duyanlarla ilgili ifadelerden hangisi **yanlıştır**?

A) Araçlarda yaşlı, hamile ve hasta kişilere oturacak yer vermeliyiz.

B) Yaşlı, hamile ve hastaların araca binmesine ve araçtan inmesine yardım etmeliyiz.

C) Görme engellilerin karşıdan karşıya geçerken yardıma ihtiyacı yoktur.

18)



Yukarıdaki görsellerin vermek istediği mesaj **hangisidir**?

- A) Trafikte yardıma ihtiyaç duyanlara yardımcı olmalıyız.
B) Yaşlanmak zordur.
C) Ulaşım araçları hayatımızı kolaylaştırır

19)



Çevremizde yandaki resimde verilen acil durumla karşılaşırsak **kimden yardım** istemeliyiz?

A)



B)



C)



20) Acil durum numaraları ile ilgili aşağıda verilen bilgilerden hangisi **yanlıştır**?

A) Gereksiz aramalarla hattı meşgul etmemeliyiz.

B) Acil durum numaralarını ezberlemeliyiz.

C) Yaralandığımız zaman itfaiyeyi aramalıyız.

Cevap Anahtarı

1)C 2)A 3)B 4)B 5)C

6)A 7)B 8)A 9)B 10)A

11)C 12)C 13)A 14)B 15)C

16)B 17)C 18)A 19)A 20)C