

Hoca, kış hazırlığı için dama çıkmış. Kırılan kiremitleri değiştirirken adamın biri kapıyı çalmış ve Hoca'dan aşağı inmesini istemiş. Hoca önemli bir iş sanarak oflaya pufloya aşağı inmiş. Adam "Hocam, şu fakire bir sadaka" demiş. Hoca kızmış ama belli etmeden: "Hele yukarı gel benimle" demiş. İki de nefes nefese dama çıkınca, Hoca adama şöyle demiş: -"Allah versin".

1. ve 2. soruları metne göre cevaplayınız.

- 1) Yukarıdaki metnin **başlığı** aşağıdakilerden hangisi olabilir?
- A) Hoca'nın Ailesi  
B) Yaz Mevsimi  
C) Komşuluk İlişkisi  
D) Hoca'nın Verdiği Ders
- 2) Metnin **ana düşüncesi** nedir?
- A) Anlaşma yaparken şartlar iyi okunmalıdır.  
B) Arkadan iş çevirmek kötü sonuç doğurur.  
C) Kendimize yapılmasını istemediğimiz bir şeyi, başkasına yapmamalıyız.  
D) Umutlarımızı hiçbir zaman yitirmemeliyiz.

- 3) Yandaki **anahtarlar**, **mecaz anlamlı** kelime içeren cümlelerin kilitlerini açmaktadır. Buna göre, hangi kilit bu anahtarlarla **açılmaz**?



- 4) Aşağıdaki cümlelerin hangisinde **-de** ekinin **kullanımı** ile ilgili hata yoktur?
- A) Kaybolanların arasında Ali de var.  
B) Doğum gününe sende gelir misin?  
C) Ben de çok emeğiniz var.  
D) Manavdan muzda aldım.



Üstteki **çocukların** isimlerini **sözlük sırasına** göre sıralarsak, aşağıdaki **bilgilerden** hangisi **doğru** olur?

- A) **Semih** 2. veya 3. değildir.  
B) **Serpil** 3. veya 4. değildir.  
C) **Serhat** 1. veya 2. değildir.  
D) **Sahra** 1. veya 4. değildir.

- 6) Hey( ) burada resim çekmek yasak( )  
Bu alana girmek için izin aldınız mı( )


**Parantez** içlerine sırayla hangi **noktalama** işaretleri gelmelidir?

- A) ( , ) ( ! ) ( . )      B) ( ! ) ( . ) ( ? )  
C) ( ! ) ( ! ) ( ? )      D) ( , ) ( ! ) ( ? )


- 7) Aşağıdaki **deyimlerden** hangisi "**gereken önemi vermemek**" anlamına gelir?
- A) gözü kalmak      B) göz ardı etmek  
C) gözüne çarpmak      D) göz açtırmamak

- 8) **534** **545** **556** **S** **578** **589**  
Yukarıdaki sayı örüntüsüne göre **S** yerine gelecek sayının **en yakın** onluğu kaçtır?


- A) 570      B) 560  
C) 500      D) 600

- 9)  Bir bakkal, bir yılda **1712** tane top, toplardan **685** eksik kalem satmıştır. Buna göre bu bakkal bir yılda iki üründen toplam kaç adet satmıştır?

- A) 1027                      B) 1881  
C) 2739                      D) 2903

- 10)  Bir satıcı, tanesini **649** liraya aldığı montları **1035** liraya satmaktadır. Buna göre bu satıcı **8** mont satışından kaç lira kâr eder?

- A) 386 lira                      B) 1678 lira  
C) 3088 lira                      D) 3806 lira

- 11)  **9 kişi**, eşit para katarak, sınıf arkadaşları için **783** liralık hediye aldılar. Buna göre **3 kişi** kaç lira katmıştır?

- A) 348 lira                      B) 261 lira  
C) 174 lira                      D) 87 lira

- 12)  = ?

Üstteki **kesirlerle** toplama işleminin sonucu aşağıdakilerden hangisidir?

- A) sekizde beş                      B) beşte sekiz  
C) beşte beş                      D) üçte iki

- 13) Borcumun ilk ay  $\frac{4}{9}$  ünü, ikinci ay ise  $\frac{2}{9}$  sini ödedim. Geriye borcumun kaçta kaç kalmıştır?

- A) dokuzda altı                      B) dokuzda beş  
C) dokuzda dört                      D) dokuzda üç

- 14) Aşağıdakilerden hangisi, **sıvı** bir maddenin **gaz** hâle geçmesine örnektir

- A) Demlikteki suyun buharlaşması  
B) Buzdolabında suyun donması  
C) Tereyağının ocakta erimesi  
D) Buz sarkıtlarının oluşması

- 15) 

Sıvı bir maddenin buharlaşması için ısı alması gerekir.	
Sıcaklık stetoskop ile ölçülür.	
Donma, katı bir maddenin sıvıya dönüşmesidir.	
Isı akışı, sıcak olan maddeden soğuk olan maddeye doğrudur.	

Yukarıda bilgilerden doğru olana **D**, yanlış olana **Y** yazarsak nasıl bir görüntü oluşur?

- A) 

D
D
Y
D

      B) 

D
Y
Y
D

      C) 

Y
D
Y
D

      D) 

Y
Y
D
Y

- 16) **Teknoloji** ile ilgili aşağıdaki ifadelerden hangisi **yanlıştır**?

- A) Teknolojik ürünler doğaya zarar verebilir.  
B) Teknolojik ürünler gözlerimize zarar verebilir.  
C) Teknolojik ürünlerin zararı yoktur.  
D) Teknoloji, arkadaşlık ilişkilerine zarar verebilir.

- 17) Aşağıdakilerden hangisi **teknolojik** bir ürün değildir?

- A) mikrofon                      B) buzdolabı  
C) cep telefonu                      D) mektup

# CEVAP ANAHTARI

- |      |       |
|------|-------|
| 1) D | 10) C |
| 2) C | 11) B |
| 3) B | 12) A |
| 4) A | 13) D |
| 5) C | 14) A |
| 6) D | 15) B |
| 7) B | 16) C |
| 8) A | 17) D |
| 9) C |       |