



MEVSİMLER

İlkbahar pembe, ılık...

Kırmızı ve sıcak yaz.

Sonbahar serin, sarı...

Kışsa soğuk ve beyaz!

İlkbahar çiçek mevsimidir,

Yaz; kavun, karpuz ve deniz.

Sonbahar "yağmur" demektir.

Kış, kardan adam ve biz.

Aziz Sivasoğlu

Not: İlk 3 soruyu metne göre cevaplayınız.

1) Şiirin konusu hangisidir?

- A) Meyvelerin özellikleri
- B) Mevsimlerin özellikleri
- C) Renkler ve özellikleri



2) Şiirde, kaçınıcı dizenin hece sayısı en fazladır?

- A) 7.dize
- B) 6.dize
- C) 5.dize

3) Mevsimler şiiri ile ilgili aşağıdaki bilgilerden hangisi yanlıştır?

- A) Şiir 2 dize, 8 kıtadan oluşmuştur.
- B) Şiirin şairi Aziz Sivasoğlu'dur.
- C) Şiirin başlığı "Mevsimler"dir.

4) Aşağıdaki varlıklardan hangisinin adı ünlü harf ile başlayıp ünlü harf ile biter?



5)



Çalıştım



Dün geldi



Dolabın içindeki bardağı

Yukarıdaki sözcük gruplarından hangileri cümledir?

A) ve

B) ve

C) ve

6)



Anne, eldivenlerim?

Elif, sözlerini hangisiyle tamamlarsa soru cümlesi kurmuş olur?

A) yok

B) kirlendi

C) nerede

7) Aşağıdaki cümlelerin hangisinde "kesme işareti" **yanlış** kullanılmıştır?


- A) Hamza İzmir'de doğmuş.
B) Bu resmi Ege'imi yaptı?
C) Akşam saat 21.30'da uyuyorum.


8) **Otobüs çok hızlı gidiyor.**


Yukarıdaki cümlede altı çizili sözcük hangi sorunun **yanıtıdır**?

- A) Ne? B) Kim?
C) Nasıl?

9) Aşağıdaki öğrencilerden hangisinin söylediği ifade **yanlıştır**?

A)  Bir sayının 1 ile çarpımı kendisine eşittir.

B)  Her sayının kendisiyle çarpımı 1'e eşittir.

C)  Bir sayının 0 ile çarpımı 0'dır.

10) **"6 tane 3, 18 eder."**

Yukarıdaki ifade hangi çarpma işlemini ifade eder?

- A) 6×3 B) 3×18
C) 3×8

11)

x	4	5
2	8	★
3	😊	15

Yukarıdaki çarpma tablosuna göre

😊 + ★ işleminin sonucu kaçtır?

- A) 17 B) 22 C) 27

12)

$$8 \times 4 = A$$

$$3 \times 3 = B$$

Yukarıdaki çarpma işlemine göre A ve B yerine yazılması gereken sayıların **farkı** kaçtır?

- A) 23 B) 25 C) 41

13) 5×4 işlemi ile **aynı sonucu veren** işlem aşağıdakilerden hangisidir?

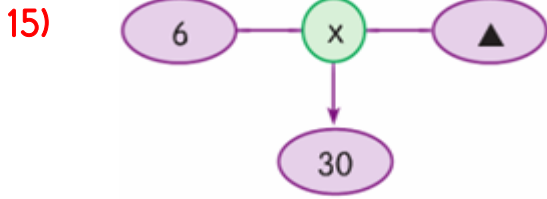
- A) 2×5 B) 2×10
C) 5×6

14)

$$4 \times 3 = \heartsuit \times 4$$

Yukarıda verilen işleme göre **♥** yerine hangi sayı gelmelidir?

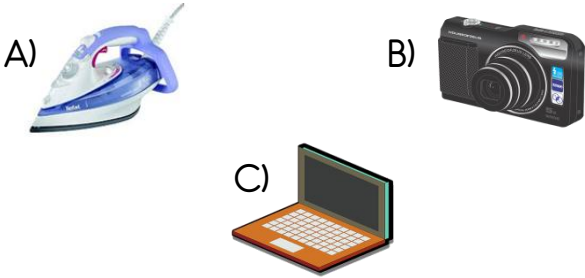
- A) 2
B) 3
C) 4



Yukarıdaki işlemde **verilmeyen çarpan** kaçtır?

- A) 10 B) 6 C) 5

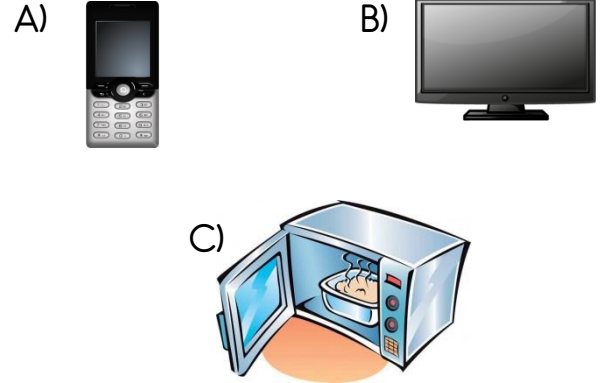
16) Aşağıdaki teknolojik aletlerden hangisini tek başına kullanmamız **tehlikelidir**?



17) Aşağıdakilerden hangisi teknolojik araç gereçlerin **yanlış** kullanımına örnektir?

- A) Telefon şarj olurken kullanmamalıyız.
B) Televizyonu yakından izlememeliyiz.
C) Tabletle istediğimiz kadar oynayabiliriz.

18) Aşağıdaki teknolojik araçlardan hangisini aile büyüklerimizin yardımı olmadan **kullanmamalıyız**?



19) Aşağıdaki teknolojik aletlerin kullanımı ile ilgili verilen ifadelerden hangisi **doğrudur**?

- A) Çocuklar, elektrikle çalışan tüm aletleri tek başlarına kullanabilirler.
B) Teknolojik ürünlerin güvenli kullanımı ile ilgili gerektiğinde insanları nazikçe uyarmalıyız.
C) Teknolojik araçlar öğrenme ve araştırma imkânı sunmazlar.

20)



Görselde verilen çocuğun yaşadığı durum için hangisini **söyleyemeyiz** ?

- A) Güvenliğini düşünerek yetişkinlerden yardım istemiştir.
B) Kablosu zarar görmüş aletli kullanmıştır.
C) Islak elle elektrikli alete dokunmuştur.

Cevap Anahtarı

1)B 2)C 3)A 4)C 5)A
6)C 7)B 8)C 9)B 10)A
11)B 12)A 13)B 14)B 15)C
16)A 17)C 18)C 19)B 20)A