



ÖMER USLU ETKİNLİKLERİ

2. SINIF

KAZANIM

DEęERLENDİRME 3

Türkçe 15 soru

Hayat Bilgisi 16 soru

Matematik 15 soru


Toplam 46 soru



Avcının geleceğini öğrenen ormandaki bütün hayvanlar oradan




1) Yukarıdaki cümleyi tamamlayan **en uygun** sözcük hangisidir?

- A) uzaklaştı. B) gönderdi.
C) gördü.



Yukarıda " çiçek " sözcüğünün harfleri belli bir şekille gösterilmiştir.







Buna göre " çekic " sözcüğü aşağıdakilerden hangisiyle gösterilebilir?

- A) 
B) 
C) 

3) Aşağıdaki cümlelerin hangisinde özel isim **kullanılmamıştır**?

- A) Dün Ayşe'yi gördüm.
B) Şu gelen Mehmet mi?
C) Hafta sonu çok işimiz var.

4) "Uzun-Kısa " sözcükleri arasındaki anlam ilişkisi aşağıdakilerden hangisinde **vardır**?

- A)  → 
B)  → 
C)  → 

5) Hangi çocuğun konuşmasında " yaslı " kelimesinin **eş anlamlısı** vardır?

- A)  
B)  
C)  

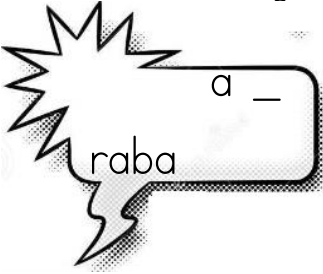
Gökçe, siyah köpeğe kemik verdi.



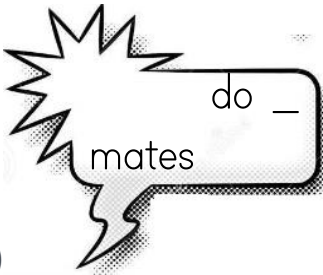
6)) Yukarıdaki cümlede, hangi sorunun cevabı **vardır**?

- A) Gökçe, kaç kemik verdi ?
B) Gökçe, kime kemik verdi?
C) Gökçe, nerede kemik verdi?

7) Aşağıdaki satır sonuna sığmayan kelimelerden hangisi **yanlış** ayrılmıştır?



A)



B)



C)



8)

Yukarıdaki hangi sözcük sözlükte diğerlerinden **sonra** gelir?

- A) bidon B) bere C) baba



*Eğri büğrü dalı var,
Şeker şerbet balı var.
Süzüm süzüm süzülüyor,
Ben yemesem üzülüyor.
Yüzü gözü altın üzüm,
Sevilmez mi iki gözüm?*

9) Yukarıdaki tekerleme verilen görsellerden hangisi için yazılmıştır?

- A) bal B) üzüm C) armut

10) Hangi seçenekteki sözcük sadece cümlenin **başında** büyük harfle başlar?

- A) Anıtkabir B) Samsun C) Gemi

3. çok

1. yaptık

2. kahvaltı

4. güzel

11)

Yukarıdaki kelimelerden anlamlı bir cümle oluşturduğumuzda sıralama nasıl olur?

- A) 3 - 4 - 1 - 2
B) 2 - 1 - 4 - 3
C) 3 - 4 - 2 - 1

12) Pazar günü Elif() Selin()
Zeynep birlikte sinemaya
gittik()

Yukarıdaki cümlede () ile gös terilen yerlere sırasıyla hangi noktalama işaretleri gelmelidir?

- A) (.) (,) (.)
B) (,) (,) (.)
C) (') (,) (?)




13)

Yukarıdaki görsel hangi mevsimi anlatmaktadır?

- A) ilkbahar
B) yaz
C) sonbahar

14) Aşağıdaki cümlelerin hangisinde kesme işareti yanlış kullanılmıştır?

- A) Ali'lerin evinde misafir varmış.
B) Erzurum'da kadayıf dolması yedik.
C) Ayşe'nin çantası kaybolmuş.



Yandaki görselin adını yazarken hangi harfi kullanmayız?

15)


- A) ü
B) v
C) f

65

1)

Yukarıda verilen sayı ile ilgili aşağıdaki ifadelerden hangisi yanlıştır?

- A) 6 onluk, 5 birlikten oluşur.
- B) 6 rakamının basamak değeri 60'tır.
- C) 60'a yuvarlanır.



2)

Yukarıdaki akvaryum hangi kapla daha az zamanda doldurulur?

A.  fincan

B.  cezve

C.  sürahi

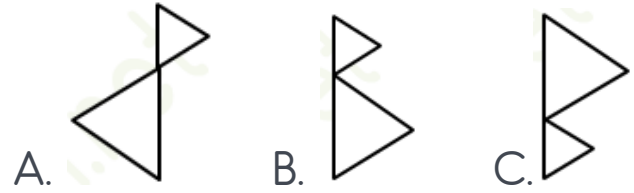


3)

Yukarıdaki elmaların tamamını boyadığımda iki desteden kaç eksik olur?

- A. 5
- B. 4
- C. 6

4) Yanda verilen şeklin simetri çizgisine göre simetriği aşağıdakilerden hangisidir?

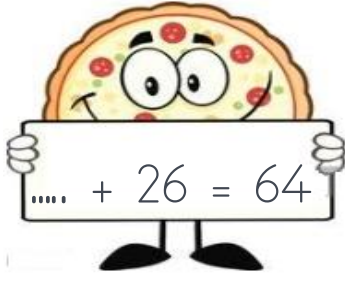


5)



Yukarıdaki verilen sayılardan kaç tanesi 80 'e yuvarlanır?

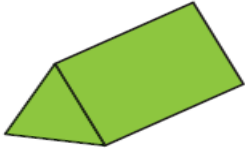
- A. 4
- B. 3
- C. 2



6)

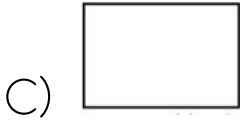
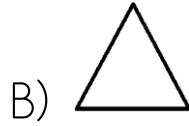
Yukarıdaki toplama işleminde verilmeyen toplanan kaçtır?

- A) 90 B) 48 C) 38



7)

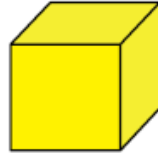
Yukarıdaki geometrik cisim ile hangisini çizemeyiz?



8) Bir sinemada bulunan 85 seyircinin 34'ü kadın, 23'ü erkek ve kalanı ise çocuktur. Bu sinemada kaç çocuk bulunmaktadır?

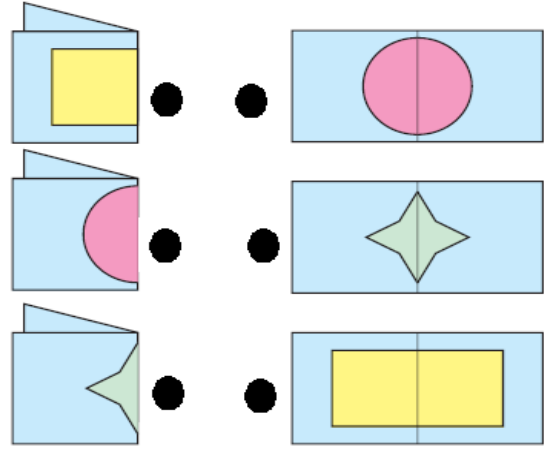
- A) 51 B) 28 C) 47

9)



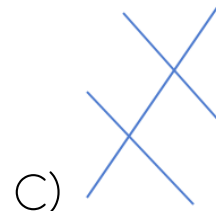
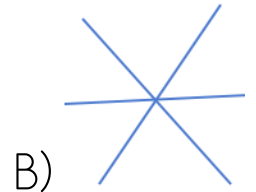
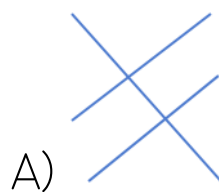
Küp ile ilgili bilgilerden hangisi yanlıştır.

- A) 6 tane geometrik şeklin birleşiminden oluşur.
B) 6 tane geometrik şeklin tamamı eş olan karedir.
C) 6 köşesi vardır.

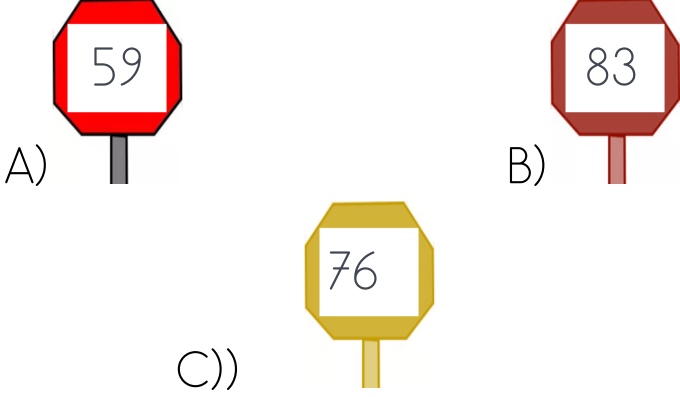


10)

Katlanmış kağıtlarla desenleri eşleştirdiğimizde hangi görüntüyü elde ederiz?



11) Hangi seçenekteki tabelada on_ lukları birliklerinden küçük olan bir sayı vardır?



sol \longleftrightarrow sağ



12) Buse sırayla bir kutu sola, bir kutu yukarı ve ve iki kutu sağa giderse hangi görsele ulaşır?

- A) tahterevalli B) saksı
C) ağaç

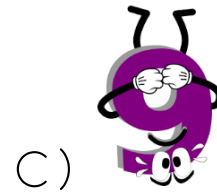
13) Bir okuldaki spor kulübünde 28 kız öğrenci vardır. Bu kulüpteki erkek öğrencilerin sayısı kız öğrencilerin sayısından 15 fazladır. Buna göre okulun spor kulübünde kaç öğrenci vardır?

- A) 43 B) 61 C) 71



14)


Yukarıda verilen şeklin saat yönünde yarım tur dönmesi ile elde edilen şekil aşağıdakilerden hangisidir?



15) 18'den büyük, 22'den küçük sayıların toplamı kaçtır?

- A) 78 B) 60 C) 82

1) Görsellerdeki davranışlardan kaç tanesi arkadaşlarımızla olan ilişkilerimize zarar verir?



A) 3 B) 2 C) 1



2) Yukarıdaki listeye göre kaç tanesi temel ihtiyacımız değildir?

A) 5 B) 4 C) 3

3) Aşağıdaki seçeneklerin hangisinde deniz taşıtları gruplandırılmıştır?

- A) minibüs-otobüs-kamyonet
- B) zeplin-uçak-helikopter
- C) gemi-vapur-şilep

4) amca teyze
dayı hala

Yukarıda verilenlerden kaç tanesi babamızın kardeşi olabilir?

A) △ B) △△ C) △△△

5) Elif, şehrin kalabalık bir caddesinde aniden kayboldu. Evlerini bir türlü bulamıyor. Elif'in polise vereceği hangi bilgi bir fayda sağlamaz?

- A) Ev adresi
- B) Babasının cep telefonu
- C) Okul numarası



🍎 İzlenmediği zamanlarda televizyonu kapatır.

🍏 Dişlerini fırçalarken suyu açık bırakır.

🍊 Aydınlatmada kullandığı kaynakları gereksiz ise kapatır.

7) Göktürk'ün yukarıdaki davranışlarından hangileri doğrudur?

A) 🍎 🍏

B) 🍏 🍊

C) 🍎 🍊

8)

doktor

polis

eczacı

öğretmen

diş hekimi

hemşire

Yukarıdaki verilenlerden kaç tanesi sağlık alanında hizmet vermektedir?

A) 5

B) 4

C) 3

9) Hangi öğrenci kış mevsimi için doğru kıyafet seçmemiştir?

A)



B)



C)



10) Aşağıdaki bilgilerden hangisi yanlıştır?

A) Kuru yemiş yememize gerek yoktur.

B) Süt ve süt ürünleri kemiklerimizin gelişimi için gereklidir.

C) Tahıllardan yapılan ekmek, makarna, pilav gibi besinler bize enerji verir.

11) Aşağıdaki davranışlardan hangisi yanlıştır?

- A) Servisi yapılan her yemekten yememeliyiz.
- B) Sofraya oturmakta geç kalmamalıyız.
- C) Yemek yemeye sofradakilerle başlamalıyız.



Yukarıdakilerden kaç tanesi sağlık hizmeti veren kurumları ifade eder?

- A) 4
- B) 3
- C) 2

13) Aşağıdaki davranışlardan hangisini yaparsam bir kazaya sebep olmam?

- A) Duran bir aracın önünden ve arakasından geçsem.
- B) Aracın açık penceresinden elimi ve kolumu çıkarırsam.
- C) Emniyet kemerimi takarsam.

14) Okulda ortak kullandığımız alanları temiz kullanmadığımızda hangisi ortaya çıkmaz?

- A) Bulaşıcı hastalıklar ortaya çıkar.
- B) Temiz bir çevre ortaya çıkar.
- C) Kötü bir görüntü ortaya çıkar.

15) Aşağıdaki verilen hangi davranış gününü planlı yaşayan bir öğrenciye ait **olamaz**?

- A) Geç yatar ,geç kalkar.
- B) Okul çantasını hazırlar.
- C) Ödevlerini zamanında yapar.

Spor yapmak	
Kişisel bakımına dikkat etmek	
Düzensiz beslenmek	

16) Yukarıdaki tabloda sağlıklı büyümemiz ve gelişmemiz için gerekli olanlara "x" işareti koyarsak hangisine ulaşırız?

- A)

x
x
x

 B)

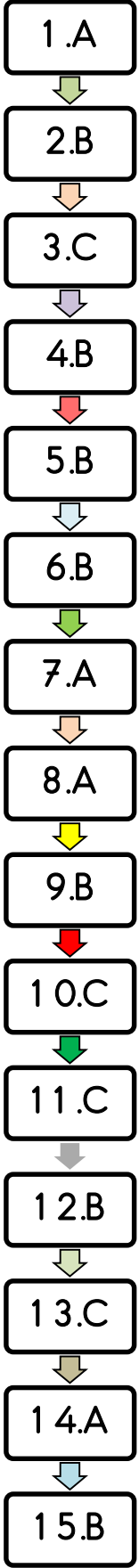
x
x

 C)

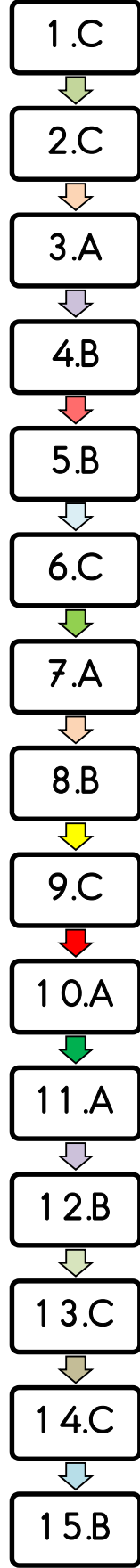
x
x

Testimiz bitti.. Cevaplarınızı kontrol ediniz.

Türkçe



Matematik



Hayat Bilgisi

