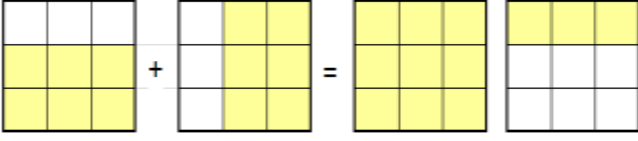


Adı :
Soyadı:

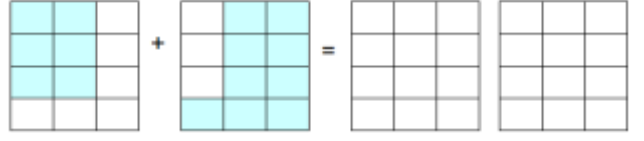
4. Sınıf
Matematik

Kesirler
Toplama İşlemi-2

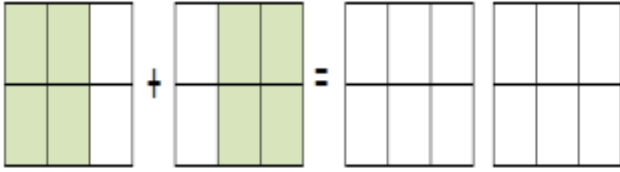
Toplama işlemlerini yapınız.



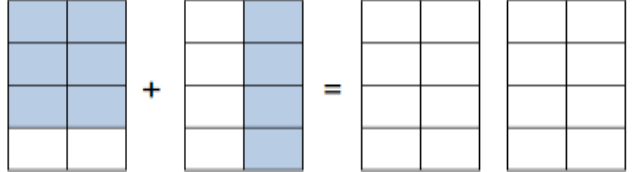
$$\frac{\dots}{\dots} + \frac{\dots}{\dots} = \frac{\dots}{\dots}$$



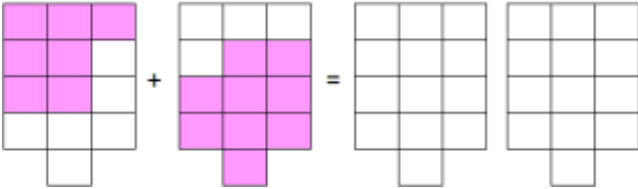
$$\frac{\dots}{\dots} + \frac{\dots}{\dots} = \frac{\dots}{\dots}$$



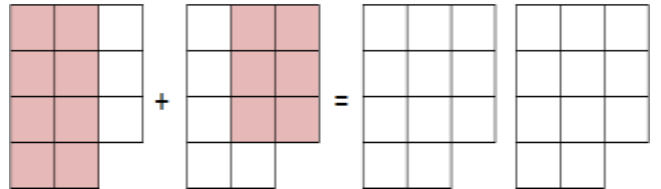
$$\frac{\dots}{\dots} + \frac{\dots}{\dots} = \frac{\dots}{\dots}$$



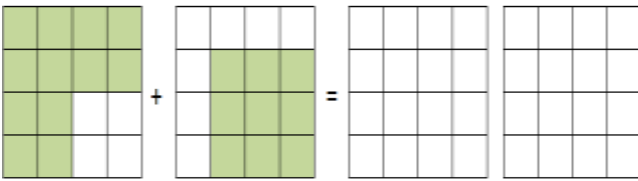
$$\frac{\dots}{\dots} + \frac{\dots}{\dots} = \frac{\dots}{\dots}$$



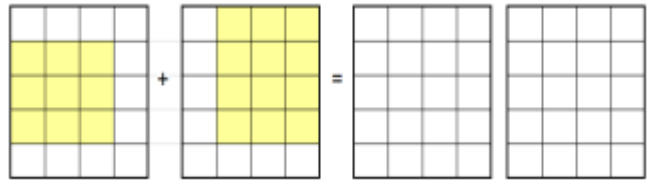
$$\frac{\dots}{\dots} + \frac{\dots}{\dots} = \frac{\dots}{\dots}$$



$$\frac{\dots}{\dots} + \frac{\dots}{\dots} = \frac{\dots}{\dots}$$



$$\frac{\dots}{\dots} + \frac{\dots}{\dots} = \frac{\dots}{\dots}$$



$$\frac{\dots}{\dots} + \frac{\dots}{\dots} = \frac{\dots}{\dots}$$

Adı :
Soyadı:

4. Sınıf
Matematik

Kesirler
Toplama İşlemi-2

1- Ahmet kitabının önce $\frac{2}{8}$ 'ini okudu. Daha sonra $\frac{4}{8}$ 'ünü okuduğuna göre kitabın kaçta kaçını okumuştur? (5 Puan)

2- Bir bakkal yumurtaların önce $\frac{5}{9}$ 'ini sonra $\frac{4}{9}$ 'ünü sattığına göre yumurtaların kaçını satmıştır? (5 Puan)

3- Yeliz parasının $\frac{2}{6}$ 'i ile kitap, $\frac{3}{6}$ 'ü ile defter aldığına göre parasının kaçta kaçını harcamıştır? (5 Puan)

4- Bir fırıncı ürettiği simitlerin $\frac{3}{10}$ 'ünü bakkallara $\frac{4}{10}$ 'ünü pastanelere sattığına göre simitlerin kaçta kaçını satmıştır? (5 Puan)

5- Bir manav 48 kg patatesin önce $\frac{3}{8}$ 'ünü sonra $\frac{2}{8}$ 'ini sattığına göre kaç kg patates kalmıştır? (8 Puan)

6- Fatih 288 sayfalık kitabın önce $\frac{3}{9}$ 'ünü okudu. Daha sonra $\frac{4}{9}$ 'ünü okuduğuna göre geriye kaç sayfa kitap kalmıştır? (10 Puan)

7- 350 sayısının $\frac{2}{5}$ 'si ile $\frac{1}{5}$ 'inin toplamı kaçtır? (10 Puan)

8- Kerem bir günün $\frac{3}{8}$ 'ünü uyuyarak, $\frac{2}{8}$ 'ini okulda geçirmiştir. Diğer etkinlikler için kaç saat zaman kalmıştır? (10 Puan)