

Bir gün Nasrettin Hoca'nın eşiği çalınmış. Can sıkıntısı içinde durumu komşularına anlatınca, her kafadan bir ses çıkmaya başlamış. Birisi:

- "Hocam niye ahırın kapısına iyi bir kilit takmadın sanki?" demiş.

Bir başkası:

- "Evine hırsız giriyor da senin nasıl haberin olmuyor?" diye konuşmuş.

Bir diğeri de:

- "Hocam, kusura bakma ama eşiğin çalınmasına en büyük sebep yine sensin. Çünkü doğru dürüst bir ahırın bile yok. Nerden baksan dökülüyor."

Hoca kızmış:

"- Yahu iyi, güzel de kabahatin hepsi benim mi? Hırsızın hiç mi suçu yok?"

1. ve 2. soruyu metne göre cevaplayınız.

1) Hocanın **komşularıyla** ilgili, aşağıdakilerden hangisi yanlıştır?

- A) Hatayı Hoca'da arıyorlar.
- B) Ön yargılı davranıyorlar.
- C) Empati kurmayı öğrenmişler.
- D) Suçlayıcı üslupla konuşuyorlar.

2) Aşağıdaki **atasözlerinden** hangisi metnin ana düşüncesiyle ilgilidir?

- A) İğneyi kendine, çuvaldızı başkasına batır.
- B) Misafir umduğunu değil, bulduğunu yer.
- C) Değirmenden gelenden poğaça umarlar.
- D) Yalancının mumu yatsıya kadar yanar.

3) Aşağıdaki cümlelerden hangisinde **-ki** eki **doğru** kullanılmıştır?

- A) Duvarda ki saatin pili bitmiş.
- B) Masadaki örtü çok kirlenmiş.
- C) Düzenli çalışki başarılı olasin.
- D) Sende ki mutsuzluk beni etkiliyor.

4)



Arkadaşım gelmedi oysa yardım edeceğini söylemişti.



Terliken su içtiğimden dolayı hasta oldum.



Atatürk'ü çok seviyorum çünkü bizim için savaştı.

Yukarıdaki çocuklardan hangisinin cümlesi **sebeb-sonuç** cümlesidir?

- A) Yalnız Ferdi
- B) Egemen ve Begüm
- C) Yalnız Egemen
- D) Begüm ve Ferdi

5)

Satürn, güneşe yakınlık olarak altıncı gezegendir.

Üstteki cümlede hangi kelimenin yazımında **hata** yapılmıştır?

- A) güneşe
- B) altıncı
- C) Satürn
- D) gezegendir

6)

- I. Of, başım çok ağrıyor
- II. O bileti nereden aldın
- III. Tüh, keşke ben de gitseydim
- IV. Arif sorulara cevap vermedi

Yukarıdaki cümlelerden hangileri **ünlem** cümlesidir?


- A) II ve III
- B) I ve IV
- C) I ve III
- D) II ve IV

7)



Üstteki sayı örüntüsüne göre **A+B** kaçtır?

- A) 545
- B) 553
- C) 572
- D) 564

- 8)  Her gün kumbarasına **56** lira para atan biri, **bir haftada** kumbaraya kaç lira atmış olur?


A) 280 lira B) 336 lira
C) 392 lira D) 448 lira

- 9)
$$\begin{array}{r} 582 \\ | \\ 8 \\ \hline \\ | \\ ? \end{array}$$
 Yandaki **bölme** işleminde, bölüm ile ilgili ifadelerden hangisi doğrudur?


A) Bölüm bir basamaklıdır.
B) Bölüm iki basamaklıdır.
C) Bölüm üç basamaklıdır.
D) Bölüm dört basamaklıdır.

- 10) Polat'ın **158**, Selim'in **176** ve Altan'ın **200** misketi vardır. Üç kişi, misketlerini birleştirip **eşit** olarak paylaşırlarsa, **bir kişiye** kaç misket düşer?

A) 175 B) 178
C) 182 D) 188

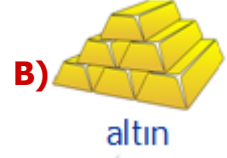
- 11)  Bir parktaki **232** çocuğun $\frac{2}{8}$ si gözlük kullanmaktadır. Parkta gözlük **kullanmayan** kaç çocuk vardır.

A) 174 B) 116
C) 58 D) 29

- 12)  Yandaki **saatin** öğleden sonra yazılışı, aşağıdaki seçeneklerden hangisinde **doğru** yazılmıştır?

A) 17.03 B) 16.15
C) 18.30 D) 19.15


- 13) Aşağıdaki maddelerden hangisi **karışım değildir**?



- 14) Aşağıdaki ifadelerden hangisi **doğrudur**?

A) Ayran saf bir madde değildir.
B) Salata karışım değildir.
C) Tuz saf bir madde değildir.
D) Çelik karışım değildir.

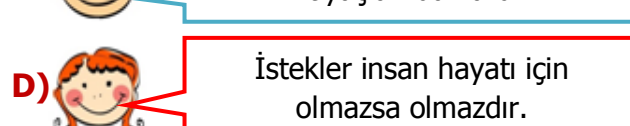
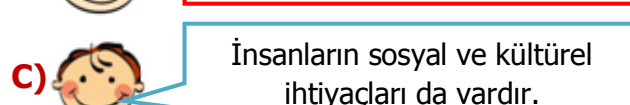
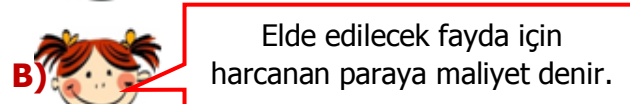
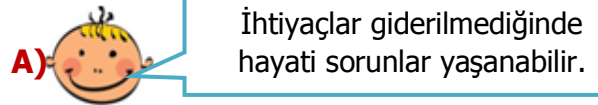
- 15)



Yukarıdaki resimlerden kaç tanesi **ihtiyaç** örneğidir?

A) 1 B) 2
C) 3 D) 4

- 16) Aşağıdaki çocuklardan hangisinin ifadesi **yanlıştır**?



CEVAP ANAHTARI

- | | |
|------|-------|
| 1) C | 10) B |
| 2) A | 11) A |
| 3) B | 12) D |
| 4) D | 13) B |
| 5) A | 14) A |
| 6) C | 15) C |
| 7) D | 16) D |
| 8) C | |
| 9) B | |